

۱- علی ۲۳ تا کتاب دارد. ۱۲ تا از آن‌ها کتاب داستان و بقیه کتاب علمی است. علی چند کتاب علمی دارد؟
(در این جا به جای کتاب از مربع استفاده کرده ایم.)


$$13 - 12 = 1$$



علی ۱ کتاب علمی دارد.

۲- زهرا ۳۷ عکس دارد. ۲۳ تا از عکس‌ها رنگی و بقیه سیاه و سفید هستند. زهرا چند عکس سیاه و سفید دارد؟

$$37 - 23 = 14$$



برای حل مسئله

۳- شکل زیر چه عددی را نشان می‌دهد؟ با رسم شکل پنجمین عدد بعد از آن را بنویسید. ۸

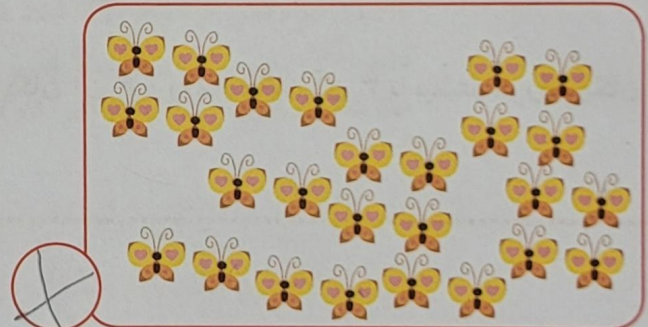

- ۱- مسئله را با دقت بخوانیم
- ۲- دور عدد ضابط بکشیم
- ۳- شکل بکشیم
- ۴- عبارت ریاضی
- ۵- نتیجه



$$13 + 5 = 18$$

حدس بزن

در کدام قسمت تعداد شکل‌ها بیشتر از ۲۰ تا است؟ ✕ بزنید.



حالا شکل‌ها را بشمارید. آیا حدس شما درست بود؟

یکی از راه‌های حل کردن مسئله کشیدن شکل مناسب است. برای این کار لازم نیست شکل‌های مسئله نقاشی شود، می‌توان از شکل‌های ساده استفاده کرد.