

آموختنی‌ها

- ۱ آشنایی با سفره‌ی هفت‌سین به عنوان یکی از رسوم ملی
- ۲ آداب قبل و بعد سال تحویل
- ۳ ویژه‌سازی با اضافه کردن (کباب)
- ۴ جمع‌کناتی که آخرشان (هـ) است (باطنه)



صفحه ی ۱۱۵ کتاب فارسی علوی

جعبه‌ی کلمات

کلمات هم‌معنی

- | | |
|------------------------------|------------------------|
| باعث: ... علت | نخستین: ... اولین |
| پایان: ... آخر | کهن: قدیمی |
| در این هنگام: ... در این وقت | اعضا: افراد |
| سال نو: ... سال جدید | جشن: ... سور و شادی |
| اکنون: ... حالا | در گذشتگان: ... مردگان |
| هنگام: ... وقت | جهان: ... دنیا |
| آرامگاه: ... مقبره | آماده: ... حاضر |

44/ هر سبزی: ... خرمی

صفحه ی ۱۱۵ کتاب فارسی علوی

کلمات مخالف

- | | |
|------------------------------|-----------------|
| بزرگ‌ترها = کوچک‌ترها | نخستین ≠ آخرین |
| آباد = خراب | قبل از ≠ بعد از |
| شمع‌های روشن = شمع‌های خاموش | شروع ≠ پایان |
| | کهن ≠ جدید |
| | پاکیزه ≠ کثیف |
| | جدید ≠ قدیم |





ارمغان هفته - دوم دبستان

نام و نام خانوادگی: تاریخ: نام آموزگار:

ریاضی ◀ فصل ۷: کسر و احتمال - حل مسئله - مفهوم احتمال

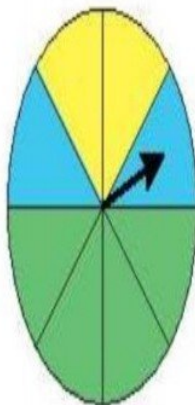
علوم ◀ درس ۱۳: بعد از جشن (۱)

فارسی ◀ درس ۱۵: نوروز (۲)

30/44

ریاضی

۱ یک صفحه‌ی چرخنده به صورت زیر رنگ آمیزی شده است. احتمال ایستادن عقربه بر روی هر کدام از رنگ‌ها را مقایسه کرده و در جاهای خالی از کلمات (کم‌تر - بیش‌تر - مساوی) استفاده کنید.



الف) احتمال ایستادن عقربه بر روی رنگ سبز از رنگ زرد **بیش‌تر** است.

ب) احتمال ایستادن عقربه بر روی رنگ زرد با احتمال ایستادن عقربه بر روی رنگ آبی **مساوی** است.

پ) احتمال ایستادن عقربه بر روی رنگ آبی از رنگ سبز **کم‌تر** است.

31/44

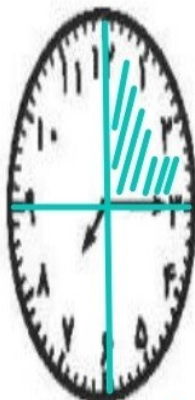
۲ بر نا ساعت ۷ از خانه بیرون آمد و ۱۵ دقیقه‌ی بعد به مدرسه رسید.

الف) او چند قسمت از یک ساعت را در راه بوده است؟

۱ قسمت از ۴ قسمت مساوی

ب) مقدار چرخش را رنگ کنید.

پ) چند قسمت از یک ساعت مانده تا ساعت ۸ را شود؟ ۳ قسمت از ۴ قسمت مساوی



32/44



پریسا ۱۲ سال و مادرش ۳۸ سال دارد. وقتی مادرش ۵۰ ساله شود، پریسا چند ساله می‌شود؟

۳۸

- ۱۲

۴۱۰

= ۲۶

۲۴

تفاوت سن پریسا و مادرش ۲۶

پریسا ۲۴ ساله می‌شود.



در یک کیسه ۲۰ مهره داریم. ۷ مهره سفید، ۵ مهره قرمز، ۴ مهره بنفش و ۴ مهره آبی.

الف) اگر یک مهره از کیسه بیرون بیاوریم، احتمال این‌که چه رنگی باشد بیش‌تر است؟

ب) ۷ مهره از ۲۰ مهره سفید است.

پ) ۵ مهره از ۲۰ مهره قرمز است.

ت) ۴ مهره از ۲۰ مهره بنفش است.


ث) ۴ مهره از ۲۰ مهره آبی است.



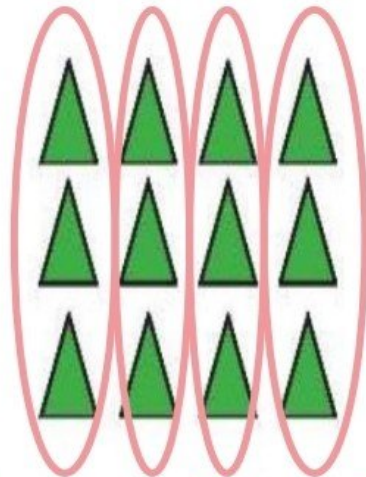
33/44



با توجه به شکل جمله‌ها را کامل کنید.



ب) ۳ دسته ۲ تایی می‌شود ۶



الف) ۴ دسته ۳ تایی می‌شود ۱۲

34/44

با توجه به متن درس جمله‌ها را با کلمات مناسب کامل کنید.

الف) روز **اول** فروردین را مردم **جشن** می‌گیرند و به این روز **نوروز** می‌گویند.

ب) پیش از شروع سال جدید همه‌ی مردم **خانه تکانی** می‌کنند و در جشن **نیکوکاری** شرکت می‌کنند.

پ) اعضای خانواده در لحظه‌ی تحویل سال **دعا** می‌کنند و از خداوند می‌خواهند **اخلاق** آن‌ها را خوب و خوب **تر** کند.

معنی کلمات زیر را بنویسید.

الف) نخستین: **اولین**

پ) در این هنگام: **در این وقت**

ب) کهن: **قدیمی**

ت) اعضا: **افراد**

39/44

کلمات داده شده را با (ان) جمع کنید و آن‌ها را مانند نمونه بنویسید.

پرنده	+	ان	←	پرندهگان
دیده	+	ان	←	دیدگان
بنده	+	ان	←	بندگان
ستاره	+	ان	←	ستارگان
جوینده	+	ان	←	جویندگان

40/44

واژه‌های مناسب را انتخاب کرده و در جاهای خالی بنویسید.

الف) **مددکار** کسی است که به دیگران کمک می‌کند.

ب) کسی که ظلم و ستم می‌کند **ستم کار** نام دارد.

پ) به کسی که کار نیک انجام می‌دهد **نیکوکار** می‌گویند.





واژه‌های مناسب را انتخاب کرده و در جاهای خالی بنویسید.



الف) **مددکار** کسی است که به دیگران کمک می‌کند.

ب) کسی که ظلم و ستم می‌کند **ستم‌کار** نام دارد.

پ) به کسی که کار نیک انجام می‌دهد **نیکوکار** می‌گویند.



مخالف هر کلمه را در جدول پیدا و رنگ کنید.

پایان	بیر	خاموش	روز
خراب	خواب	آغاز	آباد
اولین	کهنه	بیدار	جوان
شب	آخرین	روشن	نو