

نام و نام خانوادگی: تاریخ: نام آموزگار:


ریاضی < نوروژ

علوم < نوروژ



فارسی < نوروژ

ریاضی

الف) زمان سال تحویل را روی ساعت نشان دهید.



ب) با رسم ۲ ساعت مشخص کنید چه زمان‌هایی برای عید دیدنی به خانه‌ی اقوام رفتید؟



الف) مربعی بکشید که اندازه‌ی هر ضلع آن ۵۰ میلی‌متر باشد.

ب) فرض کنید این مربع یک سفره‌ی هفت سین است. آن را تزئین کنید.

الف) حاصل جمع و تفریق‌های زیر را بنویسید. (به روش تکنیکی)

$$\begin{array}{r} 402 \\ -228 \\ \hline \end{array}$$

$$\begin{array}{r} 600 \\ -151 \\ \hline \end{array}$$

$$\begin{array}{r} 344 \\ -120 \\ \hline \end{array}$$

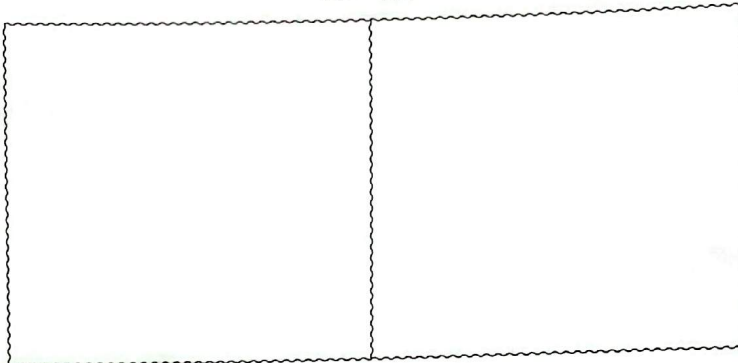

$$\begin{array}{r} 193 \\ +108 \\ \hline \end{array}$$

در کتابخانه‌ی مدرسه‌ی علوی ۵۰۰ کتاب بود. دانش‌آموزان کلاس دوم ۹۵ کتاب و کلاس سوم ۱۰۷ کتاب از کتابخانه امانت گرفتند. در کتابخانه چند کتاب باقی مانده است؟

۴

سارا برای این که در عید نوروز از میهمانان خود پذیرایی کند حیاط را با گل‌های زیبا تزیین کرد. حالا به سارا کمک کنید تا کارش را تمام کند. (استفاده از برجسب)

۵



علوم

تصاویر را به ترتیب فصل‌ها رنگ کنید و اسم هر فصل را زیر آن بنویسید. با یک علامت مشخص کنید نوروز در کدام یک از فصل‌ها است.

۱



..... (۴)

..... (۳)

..... (۲)

..... (۱)

خانواده‌ی آقای احمدی در ایام نوروز به کنار رودخانه رفتند. بعد از رسیدن با منظره‌ی زیر روبه‌رو شدند به آن‌ها کمک کنید تا چیزهایی که باعث آلودگی آب می‌شود را پیدا و دور آن خط بکشید.

۲



۲

۳ الف) روز ۱۵ اسفند چه روزی است؟ (دلیل نام گذاری آن را در دو جمله توضیح دهید.)
 ب) اگر بخواهید مردم را به همکاری در این روز بزرگ دعوت نمایید، چه می‌کنید؟

۴ در ایام نوروز با مواد خوراکی متفاوت از میهمانان خود پذیرایی می‌کنید. به این خوراکی‌ها با دقت نگاه کنید و در جدول زیر ۳ خوراکی جامد و ۳ خوراکی مایع بنویسید.

مایع	جامد

۵ دیروز یک فرفره درست کردم. فرفره را در مسیر باد قرار دادم تا بفهمم شدت وزش باد چقدر است. هرگاه فرفره تند می‌چرخید می‌فهمیدم که شدت وزش باد است و هرگاه فرفره آرام می‌چرخید شدت وزش باد است.

فارسی

۱ با استفاده از کلمات زیر درباره‌ی فصل بهار و زیبایی‌های آن سه جمله بنویسید.

- پرنده‌گان
- سرسبزی
- برگ درختان

.....

.....

.....

۲ به اول هر کلمه (می) اضافه کنید و برای هر یک جمله بسازید.

.....	←	←	رفتی
.....	←	←	گذاشت
.....	←	←	انداختند


زیر املاي کلمه‌هایی که اشتباه است خط بکشید و شکل صحیح آن‌ها را بنویسید.

۳

صدای ازان	بامزه	راهنمایی و راننده‌گی	وطن ازیزمان
.....

در موقع تحویل سال چه دعایی خوانده می‌شود؟ از بزرگ‌ترها پیرس و بنویسید و با توجه به معنی آن یک نقاشی بکشید.

۴



.....

.....

.....

.....

در یک نامه برای عمو نوروز بنویسید که در ایام عید چه برنامه‌هایی دارید؟ (زیبا می‌شود اگر یک پاکت‌نامه را تزئین کنید و نوشته‌ی خود را درون آن قرار دهید و به صفحه بچسبانید.) (استفاده از برچسب)

۵



- سرعت و جهت باد
- جمله‌سازی
- ساخت کلمه با ترکیب «می»
- املا
- نقاشی از مفهوم دعای سال تحویل

- نمایش زمان روی ساعت
- رسم شکل
- حل مسئله
- شناخت فصل‌ها
- موارد آلوده کننده‌ی طبیعت

شاخص‌ها

- خیلی خوب
- خوب
- قابل قبول
- نیاز به تلاش بیشتر

۴

ارمغان هفته - دوم دبستان

شماره‌ی

۲۷

نام و نام خانوادگی: تاریخ: نام آموزگار:

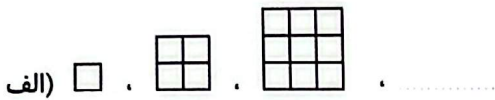
ریاضی < نوروژ

علوم < نوروژ

فارسی < نوروژ

ریاضی

۱ الگوها را ادامه دهید.



ب) ۱ - ۴ - ۹ - ۱۶ - -

۲ جاهای خالی را کامل کنید.

الف) اندازه‌ی انگشت نشانه‌ی خودت سانتی‌متر است.

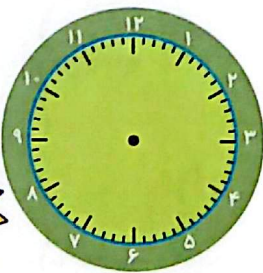
ب) اندازه‌ی انگشت نشانه‌ی مادرت سانتی‌متر است.

پ) اندازه‌ی انگشت نشانه‌ی پدرت سانتی‌متر است.

۳ با رقم‌های ۵، ۲ و ۳ همه عددهای سه‌رقمی را بنویسید که جمع یکان و صدگان‌شان برابر با دهگان باشد.

(به روش حذف حالت‌های نامطلوب)

۴ پاسخ هر سؤال را با رنگ داده شده روی ساعت نشان دهید و در جای خالی بنویسید.



۵ دقیقه بعد از ساعت ۱۱:۵۵ چه زمانی است؟

۱۰ دقیقه قبل از ساعت ۴:۲۰ چه زمانی است؟

۲۰ دقیقه بعد از ساعت ۷:۲۰ چه زمانی است؟

۱۵ دقیقه بعد از ساعت ۶:۳۵ چه زمانی است؟

۵ پدر برنا یک کتاب ۱۳۵ صفحه‌ای به او داد. برنا روز اول ۶۵ صفحه و روز دوم ۴۹ صفحه از کتابش را خواند.

الف) برنا چند صفحه از کتابش را خواند؟

ب) او چند صفحه‌ی دیگر باید بخواند تا کتابش به پایان برسد؟

جدول زیر را کامل کنید.

۶	۲	۹	۸	۳		۱	۴	۵
۷	۸	۱	۴	۹		۳	۲	۶
۴	۳		۲	۶		۸	۹	۷
۵	۷	۳	۶	۴	۲	۹	۸	۱
۹	۴		۳	۱	۸	۷	۵	۲
۸	۱	۲		۵	۹			۴
۲	۹				۴			۳
۱	۶	۸		۲	۳	۴		۹
	۵	۴	۹	۷	۶	۲	۱	۸

علوم


از تصویرهای زیر چه چیزی یاد می‌گیرید؟




۲. جدولی زیبای من.

مواد لازم: سیب‌زمینی و پیاز

توضیح: پیاز و سیب‌زمینی را از وسط به دو قسمت مساوی تقسیم کنید. با قلمو روی یک قسمت از آن‌ها را با گواش رنگ کنید قسمت رنگ شده را به آرامی روی کاغذ قرار دهید و چند لحظه نگه دارید. این کار را چند بار تکرار کنید تا یک جدولی زیبا درست کنید. (منتظر اثر زیبای شما هستیم.)



۳ کدام یک از تصاویر زیر، صدای خوشایند دارد؟ آن را رنگ کنید.



فارسی

۱ الف) در کشور ما چه مراسمی قبل و بعد از شروع سال نو برگزار می‌شود؟



بعد



قبل

ب) آیا می‌دانید (روز طبیعت) چه روزی است؟

پ) در این روز چه کارهایی باید انجام داد؟

۲ کلمات مربوط به هم را وصل کنید.

نیکوکاری

قرمز

سال

عمیق

تحویل

نقش

ماهی

جشن

الف) از خانواده کمک بگیرید و نماد سین‌های سفره‌ی «هفت‌سین» را بنویسید. سپس برچسب تصویر آن‌ها را در سفره بچسبانید.
(یک سفره‌ی زیبا برای عید آماده کنید.)



ب) بهترین دعایی که در موقع تحویل سال می‌کنید، چیست؟

پ) عید نوروز به کجا رفته بودید؟

ت) اگر به جای حرف «سین»، یک حرف دیگر را انتخاب می‌کردید، چه چیزهایی روی سفره‌ی عید می‌گذاشتید؟ حرف ()

۴) اگر شما ماهی کوچولو بودید دوست داشتید به کجا سفر کنید؟ در مورد سفر خود ۳ سطر بنویسید. (برچسب یک تنگ ماهی زیبا را کنار نوشته‌هایت بچسبان.)

.....

.....

.....

	◀ صداهای خوشایند
	◀ مراسم‌های نوروز
	◀ هم‌معنی کلمات
	◀ نمادهای سفره‌ی هفت‌سین
	◀ داستان‌نویسی

	◀ الگویابی
	◀ اندازه‌گیری
	◀ حل مسئله
	◀ جدول سودوکو
	◀ خلاقیت

شماخص‌ها

- خیلی خوب
- خوب
- قابل قبول
- نیاز به تلاش بیشتر