

شماره‌ی

۲۲

ارمغان هفته - دوم دبستان

نام و نام خانوادگی: تاریخ: نام آموزگار:

ریاضی < فصل ۶ جمع و تفریق اعداد سه رقمی: حل مسئله - زیر مسئله - جمع و تفریق در جدول ارزش مکانی

علوم < درس ۱۱: من رشد می‌کنم (۲)


فارسی < درس ۱۴: پرچم (۱)

ریاضی

۱ الگو را پیدا کرده و ادامه دهید.




(۱)




(۲)



(۳)



(۴)



(۵)



(۶)

۲ اگر یک گلدان ۱۰۰ ریال، یک گل ۱۰ ریال و یک برگ ۷ ریال باشد، ارزش هر کدام از وسایل و گل‌های زیر را بنویسید.

الف) ۶ گلدان، ۷ گل و ۴ برگ = ریال

ب) ۲ گلدان، ۶ گل و ۷ برگ = ریال

پ) ۷ گلدان و ۱ گل = ریال

۳۲ دسته‌ی ده‌تایی مداد در یک مغازه وجود دارد. فروشنده ۱۹۷ مداد به آن‌ها اضافه کرد.



الف) چند مداد در مغازه وجود دارد؟

ب) تعداد کل مدادها را به حروف بنویسید.

پ) تعداد کل مدادها را در جدول ارزش مکانی قرار دهید.

۴ الف) عددها را از کم‌تر به بیش‌تر مرتب کنید و بنویسید.



۳۰۹ - ۹۳۲ - ۹۲۳ - ۲۵۲ - ۷۰۳

< < < <

ب) هر کدام را به حروف بنویسید.

۵ قیمت یک توپ ۳۲۵ تومان است. علی به فروشنده ۵۵۰ تومان پول داد. چقدر باید از فروشنده پس بگیرد؟ (به کمک جدول ارزش مکانی)



علوم

۱ درست و نادرستی هر عبارت را مشخص کنید.

الف) می‌توان به جای انواع لبنیات، بستنی خورد.

ب) اندازه‌ی قد و وزن همه‌ی ما هنگام تولد یکسان است.

پ) بیش‌تر مواد خوراکی که تهیه می‌کنیم تاریخ مصرف دارند.

ت) مصرف زیاد غذای آماده، باعث چاقی می‌شود.

۲ جدول را حل کنید.



۱) رشد در همیشه ادامه دارد.

۲) با آن، قد خود را اندازه می‌گیریم.


۳) کودکان در ۶ سالگی، دندان دارند.

۴) غذای هفتگی و روزانه، باید باشد.

۵) با آن، وزن خود را اندازه می‌گیریم.

۱				
۲				
۳				
۴				
۵				

دوره‌های مختلف زندگی انسان را رنگ آمیزی کرده و به ترتیب شماره گذاری کنید.



دوست دندان‌ها کدام یک از شکل‌های زیر هستند، دور آن‌ها خط بکشید.

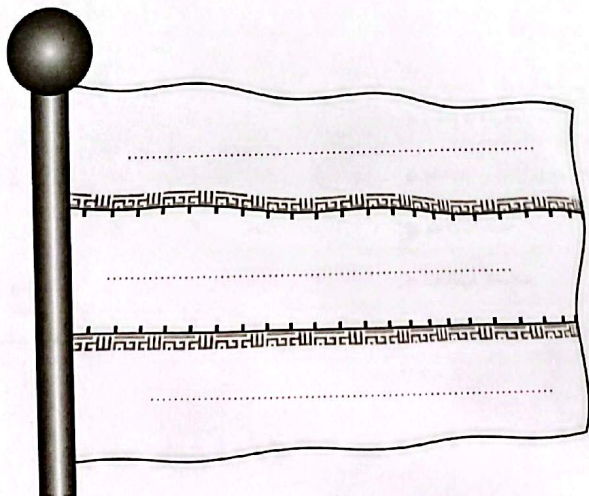


با کمک خانواده جدول را کامل کنید.

نام	قد	وزن	سن	پیشنهاد مواد غذایی سالم

فارسی

پرچم ایران را رنگ آمیزی کنید و بنویسید هر رنگ نشانه‌ی چیست؟



۲ با تغییر دادن نشانه‌ی آخر کلمات، کلمه‌ی جدید بسازید.

بال

سال

باز

تند

۳ مخالف کلمات داده شده را بنویسید.

صلح

آهسته


آزاد

گذشته

۴ هر کلمه را به جمله‌ی مربوط به آن وصل کنید.

- ⊕ ابریشمی
- ⊕ ساروی
- ⊕ سنگی
- ⊕ به کسی که اهل ساری است، می‌گویند.
- ⊕ به چیزی که از جنس سنگ باشد می‌گویند.
- ⊕ به چیزی که از جنس ابریشم باشد، می‌گویند.

۵ برای تصویر مقابل یک داستان کوتاه بنویسید. (۴ سطر)



.....

.....

.....

.....

رشد دندان‌ها

مفهوم رنگ‌های پرچم ایران

ساخت کلمه

مخالف کلمات

تشخیص عبارات مرتبط

الگویابی (ساعت)

حل مسئله و زیر مسئله

مرتب کردن اعداد

غذاهای سالم و ناسالم

دوره‌های مختلف زندگی انسان

شاخص‌ها

خیلی خوب

خوب

قابل قبول

نیاز به تلاش بیشتر