

به نام خدا


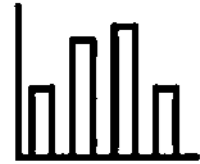
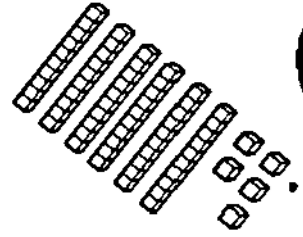
علوی



پایه دوم دبستان


نام و نام خانوادگی

ریاضی دوره ای فصل چهارم



به نام خدا  
نمونه سوالات فصل چهارم ریاضی پایه دوم دبستان

۱- سکه های ۱۰ ریالی و ۱۰۰ ریالی را مثل بسته های ده تایی و صد تایی تصور کن و پاسخ سوالات زیر را بنویس.



ج) اگر ۷۰ سکه ی ۱ ریالی به بانک بدهی، بانک ..... سکه ی ..... می تواند به تو بدهد.

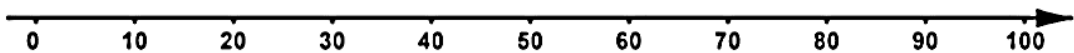
د) اگر ۳۰ سکه ی ۱ ریالی به بانک بدهی، بانک ..... سکه ی ۱۰ ریالی به تو می دهد.

الف) اگر ۱۰۰ سکه ی ۱ ریالی به بانک بدهی، بانک چند سکه ی ۱۰ ریالی به تو می دهد؟ .....

ب) اگر ۱۰ سکه ی ۱۰ ریالی به بانک بدهی، بانک چند سکه ی ۱۰۰ ریالی به تو می دهد؟ .....

۲- خانم اردک برای این که به بچه هاش برسه باید سه تا سه تا اعداد رو بره جلو. بهش کمک می کنی؟

۳- با توجه به محور کامل کن.



$10 + \dots = 100$

$40 + \dots = 100$

$20 + \dots = 100$

$100 - \dots = 20$

$100 - 50 = \dots$

$\dots + 70 = 100$

۴- مقدار پول های زیر چقدر است؟




ریال .....



ریال .....

۵- پاسخ بده (می توانی از ساعت رو به رو استفاده کنی) .

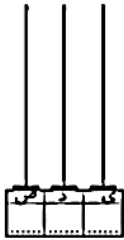


۱۵ دقیقه بعد از ساعت ۲ و ربع چه ساعتی است؟  
.....  
۳۰ دقیقه بعد از ساعت ۷:۳۰ دقیقه چه ساعتی است؟  
.....



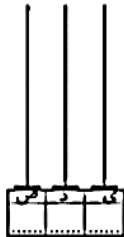
نیم ساعت بعد از ساعت ۱۱:۳۰ چه ساعتی است؟  
.....  
یک ربع بعد از ساعت ۹:۱۰ چه ساعتی است؟  
.....

۶- این مقادیر را اول در جدول ارزش مکانی قرار بده و سپس چرتکه را کامل کن و به عدد و حروف بنویس.



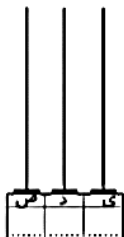
یکان	دهگان	صدگان

۳ دسته ی صدتایی و ۶ دسته ی ده تایی و ۵ تا یکی  
به عدد: .....  
به حروف: .....



یکان	دهگان	صدگان

۹ دسته ی صدتایی و ۵ دسته ی ده تایی و ۸ تا یکی  
به عدد: .....  
به حروف: .....



یکان	دهگان	صدگان

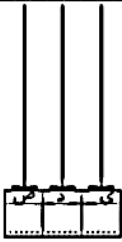
۷ دسته ی صدتایی و ۴ دسته ی ده تایی و ۰ تا یکی  
به عدد: .....  
به حروف: .....

۲ دسته ی صدتایی و ۰ دسته ی ده تایی و ۸ تا یکی

به عدد: .....

به حروف: .....


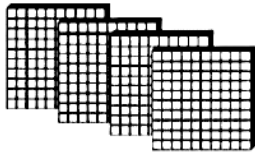
یکان	دهگان	صدگان



۷- به ترتیب کامل کن.



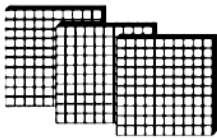
۸- عددی را که هر شکل نشان می دهد در جدول بنویس و برای جدول آخری خودت شکل بکش.



یکان	دهگان	صدگان

به عدد: .....


به حروف: .....



یکان	دهگان	صدگان

به عدد: .....

به حروف: .....



یکان	دهگان	صدگان

به عدد: .....

به حروف: .....

صدگان	دهگان	یکان
۶	۰	۵

به عدد: .....

به حروف : .....



۹- به رقم بنویس.

ششصد و پنجاه و چهار .....

دویست و سی و هفت .....

نهصد و نه .....

سیصد و چهل .....



۲۰۸.....

۱۶۹.....

۸۳۵.....

۵۷۳.....

۱۰- به حروف بنویس.

۱۱- این سکه را با چه سکه هایی می توان عوض کرد؟ ( می توانی شکل بکشی ).



..... سکه ی ۱۰۰ ریالی یا

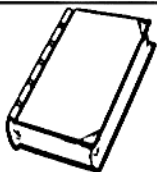
..... سکه ی ۱۰۰ ریالی و ..... سکه ی ۵۰ ریالی یا

..... سکه ی ۵۰ ریالی

۱۲- نام کتاب هاب درسی امسالت را در جاهای خالی بنویس و سپس به هر کدام نگاه کن چند صفحه دارند؟ به عدد و حروف بنویس.

به عدد: .....

به حروف: .....



به عدد: .....

به حروف: .....



به عدد: .....  
به حروف: .....



به عدد: .....  
به حروف: .....



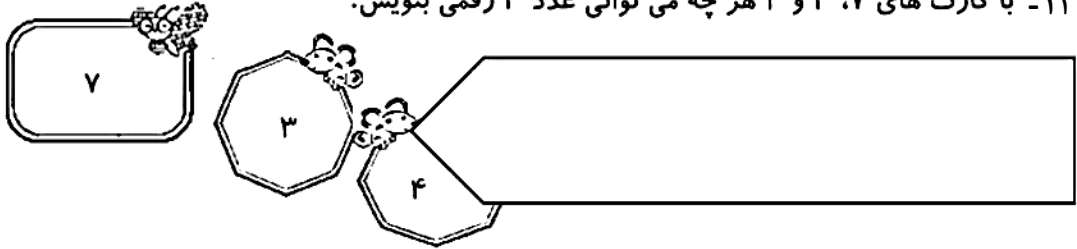
به عدد: .....  
به حروف: .....



به عدد: .....  
به حروف: .....



۱۳- با کارت های ۷، ۳ و ۴ هر چه می توانی عدد ۳ رقمی بنویس.



الف) کدام عددها رقم یکانشان از دهگان و صدگان بیشتر است؟ .....

ب) کدام عددها اگر رقم های یکان و دهگانشان را جمع کنیم برابر با رقم صدگان می شود؟  
.....

ج) در کدام عددها بزرگترین رقم، دهگان است؟ .....

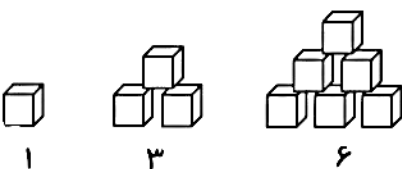
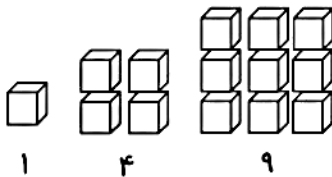
د) در کدام عددها یکان ۴ است؟ .....

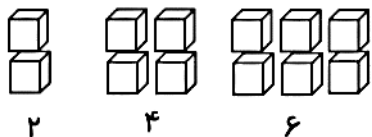
ه) بزرگترین عدد کدام است؟ .....

و) در کدام عددها صدگان از دهگان بیشتر است؟ .....

۱۴- با کارت های ۰، ۳ و ۹ هر چه می توانی عدد ۳ رقمی بنویس.  
.....

۱۵- الگوها را ادامه بده.





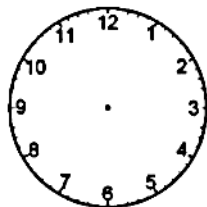
۲

۴

۶

۳ - ۶ - ۱۰ - ۱۵ ..... .....

۱۶- به سوالات زیر جواب بده (اگر خواستی می توانی از ساعت زیر کمک بگیری).



ساعت ۷:۲۰ است. ۲۵ دقیقه دیگر ساعت چند می شود؟



ساعت ۹:۱۰ است. ۳۰ دقیقه ی دیگر ساعت چند می شود؟



یک ربع بعد از ساعت ۱۲:۱۵ چه ساعتی است؟



نیم ساعت بعد از ساعت ۲:۲۰ چه ساعتی است؟

ساعت ۴:۵ است ، یک ساعت و ربع دیگر ساعت چند می شود؟




ساعت ۸:۲۰ است ، نیم ساعت دیگر ساعت چند می شود؟



۱۷- از عدد ۷۳۰ تا ۸۱۰ ده تا ده تا بنویس.

۱۸- حاصل جمع و تفریق های زیر را به صورت ذهنی

یا به کمک محور به دست آور.



۱۹- مادر بزرگ پروانه برایش تعریف می کرد که وقتی بچه بود ۱۴۷ ریال پس انداز کرده بود. عید

نوروز ۷ ریال را برای خرید کفش و ۱۰ ریال را برای خرید مانتو خرج کرد. الان تو بگو چقدر از پول

مادر بزرگ پروانه باقی مانده بود؟



۲۰- گروه پرستو در کلاس شان طی مسابقه ای ۲۳۵ امتیاز جمع

کردند و گروه رقیب شان ۳۴۶ امتیاز. به صورت تقریبی چند امتیاز

عقب هستند؟

۲۱- پس از حذف رقم یکان و دهگان، حاصل را به دست آور.

$$\begin{array}{r} + 547 \\ 236 \\ \hline \end{array} \rightarrow \underline{\quad\quad\quad}$$
$$\begin{array}{r} - 975 \\ 409 \\ \hline \end{array} \rightarrow \underline{\quad\quad\quad}$$
$$\begin{array}{r} + 308 \\ 308 \\ \hline \end{array} \rightarrow \underline{\quad\quad\quad}$$

۲۲-

عدد ۲۴۷ به ۲۴۰ نزدیکتر است یا ۲۵۰؟

عدد ۶۲۱ به عدد ..... نزدیکتر است یا ۶۳۰؟

عدد ۹۷۳ به عدد ۹۷۰ نزدیکتر است یا .....؟

عدد ۴۵۵ به عدد ..... نزدیکتر است یا .....؟

