

تعمیر



۱. جدول های زیر را کامل کن.

هزارگان	صدگان	دهگان	یکان
۲	۹	۷	۳
+ ۴	۵	۲	۶
۷	۳	۹	۹

ه	ص	د	ی
۸	۷	۶	۴
+ ۱	۱	۲	۳
۹	۸	۸	۷



۲. جمعی که شکل را در جدول ارزش مکانی بنویس.

هزارگان	صدگان	دهگان	یکان
۴	۳	۵	۶
۰	۷	۱	۷
۸	۰	۷	۳



۳. باقی مانده‌ی تفریق ۳۸۶۴ می‌باشد. اگر عدد دوم این تفریق ۴۳۲۹ باشد. عدد اول تفریق را بنویس.

$$\begin{array}{r} \square \\ - 4329 \\ \hline 3864 \end{array}$$

$$3864 + 4329 = 8193$$

۵. فاصله خانه او تا مدرسه ۳۰۴۵ متر است. او در رفت و برگشت به مدرسه چند کیلومتر و چند متر را طی کرده است؟

$$3045 \times 2 = 6090$$

۶. برای خرید وسایل زیر چند تومان باید داشته باشیم؟

۳۵۴ ریال	۶۷۰ ریال	۲۸۰ ریال	۲۹۵ ریال	۱۷۰ ریال

$$354 + 670 + 280 + 295 + 170 = 1769$$


۷. محیط مربعی که مجموع دو ضلع آن ۱۲ سانتی‌متر باشد چند میلی‌متر است؟

$$12 \times 2 = 24 \text{ (میلی‌متر)}$$

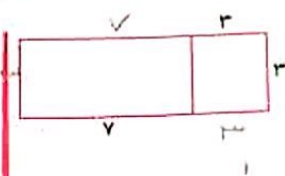
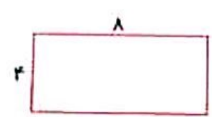
$$24 \times 2 = 48 \text{ (میلی‌متر)}$$



مجموع طول و عرض مستطیلی ۲۲ سانتی متر است. محیط این مستطیل چند سانتی متر است؟



۸۲. معادنی متر $2 \times (عرض + طول) =$ محیط مستطیل
 محیط مستطیل های زیر را به دست بیاور. $2 \times (12 + 10) = 44$ متر



مجموع طول و عرض مستطیلی ۲۲ سانتی متر است. محیط این مستطیل چند سانتی متر است؟
 $2 \times (12 + 10) = 44$ متر

مجموع طول و عرض مستطیلی ۲۲ سانتی متر است. محیط این مستطیل چند سانتی متر است؟
 $2 \times (12 + 10) = 44$ متر

مجموع طول و عرض مستطیلی ۲۲ سانتی متر است. محیط این مستطیل چند سانتی متر است؟
 $2 \times (12 + 10) = 44$ متر

صاحب یک فروشگاه ۱۴۵۳ مداد سیاه و ۲۵۶۱ مداد قرمز فروخته است. او روی هم چند مداد فروخته است؟

$$1453 + 2561 = 4014$$

۴۰۱۴ مداد فروخته است.