

شماره‌ی

۶

ارمغان هفته - سوم دبستان

نام خانوادگی: تاریخ: نام آموزگار:

مطالعات اجتماعی < درس ۲: اعضای خانواده

ریاضی < فصل ۲: الگو سازی



هدیه‌های آسمان < درس ۳: همیشه با من

علوم < درس ۲: خوراکی‌ها

قرآن < جلسه‌ی پنجم و ششم

فارسی < درس ۳: آسمان آبی، طبیعت پاک

ریاضی

۱ دور وسایلی که شبیه به  هستند خط آبی و دور وسایلی که شبیه به  را خط قرمز بکشید.



۲ درنا و پدرش در حال حل کردن جدول اعداد هستند. به آن‌ها کمک کنید تا اعداد مورد نظر را به دست آورند.

الف) من عددی سه رقمی هستم که یکانم بزرگ‌ترین عدد فرد یک رقمی است، دهگانم ۲ تا کم‌تر از یکانم است و صدگانم ۹ می‌باشد.

یکان	دهگان	صدگان	
۹	۷	۹	۹۷۹

ب) عددی سه رقمی هستم که صدگانم بزرگ‌ترین عدد زوج یک رقمی است، دهگانم ۳ تا کم‌تر از صدگانم و یکانم صفر می‌باشد.

یکان	دهگان	صدگان	
۰	۵	۸	۸۵۰

۳ عددهای سه رقمی را بنویسید که رقم یکان آن‌ها ۰ و ۳ و ۴ و رقم دهگان آن‌ها ۸ و رقم صدگان آن‌ها ۲ یا ۹ باشد.

۲ → ۸ →

- ۰ → ۲۸۰
- ۴ → ۲۸۴
- ۳ → ۲۸۳

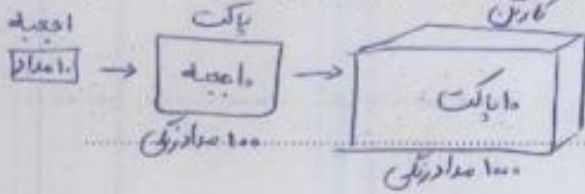
۹ → ۸ →

- ۰ → ۹۸۰
- ۴ → ۹۸۴
- ۳ → ۹۸۳

۱



۲ در یک مفازه‌ی لوازم تحریری، هر ۱۰ عدد مداد رنگی را در یک جعبه‌ی مقوایی و هر ۱۰ جعبه‌ی مقوایی را در یک پاکت و هر ۱۰ پاکت را در یک کارتن می‌گذارند.



الف) در هر کارتن چند مداد رنگی قرار دارد؟

۱۰۰۰ مداد رنگی

ب) در هر پاکت چند مداد رنگی وجود دارد؟

۱۰۰ مداد رنگی

پ) اگر در این مفازه ۲ کارتن مداد رنگی باشد، چند مداد رنگی در مفازه وجود دارد؟

۲۰۰۰ مداد رنگی

علوم

۱ جاهای خالی را با استفاده از کلمات زیر، کامل کنید.

ویتامین‌ها - ید - نشاسته‌ها - شکر - نمک

الف) گروه دوم مواد غذایی، ویتامین‌ها هستند و برای سلامتی بدن لازم‌اند.

ب) استفاده‌ی زیاد از نمک باعث بالا رفتن فشار خون می‌شود.

پ) بدن ما به ید احتیاج دارد که در نمک وجود دارد، ولی اگر نمک زود به غذا اضافه شود، آن ماده در اثر گرما از بین می‌رود.

۲ درستی و نادرستی هر عبارت را مشخص کنید.


الف) مواد نگهدارنده باید حتماً در مواد غذایی استفاده شود تا برای بدن مفید باشند.

ب) سیب‌زمینی در گروه پروتئین‌ها می‌باشد.

۳ تاریخ تولید یک بسته بیسکویت ۹۶/۲/۱۷ و تاریخ انقضای آن ۹۶/۱۰/۱۷ می‌باشد. تاریخ مصرف آن چند ماه است؟

تاریخ مصرف آن ۸ ماه است

۴ در هر بخش ماده‌ی غذایی که با بقیه متفاوت است را خط بزنید.



فارسی

۱ نام مربوط به هر ورزش را در جای مشخص شده بنویسید.



بسکتبال

فوتبال

دویدن

شنا

۲ نام نویسنده‌ی داستان «قصه‌ی تنگ بلور» چیست؟ *نورعلی*

۳ کلمه‌های در هم ریخته را مرتب کنید و جمله‌ی مرتب شده را زیبا بنویسید.

(الف) اطراف - تمام - لانه‌ی - حیوانات - خود - می‌کنند - را - تمیز .

حیوانات تمام اطراف لانه‌ی خود را تمیز می‌کنند.

(ب) کودک - بر لب - با - تعجب - را - قایق - ساحل - نگریست .

کودک بر لب ساحل قایق را با تعجب نگریست.

۴ برگ‌های هم خانواده را هم‌رنگ کنید.



۵ جمله‌های زیر را از حالت گفتاری به صورت نوشتاری بنویسید.

(الف) دانش آموزای مدرسه که از اردو اومده بودن، شاد بودن چون خیلی بهشون خوش گذشته بود.

دانش آموزان مدرسه که از اردو آمده بودند، شاد بودند چون خیلی به آنها خوش گذشته بود.

(ب) خوب نگاه کنین تا زیبایی‌های طبیعت در پاییز ببینین.

خوب نگاه کنید تا زیبایی‌های طبیعت را در پاییز ببینید.

مطالعات اجتماعی

۱ خانواده چگونه به وجود می آید؟

با ازدواج زن و مرد خانواده به وجود می آید.

۲ با تولد فرزندان، تعداد اعضای خانواده بیشتر می شود.

۳ حداقل تعداد اعضای خانواده ۲ نفر است.

۴ خانواده‌ی شما چند نفره است؟ اسامی اعضای خانواده‌ی خود را بنویسید.

پایین و السراحت

۵ جاهای خالی را با کلمات مناسب کامل کنید.

(الف) گاهی بعضی از اعضای خانواده برای تحصیل یا کار به شهر دیگری می روند.

(ب) در خانواده‌ی بزرگ افراد می توانند بیشتر تر به هم کمک کنند.


(پ) اعضای خانواده یکدیگر را در دست دارند و از بودن با هم لذت می برند.

هدیه های آسمان - قرآن

۱ عبارت «وَأَشْهَدُ أَنْ مُحَمَّدًا عَبْدُهُ وَرَسُولُهُ» در چه قسمتی از نماز خوانده می شود؟

تکبیر

۲ با توجه به زندگی حضرت محمد (ص) موارد مرتبط را به هم وصل کنید.



- هم خانواده
- تبدیل گفتاری به نوشتاری
- خانواده و اعضای آن
- اعضای خانواده‌ی پیامبر (ص)
- ذکر تشهد

- عدد نویسی
- انگوسازی
- شناخت مکعب
- خوراکی های غیر مفید
- گروه های مواد غذایی

شناختن آنها

- حلیه خوب
- خوب
- قابل قبول
- ناراضی