

ارمغان هفته - سوم دبستان

شماره‌ی

۲۶

نام آموزگار:

تاریخ:

نام خانوادگی:

مطالعات اجتماعی < نوروژ

ریاضی < نوروژ

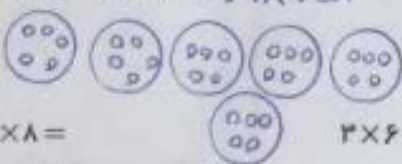
هدیه‌های آسمان < نوروژ

علوم < نوروژ

قرآن < نوروژ

فارسی < نوروژ

$۷ \times ۸ = ۵۶ \Rightarrow ۸, ۱۶, ۲۴, ۳۲, ۴۰, ۴۸, ۵۶$

$۴ \times ۵ = ۲۰ \Rightarrow$ 

$۸ \times ۸ =$

$۸ \times ۵ =$

ریاضی

۱ حاصل ضرب‌های زیر را با روش دلخواه به دست بیاورید.

$۳ \times ۶ = ۱۸$ 

$۴ \times ۹ = ۳۶$



$۸ \times ۸ = ۶۴ \Rightarrow ۸, ۱۶, ۲۴, ۳۲, ۴۰, ۴۸, ۵۶, ۶۴$

$۵ \times ۴ = ۲۰ \Rightarrow ۴+۴+۴+۴+۴=۲۰$

۲ حاصل جمع و تفریق‌های زیر را از راه گسترده نویسی (فرآیندی) به دست آورید.

$$\begin{array}{r} ۳۴۹۰ \\ + ۱۶۷۸ \\ \hline ۴۴۹۰ \\ + ۴۷۸ \\ \hline ۵۰۶۰ \\ + ۷۸ \\ \hline ۵۱۳۸ \\ + ۸ \\ \hline ۵۱۴۶ \end{array}$$

$$\begin{array}{r} ۵۳۳۸ \\ - ۲۳۶۲ \\ \hline ۳۴۴۸ \\ - ۳۴۲ \\ \hline ۳۱۰۶ \\ - ۴۲ \\ \hline ۳۰۶۴ \\ - ۳۰۷۸ \\ \hline ۳۰۷۴ \end{array}$$

۳ برای تقسیم زیر شکل بکشید و یک مسئله برای آن بنویسید.

$۱۸ \div ۹ = ۲$



سارا هر روز ۷ صفحه از کتاب داستان را

می‌خواند. او ۱۴ صفحه از کتاب را چند روز می‌تواند بخواند؟

۴ محیط و مساحت شکل زیر را به دست آورید.



محیط = $۲+۲+۸+۶+۶+۴ = ۲۸$

مساحت ۱ = $۲ \times ۲ = ۴$

مساحت ۲ = $۶ \times ۶ = ۳۶$

\Rightarrow مساحت کل = $۳۶+۴ = ۴۰$

۵ تمام اعداد سه رقمی با صدگان ۷ و یکانی که ۳ واحد از دهگان بیش تر باشد را بنویسید.

$۷۰۳ - ۷۱۴ - ۷۲۵ - ۷۳۶ - ۷۴۷ - ۷۵۸ - ۷۶۹$

یکان | دهگان | صدگان

۷	۰	۳
۷	۱	۴
۷	۲	۵
۷	۳	۶
۷	۴	۷
۷	۵	۸
۷	۶	۹





۶ ماجرای خرید عزیز خانم:

روز شنبه عزیز خانم برای خرید مهمانی سال نو به مغازه‌ی سبزی فروشی رفت. او ۲ کیلوگرم سبزی آش و ۵ کیلوگرم سبزی پلو خرید. بعد به مغازه‌ی عطاری رفت و در آنجا ۵۰۰ گرم زردچوبه و ۱ کیلوگرم نمک و ۲۰۰ گرم خاکشیر خرید. پس از آن به بقالی رفت. او یک قوطی رب ۱ کیلوگرمی و ۴۵۰ گرم روغن جامد خرید. عزیز خانم بعد از ظهر به مغازه‌ی طلافروشی رفت و یک جفت گوشواره به وزن ۳ گرم برای عیدی نوه‌اش خرید.

با توجه به داستان به پرسش‌ها پاسخ دهید.

الف) عزیز خانم چند کیلوگرم سبزی خریده است؟

سبزی فروش: $۲ \text{ کیلوگرم} + ۵ \text{ کیلوگرم} = ۷ \text{ کیلوگرم}$

ب) خرید صبح عزیز خانم از کدام مغازه سبک‌تر بوده است؟

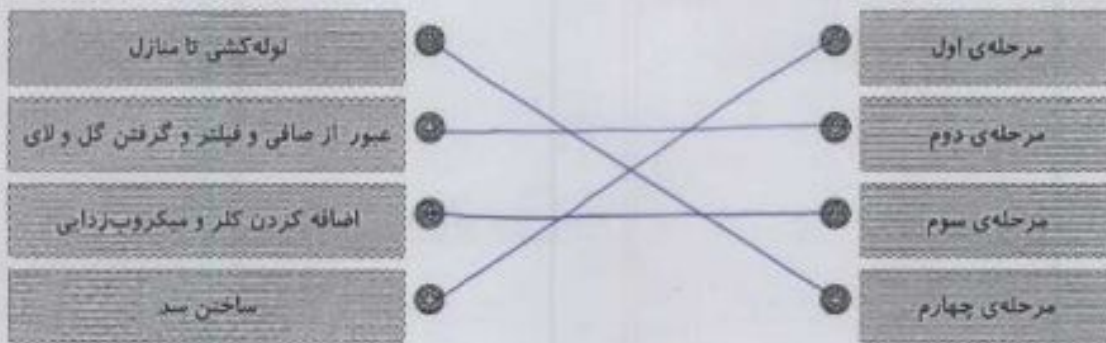
مغازه طلا فروشی سبک‌تر است.

پ) عزیز خانم در مغازه‌ی عطاری چند گرم خرید کرده است؟

۱۷۰۰ گرم خرید کرده است. $۱۰۰۰ + ۵۰۰ + ۲۰۰ = ۱۷۰۰ \text{ گرم}$

علوم


۱) مراحل تصفیه‌ی آب را به شماره‌ی آن وصل کنید.



۲) در این تعطیلات یک روز به پارک بازی بروید و لیستی از اهرم‌هایی که آن‌جا می‌بینید تهیه کنید.

الاکلنگ - جارو - بانجول - دستگاه مسکری - دستگاه نام‌زن (هوانورد)

حالا تصویر یکی از وسایل لیست خود را کشیده و محل جسم، نیرو و تکیه‌گاه را روی آن مشخص کنید.



آیا می‌توانید با پدرتان الاکلنگ بازی کنید؟ یک پیشنهاد برای این موضوع بدهید.

بله. هرگاه در دو طرف اهرم دو جسم با جرم‌هایی نامساوی قرار گیرند برای ایجاد تعادل باید جسم سنگین‌تر

بر تکیه‌گاه نزدیک‌تر شود. بنابراین بیروم باید نزدیک‌تر به تکیه‌گاه
نفسه تا بتوانیم تعادل برقرار کنیم.

۲





اطلاعات زیر را درباره‌ی نوع اجزای گیاه زیر کامل کنید.

- ریشه: *اجسام*
- ساقه: *تارک و توتخالیج*
- برگ: *دراز و پاره‌پاره*
- دانه: *تک هسته‌ای*

فارسی

شعر زیر را کامل کنید.

گفتم به گوش باغ آن باغ زیبا گفت:
این نقش‌ها از کیست؟ *نقاش این دنیا*
بیراست است *تفا خداوند است*
نقاش این عالم است! *آن خالق است*

جملات زیر را با فعل‌های مناسب کامل کنید (یک فعل اضافی است).

خورد ، بوئید ، شنید ، خواند ، رفت ، دوید

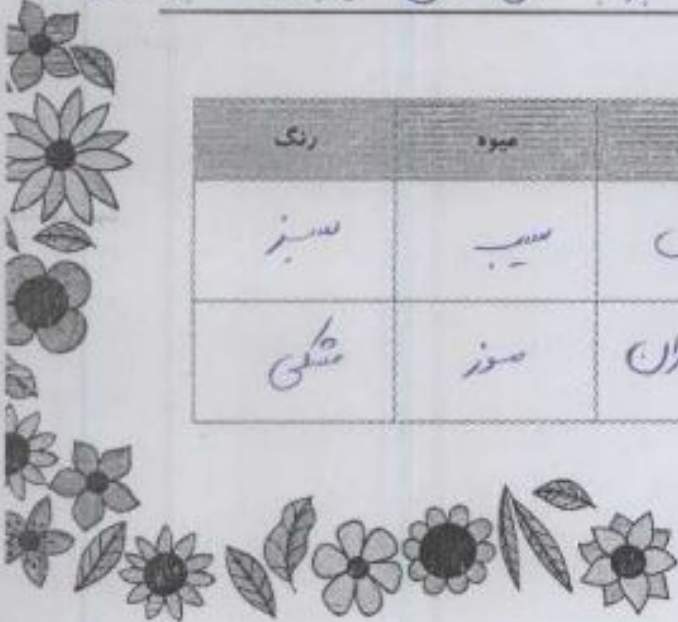
- الف) مریم گل را *بوئید*
- ب) رضا به ملاقات دوستش *رفت*
- پ) نرگس قصه را برای خواهرش *خواند*
- ت) پدر بزرگ صدای اذان مسجد را *شنید*
- ث) علی یک بستنی قیفی *خورد*

به هر کدام از کلمه‌های زیر، کلمه‌ای اضافه کنید و عبارت را در جمله‌ای به کار ببرید.

تاریخ : *تاریخ تولد هرکس در دنیا ساخته می‌شود*
کوره‌ی آجرپزی : *کوره‌ی آجرپزی در کوره‌ی آجرپزی می‌گردد*
پرندگان : *پرندگان در کوره‌ی آجرپزی می‌گردد*

بیاید با هم اسم فامیل بازی کنیم. جدول زیر را کامل کنید.

حرف	اسم	فامیل	شهر	میوه	رنگ
س	<i>سارا</i>	<i>سلیمانی</i>	<i>ساری</i>	<i>سیب</i>	<i>سبز</i>
م	<i>مریم</i>	<i>محمسنی</i>	<i>مازندران</i>	<i>موز</i>	<i>مشکی</i>



مطالعات اجتماعی

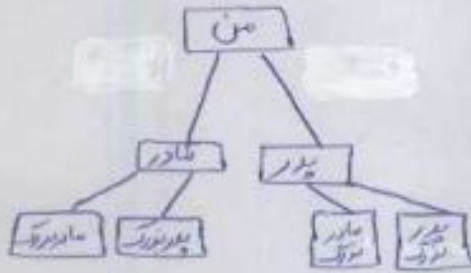
۱ الف) در شهر شما معمولاً خانه‌ها به چه شکلی هستند؟

اسکله‌های آسمانی - به دلیل جمعیت زیاد

ب) اگر در ایام عید به سفر رفته‌اید خانه‌ها در آن شهرها چه شکلی داشتند؟

به سالی بر صفت بودیم و خانه‌ها بسیار و این (به دلیل بارش فراوان) بودند

۲ شجرنامه‌ی خانوادگی خود را بکشید.



هدیه‌های آسمان - قرآن

۱ موارد مرتبط را به یکدیگر وصل کنید. (دو مورد اضافی است.)

- خداوند در آن راه و رسم زندگی را به ما نشان داده است. ● شعبان
- در این ماه خدا بیش‌تر از ماه‌های دیگر به بندگانش پاداش می‌دهد. ● قرآن
- او همسر حضرت علی (ع) است. ● حضرت زینب (س)
- رمضان
- حضرت فاطمه (س)

۲ درستی و نادرستی هر عبارت را مشخص کنید.

- الف) روز مادر، روز میلاد حضرت زهرا (س) است.
- ب) جشن تکلیف، عید عبادت است.
- پ) در عید نوروز، نماز عید می‌خوانیم.

	● اهرم و کاربرد آن
	● ساخت فعل
	● کلمات ترکیبی
	● واژه‌شناسی
	● انواع خانه‌ها
	● شجره‌نامه
	● آشنایی با اسلام و ائمه‌ی اطهار

	● روش‌های ضرب
	● جمع و تفریق فرآیندی
	● مسئله‌ی تقسیم
	● محیط و مساحت
	● راهبرد مسئله
	● مراحل تصفیه آب
	● دسته‌بندی گیاهان

نمایشگاه

- حباب خوب
- خوب
- قابل قبول
- نیاز به تلاش بیشتر