
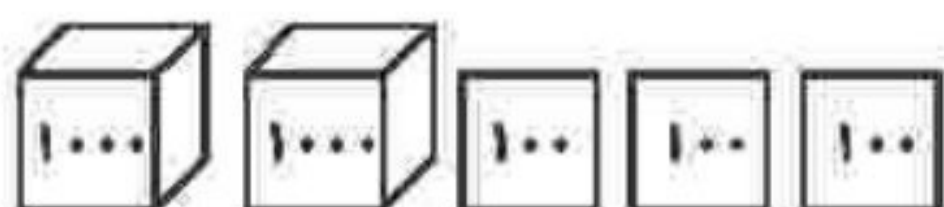
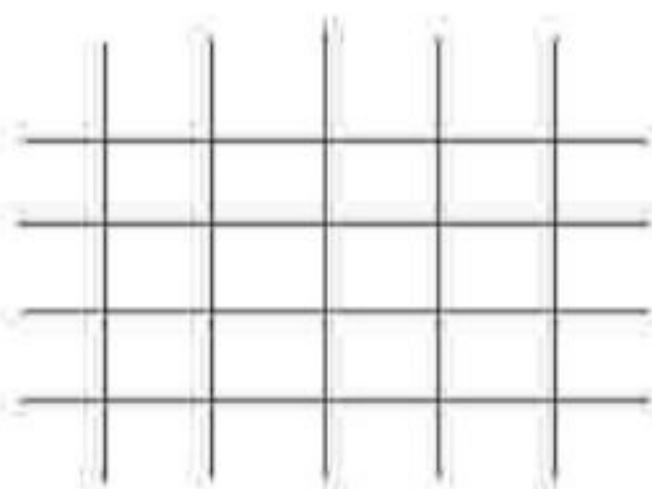


۴) با توجه به عددی که شکل نشان می‌دهد، جاهای خالی را به‌طور مناسب پر کنید.



شکل، عدد ..... (۲۳۴۶ - ۴۲۶۳) را نشان می‌دهد، که عددی ..... (۳ - ۴) رقمی است. رقم ..... (۴ - ۲) در مرتبه‌ی هزارگان قرار دارد و جمع رقم‌های یکان و صدگان ..... (۵ - ۹) می‌شود.

۵) از صفحه شطرنجی استفاده نموده، یک شکل متقارن به دلخواه کشیده و خط تقارن آن را مشخص نمایید.



۶) تمام عددهای سه رقمی را بنویسید که صدگان آن‌ها ۴، دهگان آن‌ها ۵ یا صفر و یکان آن‌ها ۹ یا ۸ باشد.

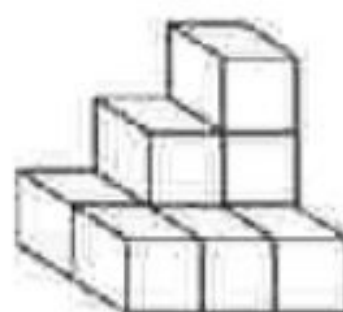
۲) جملات درست را با علامت ✓ و نادرست را با علامت \* مشخص کنید.

- الف) ۱۰۰۰ کلوچه در یک کیسه فریزر جا می‌شود.
- ب) ۵ هزارتایی و ۳ هزارتایی می‌شود ۸ هزارتایی
- پ) ۲۰۰ تومان، برابر ۲۰۰۰ ریال
- ت) ۴ هزارتایی و ۹ ده‌تایی می‌شود ۴۹۰۰

۷) ساختمان ۳ طبقه‌ای داریم. بالاترین طبقه‌ی آن ۱ واحد دارد اما هر طبقه که پایین می‌رویم یک واحد اضافه می‌شود. اگر در هر واحد ۲ اتاق داشته باشد:  
الف) جدول را کامل کنید.  
ب) طبقه دوم چند واحد دارد؟  
پ) طبقه‌ی اول چند اتاق دارد؟

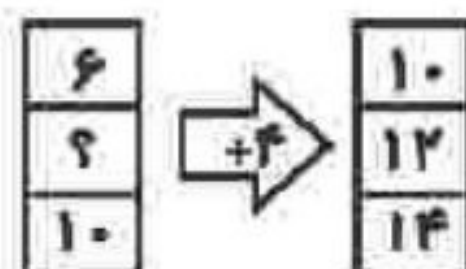
|      |  |
|------|--|
| طبقه |  |
| واحد |  |
| اتاق |  |

۳) در هر مورد گزینه‌ی درست را مشخص کنید.  
الف) شکل مقابل از چند مکعب ساخته شده است؟



- ۱) ۶
- ۲) ۷
- ۳) ۸
- ۴) ۹

ب) جای خالی در ماشین ورودی - خروجی زیر با چه عددی پر می‌شود؟



- ۱) ۶
- ۲) ۷
- ۳) ۸
- ۴) ۷