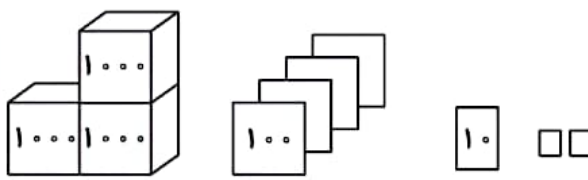




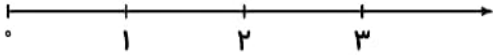
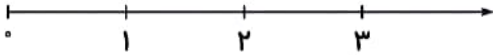


نام و نام خانوادگی: نام کلاس: نام آموزگار:

بارم	سؤالات ریاضی سوم دبستان (صفحه اول)	ردیف
۲ نمره	<p>با توجه به شکل زیر، جدول ارزش مکانی را کامل کرده و به سؤالات پاسخ دهید.</p>  <p>الف) این عدد را به حروف بنویسید.</p> <p>ب) ارزش مکانی کوچکترین رقم چیست؟</p> <p>ج) ارزش مکانی کدام رقم از همه کم تر است؟</p>	۱
۱ نمره	<p>یک اتوبوس ساعت ۹ صبح به طرف ساری حرکت کرد و پس از ۶ ساعت به مقصد رسید. این اتوبوس در چه ساعتی به ساری رسیده است؟ (به دو صورت بیان کنید).</p> <p>.....</p>	۲
۱/۵ نمره	<p>مینا هر فصل کتاب اجتماعی خود را در ۲۰ دقیقه مطالعه می کند. اگر کتاب او ۸ فصل داشته باشد:</p> <p>الف) چند دقیقه طول می کشد تا کل کتابش را مطالعه کند؟</p> <p>.....</p> <p>.....</p> <p>.....</p> <p>ب) این مقدار چند ساعت و چند دقیقه است؟</p> <p>.....</p>	۳
۰/۵ نمره	<p>در یک طرف ترازو یک هندوانه قرار دارد و در طرف دیگر یک وزنه ۵ کیلویی و سه وزنه ۲۰۰ گرمی قرار دارد. جرم هندوانه را به دست آورید.</p>  <p>.....</p> <p>.....</p> <p>.....</p>	۴
۱ نمره	<p>یک ماشین در یک ساعت شش بسته‌ی صدتایی و سی بسته‌ی ده‌تایی و نه یکی مداد تولید می کند. این ماشین در دو ساعت چند عدد مداد تولید می کند؟</p> <p>.....</p> <p>.....</p>	۵

بارم	سؤالات ریاضی سوم دبستان (صفحه دوم)	ردیف
۱/۵ نمره	<p>ابتدا شکل‌ها را به قسمت‌های مساوی تقسیم کن و سپس کسر مربوط به آن‌ها را بنویس.</p> <div style="display: flex; justify-content: space-around; align-items: center;">    </div> <p>.....</p>	۶
۱/۵ نمره	<p>زمینی به شکل مستطیل داریم. $\frac{2}{3}$ آن را گندم و $\frac{1}{3}$ باقی‌مانده را شبدر کاشته‌ایم. الف) چه کسری از زمین زیر کشت نرفته است؟ (رسم شکل)</p> <p>.....</p> <p>.....</p> <p>.....</p> <p>ب) چه کسری از زمین شبدر کاشته‌ایم؟</p> <p>.....</p>	۷
۱ نمره	<p>عددهای زیر را روی محور نشان دهید.</p> <p>الف) $\frac{2}{3}$ واحد بعد از عدد ۱</p>  <p>ب) $\frac{1}{4}$ واحد مانده به ۳</p> 	۸
۱ نمره	<p>کسرهای زیر را با علامت‌های ($<$, $=$, $>$) مقایسه کنید.</p> <p>الف) $\frac{2}{3} \square \frac{1}{3}$ ج) نصف $\square \frac{1}{3}$</p> <p>ب) ربع $\square \frac{1}{4}$ د) $\frac{3}{7} \square \frac{6}{7}$</p>	۹
۱ نمره	<p>عددی را با ۱۰۰۰ جمع کردیم، حاصل ۱۱۰۰ شد. این عدد چند است؟</p> <p>.....</p>	۱۰