

لطیفی، سمنه



$7 \times 4 =$	$28 \div 4 =$	$49 \div 7 =$
$8 \times 6 =$	$48 \div 4 =$	$35 \div 5 =$
$4 \times 7 =$	$63 \div 7 =$	$11 \div 9 =$

اسلاید 1

گفت‌وگوی همگانی

من نه من نه البته فکر میکنم..... 😊
بله

طبیعی، آوینا ۸:۲۰
خانم من نمیتونم

طبیعی، آوینا ۸:۲۱
چون اینجا تم ضعیفه

ثقفی، کیاناز ۸:۲۱
خانم همون که شما گفتید در جمع از بقلی کمک بگیره اشتباه داشتن

ثقفی، کیاناز ۸:۲۱
بله

نظام زاده، روشا ۸:۲۱
من لباس فورم ندارم

فرستادن پیام به گفت‌وگوی همگانی

زمان باقی مانده از جلسه: 05:03

ریاضی سوم (خانم لطیفی) | 1404/12/19 | 08:45 تا 08:00

لطیفی، سمیه



$7 \times 4 =$	$28 \div 4 =$	$49 \div 7 = \checkmark$
$8 \times 9 = 72$	$48 \div 4 =$	$35 \div 5 =$
$4 \times 7 =$	$63 \div 7 = 9$	$11 \div 9 =$

علوی

اسلاید 1



گفت‌وگوی همگانی

- طبیعی، آوینا 8:41
چون اینجا تم ضعیفه
- ثقی، کیاناز 8:41
خانم همون که شما گفتید در جمع از بقلی کمک بگیره اشتباه داشتن
- ثقی، کیاناز 8:41
بله
- نظام زاده، روشا 8:41
من لباس فورم ندارم
- خانجانی، نفس 8:47
بله
- جنگروی، یارمین 8:47
من من من

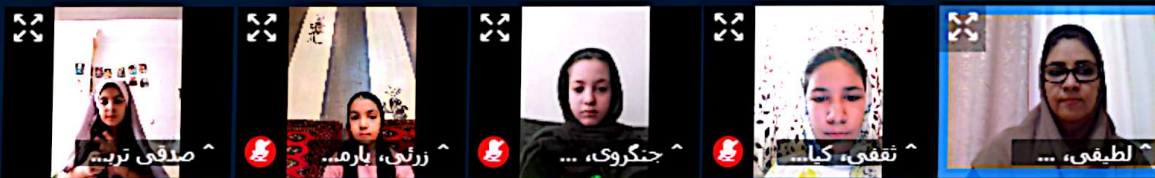
فرستادن پیام به گفت‌وگوی همگانی



زمان باقی مانده از جلسه: 02:28

ریاضی سوم (خانم لطیفی) 1404/12/19 | 08:00 تا 08:45

لطیفی، سمیه



$7 \times 4 = 28$	$28 \div 4 = 7$	$49 \div 7 = 7$
$8 \times 6 = 48$	$48 \div 6 = 8$	$35 \div 5 = 7$
$4 \times 7 = 28$	$28 \div 4 = 7$	$11 \div 9 =$

علوی

اسلاید 1

گفت‌وگوی همگانی

- طبیعی، آوینا 8:31
چون اینجا تم ضعیفه
- ثقی، کیاناز 8:31
خانم همون که شما گفتید در جمع از بغلی کمک بگیره اشتباه داشتن
- ثقی، کیاناز 8:31
بله
- نظام زاده، روشا 8:31
من لباس فورم ندارم
- خانجانی، نفس 8:37
بله
- جنگروی، پارمین 8:37

فرستادن پیام به گفت‌وگوی همگانی

ریاضی سوم (خانم لطیفی) | 1404/12/19 | 08:00 تا 08:45

جلسه تا یک دقیقه دیگر به پایان می‌رسد.

لطیفی، سمیه



Handwritten mathematical notes on a whiteboard:

- $V \times K = M$
- $8 \times 6 = 48$
- $4 \times V = 20$
- $K \div 4 = V$
- $4 \div 9 = V$
- $11 \div 9 =$

There are also some scribbles and a large blue 'X' over some of the equations.

علوی, لطیفی، سمیه

اسلاید 1

گفت‌وگوی همگانی

- طبیعی، آوینا (طب) چون اینجا تم ضعیفه
- ثقی، کیاناز (تق) خانم همون که شما گفتید در جمع از بغلی کمک بگیره اشتباه داشتن
- ثقی، کیاناز (تق) بله
- نظام زاده، روشا (نظ) من لباس فورم ندارم
- خانجانی، نفس (خا) بله
- جنگروی، پارسا (جن)

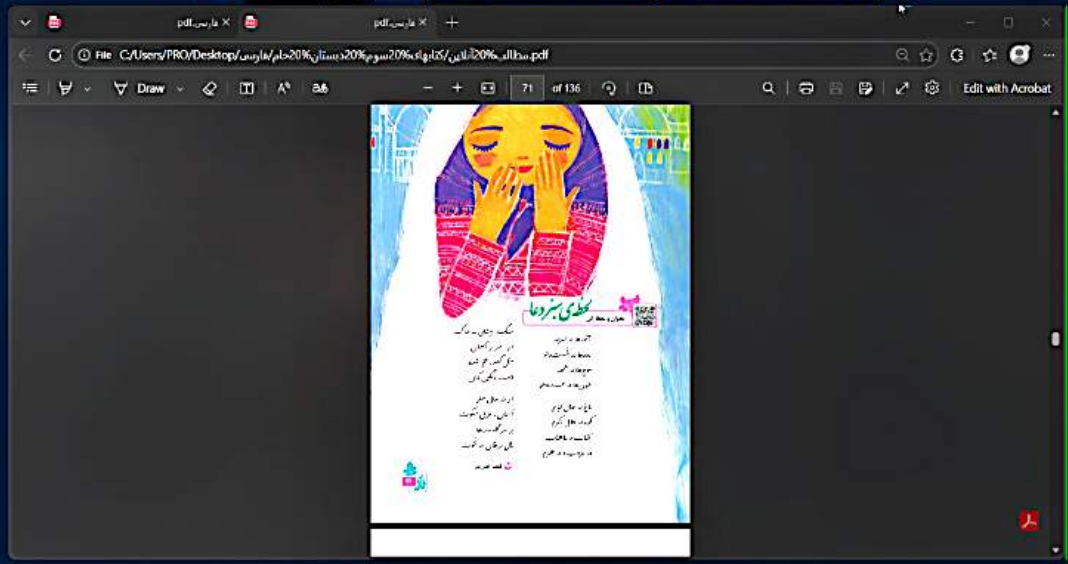
پیام‌های بیشتر

فرستادن پیام به گفت‌وگوی همگانی

زمان باقی مانده از جلسه: 16:12

فارسی سوم (خاتم لطیفی) 1404/12/19 | 09:00 تا 09:45

لطفی، سمه | احمدی، سها



گفت‌وگوی همگانی

پیامها

گفت‌وگوی ...

بازرس: جم...

پادداشت‌ها

پادداشت‌ها...

کاربران (17)

مقل شده

ثقی، ک...
تلفن همراه

جان نثار...
تلفن همراه

جنگروی...
مقل شد...

خانجانی...
تلفن همراه

ربیع، ر...
تلفن همراه

فرستادن پیام به گفت‌وگوی همگانی

نظام زاده، روشا در حال نگارش است


@AshianDars



@AshianDars

علوم سوم (خانم لطیفی) | 1404/12/19 | 10:00 تا 10:45

لطیفی، سمیه



علوی

گفت‌وگوی همگانی

سامانه‌ی همایش مجازی
مؤسسه‌ی علوی

Alavi IT Center

تاریخچه‌ی گفت‌وگو حذف گردید

لطیفی، سمیه ۱۰:۰۶

کلیپ آبهای زیرزمینی

ثقفی، کیاناز ۱۰:۰۸

چشم

ربیع، رها ۱۰:۰۸

بیخشید من به لحظه بیرون رفتم

فرستادن پیام به گفت‌وگوی
همگانی

کهنی، زهرا در حال نگارش است



Search



علوم سوم (خانم لطیفه) | 1404/12/19 | 10:00 تا 10:45

لطیفه، سمیه



گفت و گوی همگانی



سامانه‌ی همایش مجازی
مؤسسه‌ی علوی

Alavi IT Center

تاریخچه‌ی گفت و گو حذف گردید

لطیفه، سمیه ۱۰:۰۶

کلیپ آبهای زیرزمینی

ثقی، کیاناز ۱۰:۰۸

چشم

ربیع، رها ۱۰:۰۸

بیخشید من به لحظه بیرون رفتم

کهنی، زهرا ۱۰:۰۸

سلام خانم

فرستادن پیام به گفت و گوی همگانی

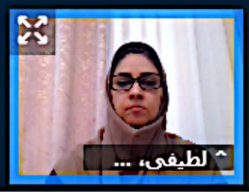


1311.6426.ir is sharing a window. Stop sharing Hide

1311.6426.ir/html5client/join?sessionToken=vx4p2az9t2a2liso

علوم سوم (خانم لطیفی) 1404/12/19 | 10:00 تا 10:45

لطیفی، سمیه



گفت‌وگوی همگانی

سامانه‌ی همایش مجازی
مؤسسه‌ی علوی
Alavi IT Center

تاریخچه‌ی گفت‌وگو حذف گردید

- لطیفی، سمیه ۱۰:۰۶
کلیپ آبهای زیرزمینی
- ثقفی، کیاناز ۱۰:۰۸
چشم
- ربعی، رها ۱۰:۰۸
بخشید من به لحظه بیرون رفتم
- کهنی، زهرا ۱۰:۰۸
سلام خانم

فرستادن پیام به گفت‌وگوی همگانی




قنات

از روش های رسیدن به آب های زیر زمینی
کندن کانال های زیرزمینی که قنات یا (کاریز) نام دارد.



© GraphicGarden.com



Search

چاه

از روش های رسیدن به آب های زیر زمینی
کندن چاه است.



Icons for screen sharing, video call, voice call, and voice recording.



فرستادن پیام به گفت و گوی
همگانی

Search bar

(18)

- لط** لطیفی، سمیه ۱۰:۰۶
کلیپ آبهای زیرزمینی
- ثق** ثقفی، کیاناز ۱۰:۰۸
چشم
- رب** ربیعی، رها ۱۰:۰۸
بیخشید من یه لحظه بیرون رفتم
- که** کهنی، زهرا ۱۰:۰۸
سلام خانم

- لط... (شما)
- رنجکش ...
- احمدی، ...
بفعل شده
- اشرفی، ...
بفعل شد...
- بازرس: ...
بفعل شده
- ثقفی، ک...
بفعل شد...
- جان نثار...
بفعل شد...

Windows taskbar with search, task view, and application icons (File Explorer, Edge, Chrome, etc.).

زمان باقی مانده از جلسه: 08:29

علوم سوم (خانم لطیفی) | 1404/12/19 | 10:00 تا 10:45

لطیفی، سمیه



Control bar for the whiteboard with icons for: screen share, video, chat, microphone, and a plus sign for additional options.

Chat window titled 'گفت‌وگوی همگانی' (Public Chat). It shows a list of messages from participants:

- بله
- مهدوی نیا، آترینا: کیف میده تو تابستون
- مهدوی نیا، آترینا: ورسک خانه عمومه
- خانجانی، نفس: خانم یک چیزی بگم
- مهدوی نیا، آترینا: جلو خانه ماست
- ربیع، رها: واییییی من تو تابستون خوردم و دستم یخ زد
- جان نثاری، سما: خانم خیلی ایش خوب است

At the bottom of the chat, there is a text box containing the message: 'فرستادن پیام به گفت‌وگوی همگانی' (Send message to public chat).

زمان باقی مانده از جلسه: 08:07

علوم سوم (خاتم لطیفی) | 1404/12/19 | 10:00 تا 10:45

لطیفی، سمیه



خاک ریس
 اب کمی در خاک فرو رفته و بیشتر در بالای خاک باقی می ماند.

ماسه
 اب سریع در خاک فرو رفت.

The diagram illustrates two methods of soil separation. On the left, 'خاک ریس' (Soil sieving) is shown where a small amount of water is added to soil, and the water filters through, leaving most of the soil particles behind. On the right, 'ماسه' (Sand) is shown where water is poured quickly through soil, and the sand particles are carried away. Below the diagrams are illustrations of laboratory glassware like flasks and test tubes.

گفت و گوی همگانی

- بله
- مهدوی نیا، آترینا ۱۰:۳۷
کیف میده تو تابستون
- مهدوی نیا، آترینا ۱۰:۳۸
ورسک خانه عمومه
- خانجانی، نفیس ۱۰:۳۸
خانم یک چیزی بگم
- مهدوی نیا، آترینا ۱۰:۳۸
جلو خانه ماست
- ربعی، رها ۱۰:۳۸
والایی من تو تابستون خوردم و دستم یخ زد
- جان نثاری، سما ۱۰:۳۸
خانم خیلی ایش خوب است

فرستادن پیام به گفت و گوی همگانی

Control panel for the video call with icons for: Screen sharing, Video, Audio, and a plus sign for additional options.

زمان باقی مانده از جلسه: 06:50

علوم سوم (خانم لطیفی) | 1404/12/19 | 10:00 تا 10:45

لطیفی، سمیه



The diagram illustrates the separation of soil components using sieves and test tubes. It compares 'Mashed' (ماسه) and 'Soil' (خاک رس).

ماسه (Mashed)	خاک رس (Soil)
دانه ها درشت تر	دانه ها ریزتر
به هم نجسبیده	به هم جسبیده
فاصله بین ذره ها	فاصله بین ذره ها کم

At the bottom, there are illustrations of laboratory glassware: a flask with red liquid, a beaker with yellow liquid, and a rack of test tubes with various colored liquids.



گفت و گوی همگانی

سامانه‌ی همایش مجازی
مؤسسه‌ی علوی
Alavi IT Center

تاریخچه‌ی گفت و گو حذف گردید

فرستادن پیام به گفت و گوی همگانی

لطم (شما)

رن رنجکش ...

احمدی، ...
عقل شده

اشرفی، ...
تلفن همراه

بازرس: ...
عقل شده

ثقفی، ک...
عقل شد...

هر چه ذره های تشکیل دهنده ی خاک ریز تر باشد، سرعت نفوذ آب در خاک کمتر مثل خاک رُس

هر چه ذره های تشکیل دهنده ی خاک رُشت تر باشد، سرعت نفوذ آب در خاک بیشتر مثل ماسه



خانه‌ی شما کجاست؟

درس ۲۰

۴۷



مامور شهرداری، برای همه‌ی خانه‌ها پلاک نصب می‌کند.

آیا تا به حال اتفاتی افتاده است که در کوچه و خیابان گم شوید؟ راستی اگر روزی گم شوید و ندانید کجا هستید، چه می‌کنید؟ آیا نشانی (آدرس) خانه‌ی خودتان را خوب می‌دانید؟
نشانی خانه‌ی شما چیست؟
هر خانه‌ای یک «نشانی» دارد.
نشانی خانه به ما می‌گوید که آن خانه در کجا قرار دارد. نام خیابان و کوچه و شماره‌ی خانه، نشانی آن خانه است.



مأمور شهرداری، برای همه‌ی خانه‌ها پلاک نصب می‌کند.

آیا تا به حال اتفاق افتاده است که در کوچه و خیابان گم شوید؟ راستی اگر روزی گم شوید و ندانید کجا هستید، چه می‌کنید؟ آیا نشانی (آدرس) خانه‌ی خودتان را خوب می‌دانید؟

نشانی خانه‌ی شما چیست؟

هر خانه‌ای یک نشانی دارد.

نشانی خانه به ما می‌گوید که آن خانه در کجا قرار دارد. نام خیابان و کوچه و شماره‌ی خانه، نشانی آن خانه است.

فکر کنید و پاسخ دهید



اکنون به تصویر نگاه کنید.

علی و صالح می خواهند از خانه به مدرسه بروند. از چند مسیر می توانند بروند؟ با مداد بکشید. حالا

بگویید، کدام مسیر کوتاه تر است؟

اگر علی از خیابان های یاس و شهید جلالی عبور کند و به مدرسه برود، در مسیر خود چه جاها و چه

چیزهایی می بیند؟ نام ببرید.

شمال ↑

