

شماره‌ی

۲۴

ارمغان هفته - سوم دبستان

نام و نام خانوادگی: تاریخ: نام آموزگار:

ریاضی < فصل ۶: جمع و تفریق تکنیکی
 علوم < درس ۱۱: بکارید و ببینید
 فارسی < درس ۱۴ و ۱۵: بوی سیب، حکایت خروس ایرانی قرآن < فصل ۳: انس با قرآن کریم (۱۱)
 مطالعات اجتماعی < درس ۱۸: خانه‌ها با هم تفاوت دارند.
 هدیه‌های آسمان < درس ۱۵: همسفر ناشناس

ریاضی

۱ عبارت جمعی را که شکل زیر نشان می‌دهد در جدول ارزش مکانی بنویسید.

هزارگان	صدگان	دهگان	یکان
۳	۴	۵	۲
+	۲	۳	۳
۵	۷	۸	۵

۲ حاصل جمع و تفریق‌های زیر را بدست آورید.

$$\begin{array}{r} 4000 \\ + 1387 \\ \hline 5387 \end{array}$$

$$\begin{array}{r} 5491 \\ + 2502 \\ \hline 7993 \end{array}$$

$$\begin{array}{r} 3940 \\ + 1417 \\ \hline 5357 \end{array}$$

$$\begin{array}{r} 6630 \\ + 4050 \\ \hline 10680 \end{array}$$

۳ در جاهای خالی عدد مناسب بگذارید.

۵	ص	د	ی
۴	۴	۷	۱
+	۳	۱	۵
۵	۵	۸	۶

۴ در یک کارگاه صنایع دستی، یک هنرمند ۴۳۵۱ ظرف را رنگ کرده است. اگر ۲۵۶۰ تای آن‌ها مربوط به ماه گذشته باشند او در این ماه چند ظرف رنگ کرده است؟

$$\begin{array}{r} 4351 \\ - 2560 \\ \hline 1791 \end{array}$$

در این ماه ۱۷۹۱ ظرف رنگ کرده است

۵ از دریاچه‌ای ۳۱۰۹ ماهی قزل‌آلا و ۲۳۴۵ ماهی کفال و ۹۰۸ ماهی کپور صید شده است. چند ماهی از این دریاچه صید شده است؟

$$\begin{array}{r} 3109 \\ + 2345 \\ + 908 \\ \hline 6362 \end{array}$$

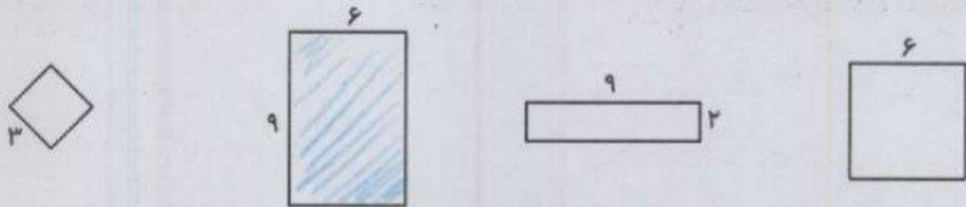
۶۳۶۲ ماهی از این دریاچه صید شده است

۶ عباس آقا زمینی به شکل مستطیل دارد. او می‌خواهد دور تا دور زمینش را با سیم خاردار ببندد تا کسی نتواند بدون اجازه وارد زمینش شود. اگر طول زمینش ۱۰ متر و عرض آن نصف طولش باشد، او چند متر سیم خاردار باید تهیه کند؟

محیط = $(2 \times 10) + (2 \times 5) = 30$ متر
 عرض زمین = $10 \div 2 = 5$

$(2 \times 9) + (2 \times 6)$

۷ عبارت روبه‌رو مربوط به محیط کدام شکل است؟ آن را رنگ بزنید.



علوم

۱ با توجه به ریشه‌ی گیاه، گل و برگ مناسب برای این گیاه را انتخاب کرده و بچسبانید.



۲ جدول زیر را کامل کنید.

گل	برگ	ساقه	ریشه	دانه	نام گیاه
۴ یا ۵ و مضرب‌های آن	پهن	نازک توپیر	راست	دوقسمتی	کدو
۴ یا ۵ و مضرب‌های آن	پهن	نازک توپیر	راست	دوقسمتی	لوییا
۳ یا ۶ و مضرب‌های آن	باریک و دراز	نازک توخالی	افشان	یک قسمتی	بادمجان
۳ یا ۶ و مضرب‌های آن	باریک و دراز	نازک توخالی	افشان	یک قسمتی	گندم

۳ تصویر زیر را با دقت نگاه کنید.



- الف) نام گیاه چیست؟ ... سرو
- ب) نوع برگ آن چگونه است؟ ... پهن و سوزنی
- پ) نوع میوه‌ی آن چگونه است؟ ... مخروط
- ت) نوع دانه‌ی آن چگونه است؟ ... دانه‌های بالدار
- ث) یک گیاه دیگر مانند آن نام ببرید. ... کاج



۳ من چیستم؟

زعفران

الف) گیاهی هستم که از پرچم من برای معطر کردن غذا استفاده می‌شود.

درخت زیتون

ب) گیاهی هستم که برگ‌های باریک و درازی دارم ولی ساقه‌ی چوبی کلفتی دارم.

کنجد

پ) گیاهی هستم با دانه‌ی تک قسمتی که روغن من هم طرفدار زیادی دارد.

آمنابگردان

ت) گیاهی هستم با گل زرد بزرگ که دانه‌ی من درون گلم می‌باشد و مصرف خوراکی دارد.

فارسی

۱ با توجه به متن درس دایران آباد، کلماتی که نشانه‌های زیر را دارند را بنویسید.

فـ مـ	ط	ظ	ثـ
مصنوع -	طرف - مناطق - وطن مصطفی - طول	تظـر - عقیـظ - وظیفـه	بجـت - باعدـث

۲ هدف فرماندهی ایرانی از آوردن خروس در حکایت خروس ایرانی، چه بود؟

تسلط بر سربازان ایرانی بر خروس ... نشان داد که سربازانش از قدرت و غیر قابل تصور و خورند

۳ با توجه به متن «بوی سیب و یاس» به سؤالات زیر پاسخ کوتاه دهید.

الف) پدر بزرگ امید در آزادسازی کدام یک از شهرهای ایران دلاورانه جنگیده بود؟ خرمشهر

ب) روز آزادسازی خرمشهر، چه روزی است؟ روزی است که دشمن از ما شکست خورد.

پ) تصویر تابلویی که روی میز سر کوچه قرار داشت، چه بود؟ مجسمه خرمشهر

ت) نام کوچه در داستان «بوی سیب، چه بود؟ کوچه سیب و یاس

ث) نویسنده‌ی داستان «بوی سیب و یاس» چه کسی است؟ هوشیار ... بابا مرندی

۴ درس چهاردهم را با دقت بخوانید و واژه‌های خواسته شده را پیدا کرده و بنویسید.

الف) دو کلمه‌ی جمع: مناطق ... و ایرانیان

ب) دو کلمه که در آخر دانه دارند: دلاوران ... و سربازان

پ) دو کلمه که در آخر دگی دارند: همسنگی ... و زردگی

ت) سه کلمه که ابتدای آن‌ها هم دارد: همسنگی ... و همساری ... و همسری

مطالعات اجتماعی

- ۱) درستی و نادرستی هر عبارت را مشخص کنید.
- الف) زهرا هنگام خروج از کلاس چند تکه زباله‌ای که دوستش جا گذاشته بود را در سطل زباله انداخت.
- ب) علی به دوستش که مریض شده بود و چند روز به مدرسه نیامده بود برای یادگیری بهتر دروس کمک نکرد.
- پ) بچه‌های کلاس به کمک یکدیگر کلاس را تمیز نگه می‌دارند.

۲) الف) کدام یک از بخش‌های مدرسه‌ی خود را دوست دارید؟

بوخور و حیاط

ب) آیا دوست دارید در آینده شغلی در مدرسه داشته باشید؟ به چه دلیل؟

بله... منظم معلم تا امروز منیدی تربیت کنم و در آینده می‌توانم به دیگران کمک کنم

۳) جاهای خالی را با دقت کامل کنید.

الف) مدرسه خانگی (روم) ما است.

ب) مدرسه جای خواندن قرآن و نماز و آزمون است.

پ) کارکنان مدرسه با هم همکاری می‌کنند تا دانش‌آموزان درس بخوانند.

هدیه‌های آسمان - قرآن

۱) به چه دلیل امام سجاد (ع) به زین‌العابدین، معروف شده است؟





چون بسیار عدالت می‌کرد و زینت محراب گفتن بود.






۲) آرامگاه امام سجاد (ع) در کدام شهر و کدام قبرستان قرار دارد؟



در شهر قم در قبرستان باقر

۳) یک دعا از امام سجاد (ع) که در صحیفه‌ی سجادیه آمده است را بنویسید.

خدا یا مسلم کن تا به مردم حرمت کنم

	درک مطلب
	واژه‌شناسی
	مکان‌های مختلف و قوانین مدرسه
	آشنایی با امام چهارم

	جمع و تفریق تکبکی
	مسائل جمع و تفریق
	محیط مستطیل
	دسته‌بندی گیاهان از نظر ریشه، دانه، برگ، ساقه و گل
	گیاهان مخروط‌دار





ارمغان هفته - سوم دبستان

شماره‌ی
۲۵

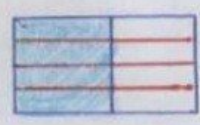
نام و نام خانوادگی: تاریخ: نام آموزگار:

- ریاضی < نوروژ
- علوم < نوروژ
- فارسی < نوروژ
- مطالعات اجتماعی < نوروژ
- هدیه‌های آسمان < نوروژ
- قرآن < نوروژ

ریاضی

۱ بعد از پیدا کردن کاری که هر ماشین انجام می‌دهد، جاهای خالی را کامل کنید.

۱۵	→	۲۱	۱۸	→	۳
۳۱		۳۷	۴۳		۲۸
۱۹		۲۵	۷۴		۵۹
۴۷		۵۳	۷۹		۶۴



۲ با رسم شکل تساوی دو کسر $\frac{4}{8}$ و $\frac{1}{2}$ را نشان دهید.

$$\frac{1}{2} = \frac{4}{8}$$

میزبان	بازان	دشمن
✓	۵	۳
✓	۱	۴
✓	۲	۵
✓	۳	۶
✓	۴	۷
✓	۵	۸
✓	۶	۹

۳ اگر قیمت یک عدد سبزه‌ی سفره‌ی هفت‌سین ۵۰۰۰ تومان باشد:

الف) با ۱۵۰۰۰ تومان چند سبزه می‌توان خرید؟ $15000 \div 5000 = 3$

ب) قیمت یک سبزه چند ریال است؟ 5000 ریال

۴ تمام اعداد سه رقمی با صدگان ۷ و یکانی که ۳ واحد از دهگان بیش‌تر باشد را بنویسید.

$703, 714, 725, 736, 747, 758, 769$

۵ در جدول زیر حروف الفبای فارسی امتیازبندی شده‌اند. امتیاز هر کلمه براساس ضرب اعداد ساخته می‌شود. به عدد توجه کرده سپس بگویید هر کلمه چند امتیاز دارد؟ و در آخر اسم خودتان را امتیاز دهید.


امتیاز ۳ ر ز ژ س	امتیاز ۶ ج چ خ د ذ	امتیاز ۲ ا ب پ ت ث
امتیاز ۸ ل م ن و ه ی	امتیاز ۵ ع غ ف ق ک گ	امتیاز ۴ ش ص ض ط ظ

- ← باغ $2 \times 2 \times 5 = 20$
- ← شاد
- ← سرم
- ← شصت
- ← مو
- ← طرز
- ← اسم خودتان

باسم والکرامت

علوم


۱ قسمت‌های جامد، مایع و گاز را مشخص کنید.



۲ کدام یک از آب‌های زیر شور و کدام یک شیرین است؟

- رودخانه: شیرین ... لوله‌کشی: شیرین ... اقیانوس: شور ... دریا: شور

۳ نام گروه‌های هرم غذایی زیر را بنویسید.



- (۱) گروه گیاهان (مانند - برنج - مالترونی - غلات ...)
 (۲) گروه حیوانات (گروه میوه‌ها و سبزیجات و بیضجانها)
 (۳) گروه پروتئین‌ها (گوشت - مرغ - ماهی - حبوبات و لبنیات)
 (۴) گروه چربی‌ها (انواع روغن - کره ...)

۴ آهن یکی از مواد اصلی تشکیل دهنده خون است و کمبود آن باعث کم‌خونی، خستگی و بی‌حوصلگی می‌شود.

پ	ب	ج	د	و	ا
ر	ب	ی	ر	ف	س
ت	ا	ف	خ	پ	د
ق	د	ن	ر	ی	ن
ا	ا	د	م	ا	ش
ل	م	ق	ا	ز	ل
*	ا	ن	ی	و	ر

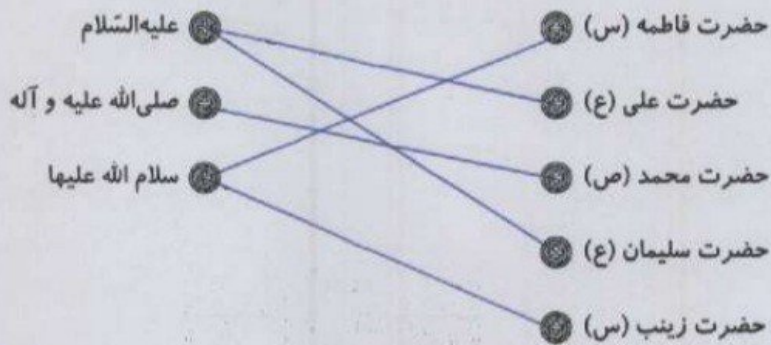
کلسیم برای رشد و محکم شدن استخوان‌ها و دندان‌ها لازم است.
 اکنون که عید است خوب است بدانید خوراکی‌هایی مثل کرفس، فندق، گردو، بادام، پسته، انگور و پرتقال دارای کلسیم هستند و خوراکی‌هایی از قبیل خرما، کرفس، گردو، انگور، پرتقال، اسفناج دارای آهن هستند.
 این خوراکی‌ها را در جدول پیدا کرده و مواد دارای آهن را قرمز و مواد دارای کلسیم را زرد کنید و در عید بسیار بخورید.

فارسی

۱ قسمت‌های ناقص شعر را با معلومات خود کامل کنید.

ابر در حال سفر
 در غروب و در طلوع

۲ مخفف عبارات زیر را به جمله‌ی کامل آن وصل کنید.



۳ با کلمه‌های داده شده یک بند با موضوع بهار بنویسید.

بهار - گوشه‌ای - تحویل - سفره

بهار و گوشه‌ای

۴ تمام چیزهایی را که در سفره هفت‌سین قرار می‌دهید را از جدول پیدا کنید و بنویسید.

ن	ه	ک	س	م	ب	ی	س	ق	گ
ی	ی	ن	ر	غ	ر	م	م	خ	ت
ا	و	ه	ک	ا	د	ج	ن	س	س
ر	ی	س	ه	ر	ف	س	و	ر	م
ه	ز	ب	س	ه	ن	ی	ی	آ	ا
ج	د	ظ	ف	ا	ح	ن	آ	ر	ق

- سیب
- سرکه
- سبزه
- حنظل
- سیر


- سیب
- سرکه
- سبزه
- قرآن
- آینه

مطالعات اجتماعی

۱ الف) آیا وجود مقررات در زندگی لازم است؟
 ب) چند مورد از مقررات منزل خودتان را بنویسید.
 انجام نپیوسته و آرامش از بین می‌رود.
 مقررات رعایت نشود. هر چه و هر چه و بی نظمی در کارها دیده می‌شود و کارها در زمان خود به موقع انجام نمی‌دهیم. داخل اتاق توپ بازی نکنیم. لوازم خود را در جای خود قرار ندهیم.

- ۲ در رابطه با صرفه‌جویی گزینه‌ی صحیح را با مشخص کنید.
- الف) هنگام خرید سعی کنیم از کیسه‌های کم‌تری استفاده کنیم.
 - ب) در هنگام شست‌وشوی ماشین از شلنگ آب استفاده کنیم.

۳ در ایام نوروز به هر کجا سفر می‌کنید تصویری از شکل خانه‌ها را نقاشی کرده و در چند سطر آداب و رسوم آن شهر را توضیح دهید.



با من و امیر

هدیه‌های آسمان - قرآن

۱ پاسخ سؤالات زیر را در جدول روبه‌رو رنگ کنید و با استفاده از کلمات باقی‌مانده رمز جدول را بنویسید.

ه	ب	س	ع
ب	ا	ج	م
ب	ج	ا	د
ا	ح	د	ر

الف) امام چهارم شیعیان **سجده**

ب) به ما محرم است. **محرّم**

پ) روزه گرفتن بر مؤمنان **واجب** است.

ت) دختران در مقابل نامحرم باید **حجاب** داشته باشند.

رمز جدول: **بهار**

۲ اذکار نماز را به نام آن ذکر وصل کنید. (یک مورد اضافه است).

- استغفار
- سبحان ربی العظیم و بحمده
- رکوع
- استغفر الله ربی و اتوب الیه
- سجده
- سمع الله لمن حمده
- قیام

۳ خداوند از ما می‌خواهد قبل از نماز چه کارهایی را انجام دهیم؟ و ادراک کرده باشید باید با آب بشویم

و وضو کنیم و نماز را با بدن و لباس پاک شروع کنیم و اگر لباسها آلوده به چیزهای نجس یا نجس باشد

- بند نویسی
- حروف مخفف
- مقررات
- صرفه جویی
- قوانین دین اسلام
- اذکار نماز

- ماشین اعداد
- نساوی کسر
- عدد نویسی
- ضرب و مسائل ضرب
- حالت‌های مواد
- هرم غذایی
- مواد غذایی

شخصیت‌ها

- خیلی خوب
- خوب
- قابل قبول
- نیاز به تلاش بیشتر

ارمغان هفته - سوم دبستان

شماره‌ی

۲۶

نام و نام خانوادگی: تاریخ: نام آموزگار:

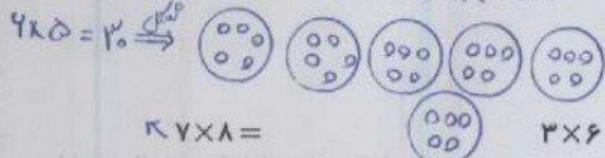
مطالعات اجتماعی < نوز
هدیه‌های آسمان < نوز
قرآن < نوز

ریاضی < نوز
علوم < نوز
فارسی < نوز

ریاضی


۱ حاصل ضرب‌های زیر را با روش دلخواه به دست بیاورید.

$7 \times 8 = 56 \Rightarrow 8, 14, 24, 32, 40, 48, 56$



$7 \times 8 =$
 $4 \times 5 =$

$3 \times 6 = 18 \Rightarrow$



$8 \times 8 = 64 \Rightarrow 8, 14, 24, 32, 40, 48, 56, 64$ $5 \times 4 = 20 \Rightarrow 4+4+4+4+4=20$

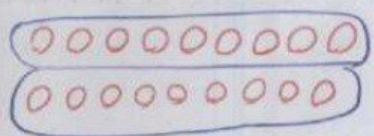
۲ حاصل جمع و تفریق‌های زیر را از راه گسترده نویسی (فرآیندی) به دست آورید.

$$\begin{array}{r} 3490 \\ + 1678 \\ \hline 4490 \\ + 478 \\ \hline 5090 \\ + 598 \\ \hline 5698 \end{array}$$

$$\begin{array}{r} 5438 \\ - 2362 \\ \hline 4438 \\ - 342 \\ \hline 4138 \\ - 92 \\ \hline 4078 \end{array}$$

۳ برای تقسیم زیر شکل بکشید و یک مسئله برای آن بنویسید.

$18 \div 9 = 2$



سارا هر روز ۷ مجسمه از کتاب داستان‌ها را

می‌خواند. او ۱۴ مجسمه از کتاب‌ها را چند روز می‌تواند بخواند؟

۴ محیط و مساحت شکل زیر را به دست آورید.



مساحت = $2 + 2 + 8 + 4 + 4 + 4 = 28$

مساحت (D) = $2 \times 2 = 4$


مساحت (E) = $4 \times 4 = 16$

مساحت کل = $16 + 4 = 20$

۵ تمام اعداد سه رقمی با صدگان ۷ و یکانی که ۳ واحد از دهگان بیش تر باشد را بنویسید.

- ۷۰۳ - ۷۱۴ - ۷۲۵ - ۷۳۶ - ۷۴۷ - ۷۵۸ - ۷۶۹

دهگان	صدگان	یکن
✓	۵	۳
✓	۱	۴
✓	۲	۵
✓	۳	۶
✓	۴	۷
✓	۵	۸
✓	۶	۹



ماجرای خرید عزیز خانم:

روز شنبه عزیز خانم برای خرید مهمانی سال نو به مغازه‌ی سبزی فروشی رفت. او ۲ کیلوگرم سبزی آش و ۵ کیلوگرم سبزی پلو خرید. بعد به مغازه‌ی عطاری رفت و در آنجا ۵۰۰ گرم زردچوبه و ۱ کیلوگرم نمک و ۲۰۰ گرم خاکشیر خرید. پس از آن به بقالی رفت. او یک قوطی رب ۱ کیلوگرمی و ۴۵۰ گرم روغن جامد خرید. عزیز خانم بعد از ظهر به مغازه‌ی طلافروشی رفت و یک جفت گوشواره به وزن ۳ گرم برای عیدی نوه‌اش خرید. با توجه به داستان به پرسش‌ها پاسخ دهید.

الف) عزیز خانم چند کیلوگرم سبزی خریده است؟

۷ کیلوگرم = ۲ کیلوگرم + ۵ کیلوگرم : سبزی فروش

ب) خرید صبح عزیز خانم از کدام مغازه سبک‌تر بوده است؟

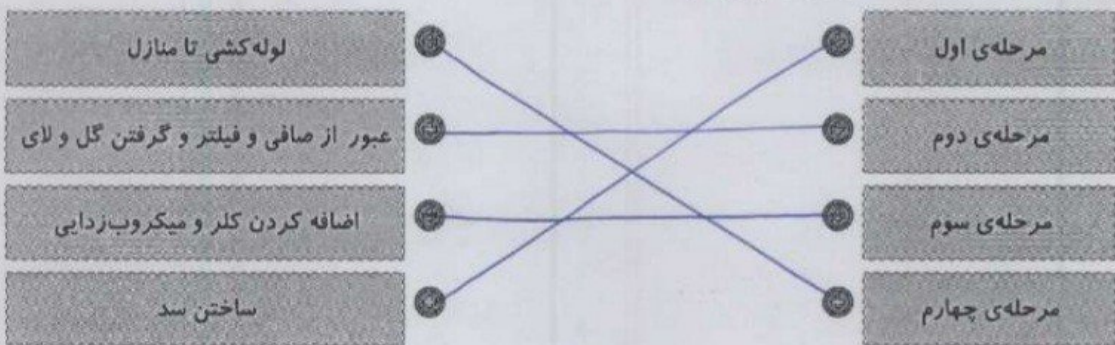
مغازه طلا فروشی. (۳ گرم طلا خریده است)

پ) عزیز خانم در مغازه‌ی عطاری چند گرم خرید کرده است؟

۱۷۰۰ گرم خرید کرده است. $۱۰۰۰ + ۵۰۰ + ۲۰۰ = ۱۷۰۰$ گرم

علوم


۱) مراحل تصفیه‌ی آب را به شماره‌ی آن وصل کنید.



۲) در این تعطیلات یک روز به پارک بازی بروید و لیستی از اهرم‌هایی که آن‌جا می‌بینید تهیه کنید.

الاکلنگ - جارو - بانجول - دست‌آه مسکری - دست‌آه نام‌زن (هوانورد)


حالا تصویر یکی از وسایل لیست خود را کشیده و محل جسم، نیرو و تکیه‌گاه را روی آن مشخص کنید.



آیا می‌توانید با پدرتان الاکلنگ بازی کنید؟ یک پیشنهاد برای این موضوع بدهید.

بله. هرگاه در دو طرف اهرم دو جسم با جرم‌های نامساوی قرار گیرند برای ایجاد تعادل باید جسم سبک‌تر

به تکیه‌گاه نزدیک‌تر شود. بنابراین پدرم باید نزدیک تکیه‌گاه بنشیند تا بتوانیم تعادل برقرار کنیم.



۳ اطلاعات زیر را درباره‌ی نوع اجزای گیاه زیر کامل کنید.

ریشه: *افسان*
 ساقه: *نازک و نوجالی*
 برگ: *دراز و باریک*
 دانه: *تک هسته‌ای*

فارسی

۱ شعر زیر را کامل کنید.

گفتم به گوش باغ آن باغ زیبا گفت:
 این نقش‌ها از کیست؟ *نقش این دنیا*
 بیرون است استاد است *تو خداوندی هست*
 نقشش اشعاعی است! *آنگاه خالق است*

۲ جملات زیر را با فعل‌های مناسب کامل کنید (یک فعل اضافی است).

«خورد ، بوئید ، شنید ، خواند ، رفت ، دوید»


الف) مریم گل را *بوئید*
 ب) رضا به ملاقات دوستش *رفت*
 پ) نرگس قصه را برای خواهرش *خواند*
 ت) پدر بزرگ صدای اذان مسجد را *شنید*
 ث) علی یک بستنی قیفی *خورد*

۳ به هر کدام از کلمه‌های زیر، کلمه‌ای اضافه کنید و عبارت را در جمله‌ای به کار ببرید.

تاریخ *تولد* تاریخ تولد هر کس در *کتابنامه* آن شخص نوشته شده است
 کوره‌ی آجرپزی *های* مراحل ساخت آجر ، در کوره‌ی آجرپزی صورت می‌گیرد
 پرندگان *جواهر* هوا ، پرندگان جواهر به مناطق جنوبی آب و هوا مهاجرت می‌کنند

۴ بیایید با هم اسم فامیل بازی کنیم. جدول زیر را کامل کنید.

حرف	اسم	فامیل	شهر	میوه	رنگ
س	سارا	سلیمانی	ساری	سیب	سبز
م	مریم	محسنی	مازندران	موز	مشکی



مطالعات اجتماعی

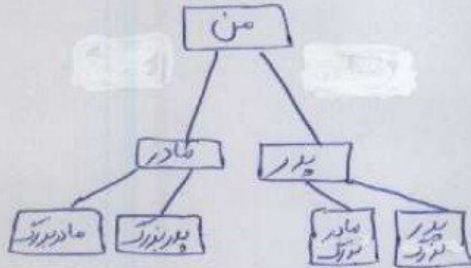
۱ الف) در شهر شما معمولاً خانه‌ها به چه شکلی هستند؟

آب و برق نماند. - به دلیل جمعیت زیاد

ب) اگر در ایام عید به سفر رفته‌اید خانه‌ها در آن شهرها چه شکلی داشتند؟

به شمال رفته بودیم و خانه‌ها بسیار وسیع و امن (به دلیل نارس بودن) بودند

۲) شجرنامه‌ی خانوادگی خود را بکشید.



هدیه‌های آسمان - قرآن

۱) موارد مرتبط را به یکدیگر وصل کنید. (دو مورد اضافی است.)

- خداوند در آن راه و رسم زندگی را به ما نشان داده است.
- در این ماه خدا بیش‌تر از ماه‌های دیگر به بندگانش پاداش می‌دهد.
- او همسر حضرت علی (ع) است.
- شعبان
- قرآن
- حضرت زینب (س)
- رمضان
- حضرت فاطمه (س)

۲) درستی و نادرستی هر عبارت را مشخص کنید.

الف) روز مادر، روز میلاد حضرت زهرا (س) است.

ب) جشن تکلیف، عید عبادت است.

پ) در عید نوروز، نماز عید می‌خوانیم.

	اهرم و کاربرد آن
	شناخت فعل
	کلمات ترکیبی
	واژه‌شناسی
	انواع خانه‌ها
	شجره‌نامه
	آشنایی با اسلام و ائمه‌ی اطهار

	روش‌های ضرب
	جمع و تفریق فرآیندی
	مسئله‌ی تقسیم
	محیط و مساحت
	راهبرد مسئله
	مراحل تصفیه آب
	دسته‌بندی گیاهان

شاخص‌ها

- خیلی خوب
- خوب
- قابل قبول
- نیاز به تلاش بیش‌تر