



# ارمغان هفته - سوم دبستان

نام و نام خانوادگی: ..... تاریخ: ..... نام آموزگار: .....

مطالعات اجتماعی < درس ۱۸: مدرسه‌ی دوست داشتنی ما  
هدیه‌های آسمان < درس ۱۴: خانام را دوست دارم.  
قرآن < فصل ۳: انس با قرآن کریم (۱۰)

ریاضی < فصل ۶: جمع و تفریق فرآیندی  
علوم < درس ۱۱: بکارید و ببینید  
فارسی < درس ۱۴: ایران آباد

## ریاضی

$$\begin{array}{r} 4452 \\ + 2789 \\ \hline 7241 \end{array}$$

$$\begin{array}{r} 6171 \\ + 1825 \\ \hline 7996 \end{array}$$

$$\begin{array}{r} 6452 \\ + 789 \\ \hline 7241 \end{array}$$

$$\begin{array}{r} 8734 \\ - 2925 \\ \hline 5809 \end{array}$$

$$\begin{array}{r} 8734 \\ - 2925 \\ \hline 5809 \end{array}$$

$$\begin{array}{r} 7499 \\ - 3289 \\ \hline 4210 \end{array}$$

$$\begin{array}{r} 740 \\ + 231 \\ \hline 971 \end{array}$$

$$\begin{array}{r} 971 \\ + 740 \\ \hline 1711 \end{array}$$

۱ جمع و تفریق زیر را با روش فرآیندی محاسبه کنید.  
۲ برنا ۷۴۰ تومان پول دارد. پول برادرش ۲۳۱ تومان از او بیش‌تر است. آن‌ها روی هم چند تومان پول کارند؟  
آن‌ها روی هم ۱۷۱۱ تومان پول دارند.

۳ حاصل جمع و تفریق‌های زیر را به صورت ذهنی به دست آورید.

۶۰۰۰ - ۴۰۰۰ = .....  
۴۱۰۰ + ۹۰۰ = .....  
۱۷۰۰ + ۳۰۰ = .....  
۹۰۰۰ - ۷۰۰ = .....  
۵۰۰۰ + ۲۰۰۰ = .....  
۴۰۰۰ - ۵۰۰ = .....

۴ با حذف رقم یکان و دهگان و صدگان حاصل جمع و تفریق‌های زیر را از بین پاسخ‌ها پیدا کنید.

$$\begin{array}{r} 2562 \\ + 2487 \\ \hline \end{array}$$


$$\begin{array}{r} 1768 \\ + 2359 \\ \hline \end{array}$$

- ۱۱۰۰
- ۶۰۰۰
- ۵۰۰۰
- ۶۸۰۰
- ۱۰۰۰

۵ حاصل تقریبی هر عبارت بین کدام دو عدد هزارتایی قرار می‌گیرد؟ (با حذف رقم یکان و دهگان)

$$7000 \leftarrow 6351 + 1483 \rightarrow 8000$$


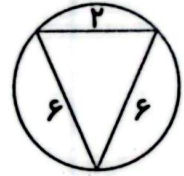
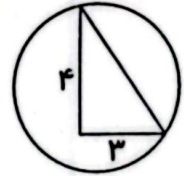
$$2000 \leftarrow 4458 - 2367 \rightarrow 3000$$





با توجه به شکل‌های زیر گزینه‌ی مناسب را رنگ کنید.

مثلث متساوی‌الساقین	مثلث قائم‌الزاویه	مثلث متساوی‌الاضلاع
مثلث متساوی‌الساقین	مثلث قائم‌الزاویه	مثلث متساوی‌الاضلاع
مثلث متساوی‌الساقین	مثلث قائم‌الزاویه	مثلث متساوی‌الاضلاع



### علوم

۱ نوع ریشه‌ی هر کدام از تصاویر را بنویسید. (راست - افشان)




..... راست .....      ..... راست .....      ..... راست .....      ..... افشان .....      ..... افشان .....

۲ گیاهانی را که ریشه‌ی آن‌ها خوراکی است با علامت ضربدر مشخص کنید.



۳ سه گیاه نام ببرید که مواد غذایی را در ریشه‌ی خود ذخیره می‌کنند.

..... ترب ..... هویج ..... سلغم ..... لوب .....  
 .....





۴ از برگ چه گیاهی به عنوان خوراکی و غذا استفاده می‌شود؟ (سه مورد نام ببرید).

کاهو - اسفناج - جعفر - نعناع

### فارسی

۱ زیر کلمات نادرست خط بکشید و درست آن‌ها را بنویسید.

سنعت ، بحس ، محلی ، وضیفه ، باعث ، حفظ ، برخواست

صنعت - بحس - وضیفه - برخاست

۲ بیت زیر را کامل کنید.

معین خورشید را کسب آنگار

دست در دست هم دهیم به مهر

۳ در متن درس چهاردهم، واژه‌هایی که بی‌نقطه هستند پیدا کنید و بنویسید.

رسم - درس - اصل - گروه - ولی - طول - سال - احمد - جلوی کلاس - هم - عمل - دست - مهر - هدیه - همکار - می‌داد

۴ برای این جدول پرسش‌های مناسب بنویسید.

			ب	آ	۱
			ر	ز	۲
		ن	ه	ی	۳
	ن	ا	ر	ی	۴
ه	ا	ی	د	ا	۵

۱- مایه‌ی حیات

۲- نام دریای شمال ایران

۳- نام دیگر وطن

۴- کسوری که از دوسو (شمال و جنوب) به دریای خلیج می‌رسد


۵- محل تولد

### مطالعات اجتماعی

۱ کدام کارها در مدرسه انجام نمی‌شود؟ مشخص کنید.



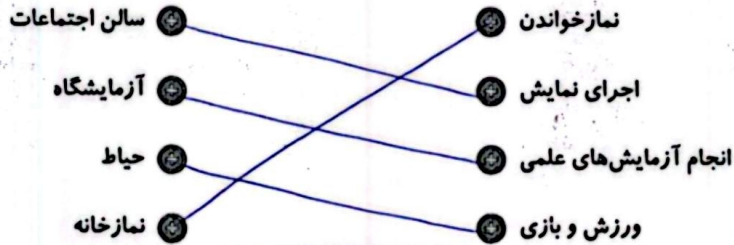
۳



۲ پنج مورد از کارهای مورد علاقه خود در مدرسه را بنویسید.

هنر - ورزش - موسیقی - بازی با همکلاسی ها در زنگ تفریح - صرف نهار در کلاس درس

۳ هریک از کارهای سمت راست در کدام مکان از مدرسه انجام می گیرند؟ (وصل کنید).



### هدیه های آسمان - قرآن

۱ نام های حضرت زهرا (س) را از جدول زیر پیدا کنید. علاوه بر رنگ کردن آن ها در جدول، نام ها را بنویسید.

م	ب	ا	ر	ک	ه
ف	ا	ط	م	ه	م
ص	د	ی	ق	ه	ر
ط	ا	ه	ر	ه	ض
م	ح	د	ث	ه	ی
ر	ی	ح	ا	ن	ه

مبارک  
فاطمه  
صدیقه  
طاهره  
عده  
ریحانه  
مرصنه

۲ تسبیحات حضرت زهرا (س) را به ترتیب نام ببرید و تعداد آن ها را بنویسید.

۳۳ بار الحمد لله      ۳۳ بار سبحان الله      ۳۴ بار الله اعلم

- ◀ جدول کلمات
- ◀ واژه شناسی
- ◀ کارها و مکان های مختلف مدرسه
- ◀ آشنایی با حضرت زهرا (س)

- ◀ جمع و تفریق فرآیندی
- ◀ جمع و تفریق ذهنی
- ◀ جمع و تفریق تقریبی
- ◀ اجزای گیاهان
- ◀ انواع ریشه

شاخص ها

- خوبی خوب
- خوب
- قابل قبول
- نیاز به تلاش بیشتر

