

ارمغان هفته - سوم دبستان

شماره‌ی

۲۷

نام و نام خانوادگی: تاریخ: نام آموزگار:

ریاضی < فصل ۷: حدس و آزمایش، استوانه و مخروط مطالعات اجتماعی < درس ۱۹: مکان‌های مدرسه را بشناسیم.
 علوم < درس ۱۱ و ۱۲: بکارید و ببینید، هر کدام جای خود (۱) هدیه‌های آسمان < درس ۱۶: داناترین مردم
 فارسی < درس ۱۵: دریا قرآن < انس با قرآن کریم ۱۲

ریاضی

۱) ۵ برابر عددی به علاوه ۳ می‌شود ۴۸، آن عدد چیست؟

آن عدد ۱۹ است

$$5 \times 9 + 3 = 48 \rightarrow \begin{cases} 48 - 3 = 45 \\ 45 \div 5 = 9 \end{cases}$$

۲) ۴ برابر شعاع دایره‌ای ۱۶ سانتی‌متر است، قطر دایره چند سانتی‌متر است؟

شعاع دایره ۴ قطر دایره ۸

$$16 \div 4 = 4$$

۳) نام سه وسیله‌ی استوانه‌ای شکل را بنویسید.

لبو، ان، بطری، آکسیژن، قاپلم

۴) مسئله‌های زیر را با استفاده از راهبرد حدس و آزمایش حل کنید.

الف) عددی را نصف کردیم سپس حاصل را با ۴ جمع کردیم و جواب ۱۲ شد، آن عدد کدام است؟

آن عدد ۱۰ است

$$19 \div 2 + 4 = 12 \rightarrow \begin{cases} 12 - 4 = 8 \\ 8 \times 2 = 16 \end{cases}$$

ب) اندازه‌ی محیط یک مستطیل ۱۲ سانتی‌متر است، اگر عرض مستطیل نصف طول آن باشد، اندازه‌ی عرض آن چقدر است؟

عرض = ۲ × طول
 طول = ۲ × ۲ = ۴

$$2 \times \text{طول} = 12 \Rightarrow \text{عرض} + \text{طول} = 6 \Rightarrow 2 \times \text{عرض} + \text{عرض} = 6 \Rightarrow 3 \times \text{عرض} = 6 \Rightarrow \text{عرض} = 2$$

ب) عددی را بر ۸ تقسیم کردیم و حاصل را در خودش ضرب کردیم پاسخ ۹ شد، عدد مورد نظر چند است؟

آن عدد ۲۴ است

$$24 \div 8 = 3 \times 3 = 9$$

$8 \div 8 = 1 \times 1 = 1$ X

$19 \div 8 = 2 \times 2 = 4$ X

$24 \div 8 = 3 \times 3 = 9$ ✓

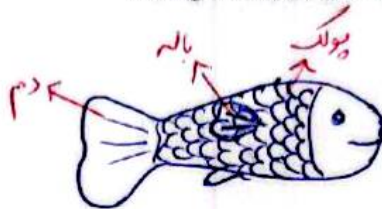
۱

بهراد می خواهد برای تولد برادرش یک کلاه رنگارنگ درست کند. او با برش زدن کدام یک از اشکال زیر می تواند کلاه را بسازد؟



علوم

۱ تصویر یک ماهی را بکشید و پولک، دم و باله های آن را مشخص کنید.



۲ جاهای خالی را با کلمات مناسب کامل کنید.

الف) ماهی ها آب تنفس ... دارند و از هوای درون آب تنفس می کنند.

ب) لغز لرزه ... بودن روی بدن ماهی به حرکت آن کمک می کند.

۳ من چیستم؟

الف) خیلی کوچکم، اما اگر در خاک بیفتم و آب کافی به من برسد می توانم گیاه جدیدی بسازم. دانه

ب) بخشی از گل زعفران هستم که مرا از گل جدا می کنند و بسیار قیمتی هستم. پرچم


پ) قسمتی از گیاه هستم که به کارخانه ی غذا سازی معروفم. برگ

ت) گاهی با برگ های سوزنی هستم که مخروط دارم و همیشه سبزم. کاج

۴ با توجه به تعداد گلبرگ ها، برگ و ریشه ی هر گل را بکشید.



مغزب ۴ یا ۵
برگ ۲



مغزب ۶ یا ۳
برگ ۳ یا ۲ یا ۱



فارسی

۱ ماهی را به تنگ برسانید. حرف‌هایی را رنگ بزنید که با استفاده از آن جمله‌ی «دریای آبی زیباست» ساخته شود.



ی	ه	د	ن	م	ل	گ	ی	ه	ج	م
س	ل	ب	ی	ش	ی	ی	ا	ر	ر	د
ت	س	ز	ی	ب	آ	ی	ا	ه	ا	ز
ت	ا	ب	ی	ی	ا	م	ا	ه	ل	د



۲ با استفاده از کلمه‌های «بپایه (زبان) گوشه و دسته» متن زیر را کامل کنید. (یک کلمه اضافه است.) *زبان مادر است*

«اتاق تاریک بود. دستم به صندلی خورد و روی زمین افتاد و یک درد ... ی آن شکست. ناگهان کسی وارد اتاق شد. مادرم سرو صدا را شنیده بود و به اتاق آمده بود. پایش به باید ... ی میز گیر کرد و به زمین افتاد. مرا که در گوشه ی اتاق نشسته بودم و از ترس می‌لرزیدم، با خود برد.»

۳ مانند نمونه شباهت‌ها را پیدا کنید و بنویسید.

چشمش خورشیدی درخشان است، یعنی چشم او مثل خورشید می‌درخشد.

صورت مادرم گلی سرخ و زیباست، یعنی صورت مادرم مثل گل سرخ زیبا است.

دندان‌های مریم مرواریدهایی سفید است، یعنی دندان‌های مریم مثل مروارید سفید و براق است.

مطالعات اجتماعی

۱ برای هر مکان نماد مرتبطی به دلخواه خود بکشید.



کتابخانه



نمازخانه




آزمایشگاه



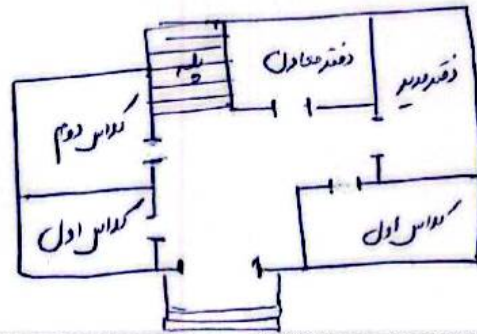
اتاق بهداشت

۳





نقشه‌ی ساده‌ای از یکی از طبقات مدرسه خود رسم کنید. (سعی کنید اصلی‌ترین طبقه را در نظر بگیرید.)



با توجه به کلمات زیر جاهای خالی را کامل کنید.

«فروشگاه - علامت‌هایی - احترام به دیگران - مفید - سلامتی - مقرراتی،

الف) برای استفاده از نقشه در کنار آن برای راهنمایی باید علامت‌هایی وجود داشته باشد.

ب) معمولاً هر مدرسه در کنار حیاط یک ... فروشگاه ... کوچک دارد.

پ) مدرسه هم مانند خانه ... مقرراتی ... دارد.

ت) رعایت بعضی از مقررات در مدرسه موجب حفظ سلامتی ما می‌شود و بعضی مقررات را برای احترام رعایت می‌کنیم.

دست‌بندی گیاخان - قرآن

۱) محل دفن امام محمد باقر (ع) در کنار امام ... معجاری ... (ع)، در قبرستان ... بقیع ... می‌باشد.

۲) لقب امام پنجم چیست؟ و تحقیق کنید که چرا به ایشان این لقب را داده‌اند؟

... باقر العلوم ... باقر العلوم یعنی ... سلطان قدره ... علم ... استان ... بسیار عالم و دانشمند بود ... و به همین دلیل به باقر العلوم معروف شدند ...

- ◀ واژه‌شناسی
- ◀ آشنایی با نقشه و نقشه‌خوانی
- ◀ مقررات مدرسه
- ◀ آشنایی با امام پنجم

- ◀ راهبرد حدس و آرمایش
- ◀ شناخت استوانه و مخروط و گسترده‌ی آن‌ها
- ◀ دسته‌بندی گیاهان
- ◀ جانوران مهره‌دار (ماهی‌ها)
- ◀ تشبیه

شما چقدر می‌دانید؟

همه درست است

درست است

غلط است

باز به تلاش بیشتر

۴

