

درس شانزدهم   
اگر جنگل نباشد




درس شانزدهم

# اگر جنگل نباشد




**بند ۱** جنگل پهنادر و زیباست. صدای آرام نسیم در همه جای جنگل، شنیده می شود. گاه نیز عرش و زوزهی جانوران، سکوت جنگل را می شکنند.

**بند ۲** اگر روزی با هواپیما از بالای جنگلی بگذری، فرشی سبز، زیبا و گسترده می بینی که گاه صدها کیلومتر از زمین را پوشانده است. در این جنگل ها چه می گذرد؟ نمی دانیم. شاید پلنگی بر شاخهی درختی، در کمین نشسته باشد. شاید میمون های بازیگوش، بر شاخه ها مشغول بازی باشند. شاید فیل ها و کرگدن ها مشغول آب تنی در رودخانه ای باشند که از جنگل می گذرد. شاید هم در حاشیهی جنگل، خانواده هایی سرگرم تفریح و استراحت باشند.

An illustration of a forest scene. In the upper left, an elephant with white tusks is partially visible, standing near a body of water. In the lower left, a brown turtle is shown. The background consists of green foliage and tree trunks. A white text box is overlaid on the right side of the image.

بند ۳) اگر جنگل نبود؛ چه می شد؟ شاید بگویید معلوم است؛  
دیگر میز و صندلی، تخت خواب و کمد، در و پنجره، کاغذ،  
خانه های جنگلی، قایق و کشتی و هزاران وسیله ی چوبی  
دیگر نبود؛ اما این ها بخشی از فایده های جنگل است. اگر  
جنگل نباشد، اکسیژن مورد نیاز انسان فراهم نمی شود و مواد  
سمی هوا از بین نمی رود.

بند ۴) اگر جنگل نباشد؛ باران خاک را می شوید و از بین  
می برد. بادهای تندی که می وزند ممکن است همه چیز را



ویران کنند. اگر جنگل نباشد، یکی از بهترین محل های استراحت و گردش از انسان گرفته می شود.)

**بند ۵** (باید جنگل ها را حفظ کنیم و مراقب باشیم که درختان از بین نروند. اگر از جنگل مواظبت نکنیم، شاید در آینده دیگر نتوانیم داستان هایی بخوانیم که چنین آغاز می شوند: یکی بود یکی نبود. غیر از خدا هیچ کس نبود. روزی روزگاری در یک جنگل زیبا و دور... .)

## درست و نادرست



- 1 جنگل‌ها باعث از بین رفتن مواد سمی هوا می‌شوند. ✓
- 2 تنها صدایی که در جنگل شنیده می‌شود، غرّش حیوانات است. ✗

## درک مطلب



- 1 منظور نویسنده از «فرش سبز» چیست؟ جنگل
- 2 تو برای حفظ جنگل‌ها چه می‌کنی؟ در جنگل آتش روشن نمی‌کنم و آشغال نمی‌ریزم. به درختان آسیب نمی‌زنم.
- 3 جنگل چه فایده‌هایی دارد؟ .....



# ارمغان هفته - سوم دبستان

شماره

۲۷

نام و نام خانوادگی: ..... تاریخ: ..... نام آموزگار: .....

ریاضی < فصل ۷: حدس و آزمایش، استوانه و مخروط  
 علوم < درس ۱۱ و ۱۲: بکارید و ببینید، هر کدام جای خود (۱) هدیه‌های آسمان < درس ۱۶: داناترین مردم  
 فارسی < درس ۱۵: دریا  
 مطالعات اجتماعی < درس ۱۹: مکان‌های مدرسه را بشناسیم.  
 قرآن < انس با قرآن کریم ۱۲

## ریاضی

۱) ۵ برابر عددی به علاوه ۳ می‌شود ۴۸، آن عدد چیست؟

آن عدد ۹ است

$$5 \times \boxed{9} + 3 = 48 \rightarrow \begin{cases} 48 - 3 = 45 \\ 45 \div 5 = 9 \end{cases}$$

۲) ۴ برابر شعاع دایره‌ای ۱۶ سانتی‌متر است. قطر دایره چند سانتی‌متر است؟

شعاع دایره = ۴

$$16 \div 4 = 4$$

۳) نام سه وسیله‌ی استوانه‌ای شکل را بنویسید.

لیوان - بطری آب - قاپلم

۴) مسئله‌های زیر را با استفاده از راهبرد حدس و آزمایش حل کنید.

الف) عددی را نصف کردیم سپس حاصل را با ۴ جمع کردیم و جواب ۱۲ شد. آن عدد کدام است؟

آن عدد ۱۴ است

$$\boxed{14} \div 2 + 4 = 12 \rightarrow \begin{cases} 12 - 4 = 8 \\ 8 \times 2 = 16 \end{cases}$$

ب) اندازه‌ی محیط یک مستطیل ۱۲ سانتی‌متر است. اگر عرض نصف طول آن باشد، اندازه‌ی عرض آن چقدر است؟

عرض = ۳

$$2 \times \text{عرض} = 2 \times 3 = 6$$

$$2 \times \text{طول} = 2 \times 6 = 12$$

$$(2 \times \text{عرض}) + \text{عرض} = 6 + 3 = 9 \Rightarrow \text{عرض} + \text{طول} = 9 \Rightarrow 12 \div 2 = 6$$

پ) عددی را بر ۸ تقسیم کردیم و حاصل را در خودش ضرب کردیم پاسخ ۹ شد. عدد مورد نظر چند است؟

آن عدد ۲۴ است

$$\boxed{24} \div 8 = 3 \times 3 = 9$$

۸ ÷ ۸ = ۱ × ۱ = ۱ ✗

۱۶ ÷ ۸ = ۲ × ۲ = ۴ ✗

۲۴ ÷ ۸ = ۳ × ۳ = ۹ ✓

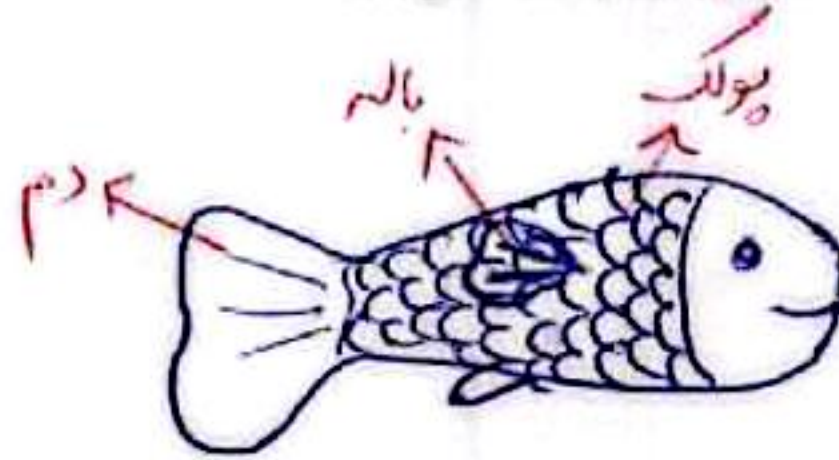


بهباد می‌خواهد برای تولد برادرش یک کلاه رنگارنگ درست کند. او با برش زدن کدام یک از اشکال زیر می‌تواند کلاه را بسازد؟



علوم

۱ تصویر یک ماهی را بکشید و پولک، دم و باله‌های آن را مشخص کنید.



۲ جاهای خالی را با کلمات مناسب کامل کنید.

الف) ماهی‌ها ...  
ب) ...

ب) ...

۳ من چیستم؟

الف) خیلی کوچکم، اما اگر در خاک بیفتم و آب کافی به من برسد می‌توانم گیاه جدیدی بسازم. ...

ب) بخشی از گل زعفران هستم که مرا از گل جدا می‌کنند و بسیار قیمتی هستم. ...


پ) قسمتی از گیاه هستم که به کارخانه‌ی غذاسازی معروفم. ...

ت) گیاهی با برگ‌های سوزنی هستم که مخروط دارم و همیشه سبزم. ...

۴ با توجه به تعداد گلبرگ‌ها، برگ و ریشه‌ی هر گل را بکشید.



مغز ۴ یا ۵  
برگ ۲



مغز ۳ یا ۶  
برگ ۳ یا ۴



## فارسی

۱ ماهی را به تنگ برسانید. حرف‌هایی را رنگ بزنید که با استفاده از آن جمله‌ی «دریای آبی زیباست» ساخته شود.



م	ج	ه	ی	گ	ل	م	ن	و	ه	ی
د	ر	ی	ا	ی	ی	ش	ی	ب	ل	س
ژ	ه	ا	ی	آ	ب	ی	ز	ی	س	ت
د	ل	ه	ا	م	ا	ی	ی	ب	ا	ت



۲ با استفاده از کلمه‌های **دپایه** (زبان) **گوشه** و **دسته**، متن زیر را کامل کنید. (یک کلمه اضافه است.) *زبان اضافه است*

داتاق تاریک بود. دستم به صندلی خورد و روی زمین افتاد و یک دسته ی آن شکست. ناگهان کسی وارد اتاق شد. مادرم سرو صدا را شنیده بود و به اتاق آمده بود. پایش به پایله ی میز گیر کرد و به زمین افتاد. مرا که در گوشه ی اتاق نشسته بودم و از ترس می‌لرزیدم، با خود برد.

۳ مانند نمونه شباهت‌ها را پیدا کنید و بنویسید.

چشمش خورشیدی درخشان است، یعنی چشم او مثل خورشید می‌درخشد.

صورت مادرم گلی سرخ و زیباست، یعنی صورت مادرم مثل گل سرخ، زیبا است.

دندان‌های مریم مرواریدهایی سفید است، یعنی ... دندان‌های مریم مثل مروارید، سفید و براق است.

## مطالعات اجتماعی

۱ برای هر مکان نماد مرتبگی به دلخواه خود بکشید.



کتابخانه



نمازخانه



آزمایشگاه

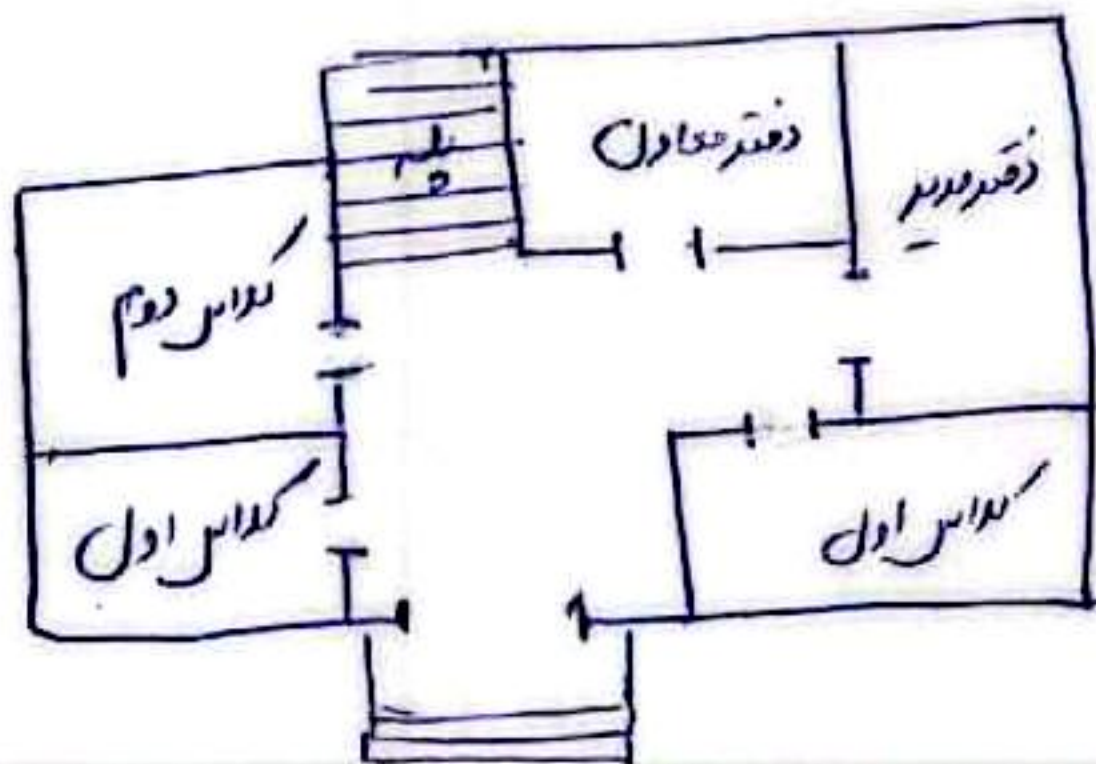


اتاق بهداشت





نقشه‌ی ساده‌ای از یکی از طبقات مدرسه خود رسم کنید. (سعی کنید اصلی‌ترین طبقه را در نظر بگیرید.)



با توجه به کلمات زیر جاهای خالی را کامل کنید.

«فروشگاه - علائم‌هایی - احترام به دیگران - مفید - سلامتی - مقرراتی»

الف) برای استفاده از نقشه در کنار آن برای راهنمایی باید علامت‌هایی وجود داشته باشد.

ب) معمولاً هر مدرسه در کنار حیاط یک ... مروارید ... کوچک دارد.

پ) مدرسه هم مانند خانه ... مقرراتی ... دارد.

ت) رعایت بعضی از مقررات در مدرسه موجب حفظ سلامتی ما می‌شود و بعضی مقررات را برای اجتناب ... رعایت می‌کنیم.

به دیگران

### هدیه‌های آسمان - قرآن

۱) محل دفن امام محمد باقر (ع) در کنار امام ... معبود ... (ع)، در قبرستان ... بقیع ... می‌باشد.

۲) لقب امام پنجم چیست؟ و تحقیق کنید که چرا به ایشان این لقب را داده‌اند؟

..... با قرآن‌علویم ... با قرآن‌علویم یعنی ... سپاه قرآن ... علم ... آسمان ... بسیار عالم و دانشمند بودند و به همین دلیل ... باقر ... معروف شدند.

- ◀ واژه‌شناسی
- ◀ آشنایی با نقشه و نقشه‌خوانی
- ◀ مقررات مدرسه
- ◀ آشنایی با امام پنجم

- ◀ راهبرد حدس و آزمایش
- ◀ شناخت استوانه و مخروط و گسترده‌ی آن‌ها
- ◀ دسته‌بندی گیاهان
- ◀ جانوران مهره‌دار (ماهی‌ها)
- ◀ تشبیه

شخصیت‌ها

- ◀ حسن عسکری
- ◀ زین العابدین
- ◀ امام رضا
- ◀ امام جواد
- ◀ امام محمد باقر

