



شماره ی

۲۸

ارمغان هفته - سوم دبستان

نام و نام خانوادگی: تاریخ: نام آموزگار:

ریاضی < فصل ۷: جدول داده‌ها، نمودارهای آماری و احتمال مطالعات اجتماعی < درس ۲۰: خانه شما کجاست؟
 علوم < درس ۱۲ و ۱۳: هر کدام جای خود (۱) و (۲) هدیه‌های آسمان < درس ۱۷: خواب شیرین
 فارسی < درس ۱۵ و ۱۶: دریا - اگر جنگل نباشد. قرآن < انس با قرآن کریم (۱۳)

ریاضی

۱ در یک کیسه ۷ مهره‌ی آبی و ۵ مهره‌ی قرمز وجود دارد؟

الف) چه کسری از مهره‌ها آبی هستند؟ $\frac{7}{12}$

ب) چه کسری از مهره‌ها قرمز هستند؟ $\frac{5}{12}$

پ) احتمال بیرون آمدن کدام رنگ با چشم بسته بیشتر است؟ ... آبی چون ... از قرمز بیشتر است

۲ جدول زیر مربوط به داده‌های یک گل‌فروشی می‌باشد. صاحب مغازه تعداد گل‌هایی را که در یک هفته فروخته است را در این جدول یادداشت کرده است.


نوع گل	مریم	یاس	ارکیده	رز
تعداد	۲۰	۱۰	۳۰	۴۰

الف) چه کسری از گل‌های فروخته شده مریم می‌باشد؟

$\frac{20}{100}$

ب) کدام گل‌ها بیش‌تر فروخته شده‌اند؟ رز

پ) نمودار دایره‌ای داده‌های این مسئله را رسم کنید.




۳ در کدام کیسه احتمال خارج شدن رنگ قرمز بیشتر است؟ دلیل انتخاب خود را بنویسید.

در هر کیسه که تعداد قرمزها از تغییر رنگ‌ها بیشتر باشد احتمال خارج شدن قرمز بیشتر است.

احتمال سفید ۱/۳
 احتمال قرمز ۲/۳

۴ تعداد شیرینی‌های یک شیرینی‌فروشی به صورت زیر می‌باشد. برای مقایسه‌ی تعداد شیرینی‌ها شما چه نموداری را پیشنهاد می‌کنید؟ آن را رسم کنید. نمودار ستونی



نوع شیرینی	تعداد
خامه‌ای	۲۰
دانسارکی	۱۰
باقلوا	۱۵
ناپلونی	۵



۵ جواب درست را با مشخص کنید.

جمله	به طور حتم اتفاق می افتد	احتمال دارد اتفاق بیافتد	به طور حتم اتفاق نمی افتد
(۱) به دنیا آمدن یک انسان با ۷ پا	<input type="checkbox"/>	<input type="checkbox"/>	<input checked="" type="checkbox"/>
(۲) اگر شب دیر بخوابیم صبح دیر بیدار می شویم.	<input type="checkbox"/>	<input checked="" type="checkbox"/>	<input type="checkbox"/>
(۳) اگر باران بیارد زمین خیس می شود.	<input type="checkbox"/>	<input type="checkbox"/>	<input checked="" type="checkbox"/>
(۴) در شب هوا روشن باشد.	<input type="checkbox"/>	<input type="checkbox"/>	<input checked="" type="checkbox"/>
(۵) فردا خورشید طلوع نکند.	<input type="checkbox"/>	<input type="checkbox"/>	<input checked="" type="checkbox"/>

۶ جدول زیر تعداد درختان باغ بزرگ سحر را نشان می دهد. با توجه به آن نمودارها را کامل کنید.


درخت	سیب	گلابی	گیلاس	انار
تعداد	۱۵	۱۰	۱۰	۵

$$15 + 10 + 10 + 5 = 40$$

$$40 \div 8 = 5$$

با توجه به نموداری که رسم کردید کدام درختها به صورت مساوی در باغ وجود دارد؟

گلابی و گیلاس



علوم

۱ درستی و نادرستی هر عبارت را مشخص کنید.

- (الف) بچه قورباغه ها در خشکی زندگی می کنند.
- (ب) نوعی وزغ وجود دارد که پاهایش برآمدگی شبیه بیل کوچک دارد.
- (پ) بدن دلفین ها پولک ندارد.


۲ کدام گزینه عبارت زیر را به درستی کامل نمی کند؟

ماهی ها

- (۱) برخلاف دوزیستان بالغ، آبشش دارند.
- (۲) برخلاف نوزاد دوزیستان، از هوای محلول در آب استفاده می کنند.
- (۳) همانند دوزیستان در آب تخم گذاری می کنند.
- (۴) همانند نوزاد دوزیستان، دست و پا ندارند.



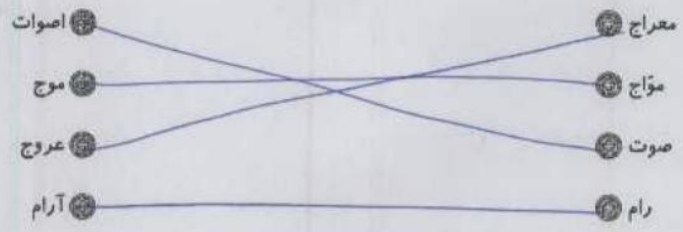
۳ تفاوت‌ها و شباهت‌های کوسه و نهنگ را بیان کنید.
 کوسه با آبشش و نهنگ با سینه تنفس می‌کند.
 تفاوت کوسه جزو دسته‌ی ماهی‌ها و نهنگ جزو پستانداران است. کوسه تخم‌گذار و نهنگ بچه‌زا است.
 نهنگ در آب می‌زند و کوسه در خشکی می‌زند و باله دارد نهنگ.



۴ پولک دو جانور زیر با هم چه فرقی دارد؟ چرا؟
 پولک پولک‌های بدن ماهی است و لانه‌ساز است و ماهی
 می‌شود آسان‌تر در آب حرکت کند. ولی پولک ماهی
 بدن صاف بسیار زیاده‌تر است.

فارسی

۱ کلمات هم‌خانواده را به هم وصل کنید.



۲ از میان کلمات زیر، کلمات غلط را پیدا کنید و صحیح آن را بنویسید.

« قوطه ، مثل ، عقیق ، ذلال ، ساحل ، ماصه »

قوطه - افق - ذلال - ماصه

۳ کلمات زیر را به ترتیب حروف الفبا مرتب کنید.

« قوطه - افق - صورت - موج - مهربان - دل‌گشا - ساحل »



مطالعات اجتماعی


۱ الف کدام نهاد برای خانه‌ها نشانی تعیین می‌کند؟

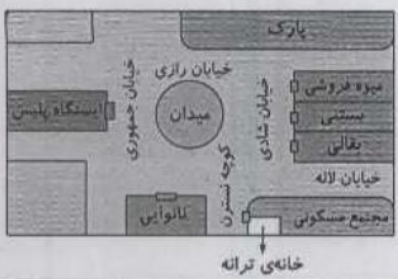
شهرداری

ب) آیا تا به حال به پلاک‌های کوچه یا خیابان خود دقت کرده‌اید؟ این پلاک‌ها به چه ترتیبی کنار هم قرار می‌گیرند؟

بله. اعداد زوج در یک طرف و اعداد فرد در طرف مقابل آن کوی قرار می‌گیرند.

۳





۲ با توجه به تصویر، در جاهای خالی کلمه‌های مناسب بنویسید.
 الف) ترانه می‌تواند از مسیر ... کوچه نسترن ... به میوه فروشی برود.
 ب) ایستگاه پلیس در خیابان ... جمهوری ... قرار دارد.
 پ) نانوايي در کنار کوچه‌ی ... نسترن ... قرار دارد.
 ت) بقالی در تقاطع خیابان لاله ... و خیابان شادی قرار دارد.

۳ الف) کدام گزینه نشانی دقیق خانه را نشان می‌دهد؟

- ۱) نام شهر - نام محله - شماره‌ی خانه
 ۲) نام شهر - نام محله - نام کوچه - پلاک
 ۳) نام خیابان - نام کوچه - شماره‌ی خانه
 ۴) نام محله - نام کوچه - پلاک
- ب) علت گم شدن یک فرد چه چیزی می‌تواند باشد؟ هنگام گم شدن به چه کسی مراجعه می‌کنیم؟
- ۱) نبودن بزرگ‌ترها - پستی
 ۲) بی‌نظمی - پلیس
 ۳) نداشتن خانه - مأمور شهرداری
 ۴) نداشتن آدرس - پلیس

هدیه‌های آسمان - قرآن

۱ با توجه به فرمایش امام صادق (ع)، چند مورد از نشانه‌های مؤمنان را نام ببرید.

۱. راست گوئی، ۲. امانت داری، ۳. وفای به عهد، ۴. خوش خلقی، ۵. دیوار خونساز و دیوار و کعبه را با ما بنویسند.

۲ امام جعفر صادق (ع)، فرزند امام محمد باقر (ع) است و در قبرستان ... بقیع ... به خاک سپرده شده است.

۳ نام سه نفر از امامان را بنویسید که در قبرستان بقیع دفن شده‌اند.

..... امام جعفر صادق - امام محمد باقر - امام مجتهد رضا

- ◀ ترتیب حروف الفبا
- ◀ آشنایی با آدرس و نشانی
- ◀ تشخیص نشانی از روی نقشه
- ◀ آشنایی با امام ششم

- ◀ جدول داده‌ها و نمودارهای آماری
- ◀ احتمال
- ◀ شناخت جانوران مهره‌دار (دوزیستان، ماهی‌ها، خزندگان، پستانداران)
- ◀ کلمات هم خانواده

شایسته‌ها

خیابان خورشید
 خورشید
 تابان خورشید
 بار بار به تلاش پیش برو

