



شماره‌ی

۲۷

# ارمغان هفته - سوم دبستان

نام و نام خانوادگی: ..... تاریخ: ..... نام آموزگار: .....

ریاضی < فصل ۷: حدس و آزمایش، استوانه و مخروط < مطالعات اجتماعی < درس ۱۹: مکان‌های مدرسه را بشناسیم  
علوم < درس ۱۱ و ۱۲: بکارید و ببینید، هر کدام جای خود (۱) هدیه‌های آسمان < درس ۱۶: داناترین مردم  
فارسی < درس ۱۵: دریا < قرآن < انس با قرآن کریم ۱۲

## ریاضی

۱) ۵ برابر عددی به علاوه ۳ می‌شود ۴۸، آن عدد چیست؟

$$5 \times \boxed{9} + 3 = 48 \rightarrow \begin{cases} 48 - 3 = 45 \\ 45 \div 5 = 9 \end{cases}$$

آن عدد ۹ است

۲) ۴ برابر شعاع دایره‌ای ۱۶ سانتی‌متر است. قطر دایره چند سانتی‌متر است؟

$$4 \times \text{شعاع} = 16 \rightarrow \text{شعاع دایره} = 4$$

شعاع دایره = ۴

۳) نام سه وسیله‌ی استوانه‌ای شکل را بنویسید.

لیوان - بطری آب - قالیچه

۴) مسئله‌های زیر را با استفاده از راهبرد حدس و آزمایش حل کنید.

الف) عددی را نصف کردیم سپس حاصل را با ۴ جمع کردیم و جواب ۱۲ شد. آن عدد کدام است؟

$$\boxed{14} \div 2 + 4 = 12 \rightarrow \begin{cases} 12 - 4 = 8 \\ 8 \times 2 = 16 \end{cases}$$

آن عدد ۱۲ است

ب) اندازه‌ی محیط یک مستطیل ۱۲ سانتی‌متر است. اگر عرض مستطیل نصف طول آن باشد، اندازه‌ی عرض چقدر است؟

۲ × عرض + طول = ۱۲

$(4 + 2) \times 2 = 12$

۳ + ۳ = ۶ (X)  
۵ + ۱ = ۶ (X)  
۴ + ۲ = ۶ (✓)

پ) عددی را بر ۸ تقسیم کردیم و حاصل را در خودش ضرب کردیم پاسخ ۹ شد. عدد مورد نظر چند است؟

$$\boxed{24} \div 8 = 3 \times 3 = 9$$

آن عدد ۲۴ است

$8 \div 8 = 1 \times 1 = 1$  (X)  
 $14 \div 8 = 2 \times 2 = 4$  (X)  
 $24 \div 8 = 3 \times 3 = 9$  (✓)

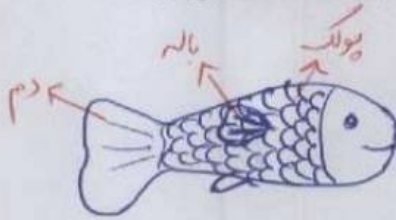


۵) بهزاد می‌خواهد برای تولد برادرش یک کلاه رنگارنگ درست کند. او با برش زدن کدام یک از اشکال زیر می‌تواند کلاه را بسازد؟



علوم

۱) تصویر یک ماهی را بکشید و پولک، دم و باله‌های آن را مشخص کنید.



۲) جاهای خالی را با کلمات مناسب کامل کنید.

الف) ماهی‌ها آب دارند و از هوای درون آب تنفس می‌کنند.

ب) لغز بودن روی بدن ماهی به حرکت آن کمک می‌کند.

۳) من چیستم؟

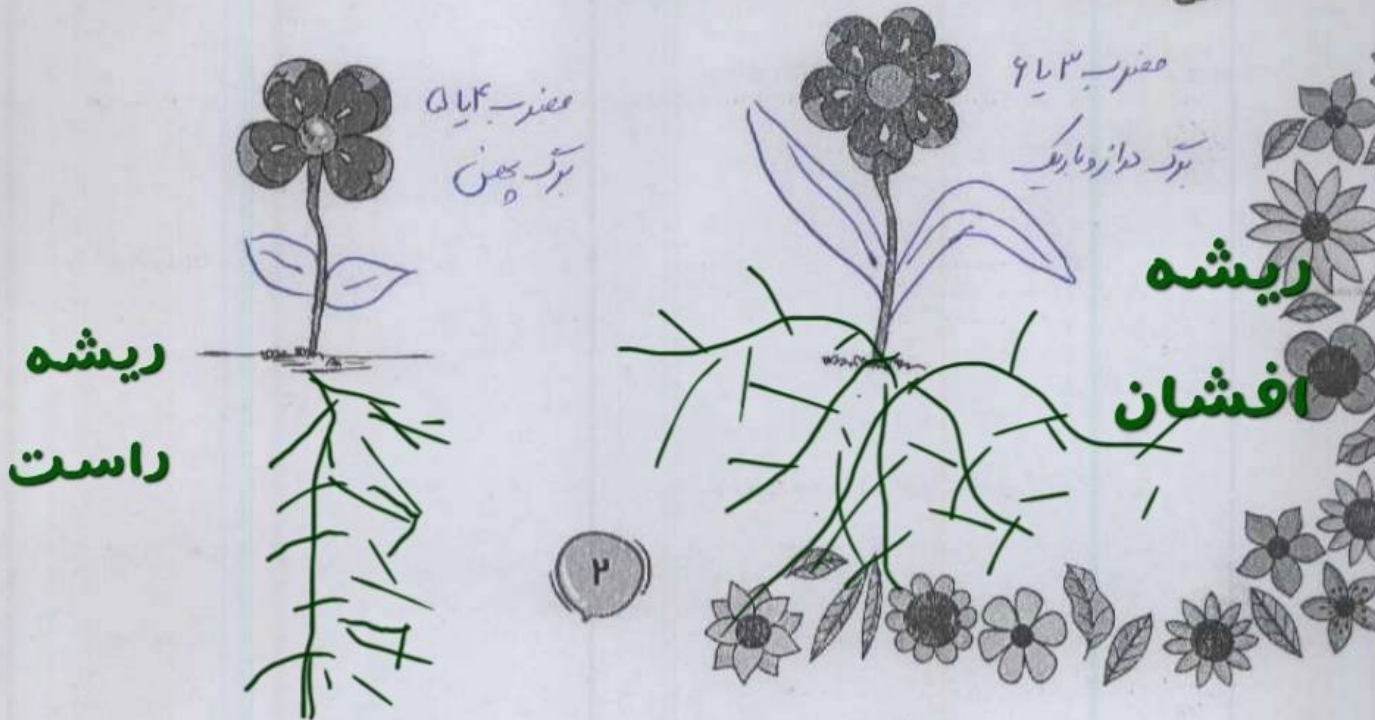
الف) خیلی کوچکم، اما اگر در خاک بیفتم و آب کافی به من برسد می‌توانم گیاه جدیدی بسازم. دانه

ب) بخشی از گل زعفران هستم که مرا از گل جدا می‌کنند و بسیار قیمتی هستم. پرچم

پ) قسمتی از گیاه هستم که به کارخانه‌ی غذاسازی معروفم. برگ

ت) گیاهی با برگ‌های سوزنی هستم که مخروط دارم و همیشه سبزیم. کاج

۴) با توجه به تعداد گلبرگ‌ها، برگ و ریشه‌ی هر گل را بکشید.



## فارسی

۱ ماهی را به تنگ برسانید. حرف‌هایی را رنگ بزنید که با استفاده از آن جمله «دریای آبی زیباست.» ساخته شود.



م	ج	ه	ی	گ	ل	م	ن	و	ه	ی
د	ر	ی	ا	ی	ش	ی	ب	ل	س	س
ژ	ه	ا	ی	آ	ب	ی	ز	ی	س	ت
د	ل	ه	ا	م	ا	ی	ی	ب	ا	ت



۲ با استفاده از کلمه‌های **دپایه** (زبان) **گوشه** و **دسته**، متن زیر را کامل کنید. (یک کلمه اضافه است.) *زیبا از خانه است*

اتاق تاریک بود. دستم به صندلی خورد و روی زمین افتاد و یک دسته ی آن شکست. ناگهان کسی وارد اتاق شد. مادرم سرو صدرا شنیده بود و به اتاق آمده بود. پایش به دپایه ی میز گیر کرد و به زمین افتاد. مرا که در گوشه ی اتاق نشسته بودم و از ترس می‌لرزیدم، با خود برد.

۳ مانند نمونه شباهت‌ها را پیدا کنید و بنویسید.

چشمش خورشیدی درخشان است، یعنی چشم او مثل خورشید می‌درخشد.

صورت مادرم گلی سرخ و زیباست، یعنی صورت مادرم مثل گل سرخ، زیبا است


دندان‌های مریم مرواریدهایی سفید است، یعنی دندان‌های مریم مثل مروارید، سفید و براق است

## مطالعات اجتماعی

۱ برای هر مکان نماد مرتبطی به دلخواه خود بکشید.



کتابخانه



سازخانه



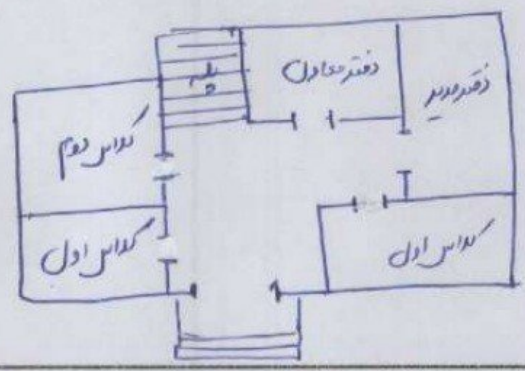
آزمایشگاه



اتاق بهداشت



۲ نقشه‌ی ساده‌ای از یکی از طبقات مدرسه خود رسم کنید. (سعی کنید اصلی‌ترین طبقه را در نظر بگیرید).



۳ با توجه به کلمات زیر جاهای خالی را کامل کنید.

فروشگاه - علاقه‌هایی - احترام به دیگران - مفید - سلامتی - مقرراتی،

الف) برای استفاده از نقشه در کنار آن برای راهنمایی باید علائق‌هایی وجود داشته باشد.

ب) معمولاً هر مدرسه در کنار حیاط یک فروشگاه کوچک دارد.

پ) مدرسه هم مانند خانه مقرراتی دارد.

ت) رعایت بعضی از مقررات در مدرسه موجب حفظ سلامتی ما می‌شود و بعضی مقررات را برای احترام رعایت می‌کنیم.

به دیگران

### هدیه‌های آسمان - قرآن

۱ محل دفن امام محمد باقر (ع) در کنار امام مجتهد (ع)، در قبرستان بقیع می‌باشد.

۲ لقب امام پنجم چیست؟ و تحقیق کنید که چرا به ایشان این لقب را داده‌اند؟

..... باقر العظمی ... باقر العظیم ... یعنی ... سلاطین ... علم ... استان ... بسیار عالم و دانشمند بود و به همین دلیل ... باقر العظمی معروف شدند.

- ◀ واژه‌شناسی
- ◀ آشنایی با نقشه و نقشه‌خوانی
- ◀ مقررات مدرسه
- ◀ آشنایی با امام پنجم

- ◀ راهبرد حدس و آزمایش
- ◀ ساخت استوانه و مخروط و گسترده‌ی آن‌ها
- ◀ دسته‌بندی گیاهان
- ◀ جانوران مهره‌دار (ماهی‌ها)
- ◀ تشبیه

شاخص‌ها

- صفت خوب
- بد
- قابل قبول
- نار به تلاش بیشتر

