



ارمغان هفته - سوم دبستان

نام و نام خانوادگی: تاریخ: نام آموزگار:

ریاضی < فصل ۸ حذف حالت های نامطلوب
 علوم < درس ۱۲ و ۱۳: هر کدام جای خود (۱) و (۲)
 فارسی < درس ۱۶: اگر جنگل نباشد.
 مطالعات اجتماعی < درس ۱: جهت های اصلی
 هدیه های آسمان < درس ۱۸: آینه ی سخنگو
 قرآن < انس با قرآن کریم (۱۴)

ریاضی

۱ کوچک ترین عدد فرد چهار رقمی بدون تکرار رقم ها را که مجموع رقم های آن ۱۰ باشد بنویسید.

۱۰۰۹

$7 \times 8 = 56$

۲ حاصل ضرب دو عدد ۵۶ و جمع آن دو ۱۵ است. این دو عدد کدامند؟

$7 + 8 = 15$

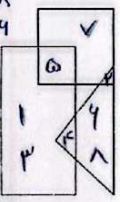
۳ اختلاف بزرگ ترین عدد چهار رقمی با کدام عدد برابر با ۲۳۵۷ است؟
 $9999 - 7642 = 2357 \Rightarrow$ $9999 - 2357 = 7642$
 این عدد ۷۶۴۲ است.
 بزرگ ترین عدد چهار رقمی = ۹۹۹۹

۵	۴	۳	۲	۱
۸	۷	۶	۵	۴
۸	۲	۴	۴	۲
۷	۸	۴	۴	۲
۷	۳	۴	۲	۸
۳	۷	۴	۸	۴
۳	۸	۴	۴	۲

۴ با رقم های ۰، ۸، ۴، ۳ و ۲ چند عدد چهار رقمی می توان نوشت که رقم دهگان آن ۴ باشد؟ (تکرار ارقام مجاز نیست).

$\Rightarrow 8443 - 8344 - 4844 - 4448 - 3448 - 3844$


۵ عددهای ۰ تا ۸ را با توجه به توضیحات داده شده را در جای خود قرار دهید.



- الف) در مثلث فقط عددهای زوج است.
- ب) عدد ۵ هم در مربع و هم در مستطیل است.
- پ) عدد ۱ و ۳ فقط در مستطیل هستند.
- ت) عدد ۲ هم در مربع و هم در مثلث است.
- ث) عدد ۴ هم در مستطیل و هم در مثلث است.
- ج) عدد ۷ فقط در مربع است.

علوم

۱ جانوران مهره دار را آبی و بی مهره را قرمز کنید.



خزندگان روی تخم‌های خود نمی‌خوابند ولی پرندگان روی تخم‌های خود می‌خوابند، بنابراین:

- تخم‌های پرندگان در برابر عوامل خطرناک محیطی مقاوم‌تر است.
- تخم‌های پرندگان نسبت به خزندگان بزرگ‌ترند و اندوخته‌ی غذایی بیش‌تری دارند.
- تخم‌های خزندگان نسبت به پرندگان زودتر به جنین تبدیل می‌شوند.
- تخم‌های پرندگان باید گرم نگه داشته شوند.

تحقیق کرده و بنویسید.









الف) پستانداری تخم‌گذار است: *پلایوس پرورس*

ب) پستانداری پرنده است: *حماقایی*

پ) پستانداری شناگر است: *وال یا شنگ*

ت) پستانداری خزنده است: *الدرنا*

هر پا مربوط به کدام پرنده است؟ (عکس پرنده را از برجسب‌ها ببرید و در کنار پاهایش بچسبانید.) حالا از روی پای آن پرنده بگویید چه مهارتی دارد.

			
			
<i>مهارت شنا کردن</i>	<i>پای شام‌نشین</i>	<i>تیزبینی و چابکی</i>	<i>پاهای قوی و بلند برای راه رفتن</i>

حیوانات ما قبل تاریخ به نام دایناسور در کدام گروه جانوران مهره‌دار قرار می‌گیرند؟ دلیل این انتخابتان چیست؟

خزندگان... چون تخم‌گذار بودند... و هیچ کدام از دایناسورها پرواز نمی‌کردند. اینگونه در آب می‌زیستند.

فارسی

معنی کلمات زیر را بنویسید.

حاشیه	←	کناره - لبه
غزش	←	صاف ماندن و تزلزل نکردن
حفظ	←	نگه‌داری - نگاه‌داری
روزه	←	صاف رفتن - صاف ماندن



با توجه به مثال جاهای خالی را کامل کنید.

خاک نمناک، یعنی خاکی که نم دارد.

الف) نگاه غمناک، یعنی ... نگاه غمگین دارد.

ب) زخم دردناک، یعنی ... زخم بزرگ دارد.

پ) حار تر، یعنی حادثه‌ای که خطر دارد.

با توجه به درس «اگر جنگل نباشد» کلماتی که نشانه‌های زیر را دارند را پیدا کنید و بنویسید.

ص	غ	د
صدای - صرعا - صدای	صوت - غش - آغاز	کاغذ - می‌نزد - کاغذ

جدول را کامل کنید.

مادر شست.	مادر چه چیز را شست...؟	مادر لباس‌ها را شست.
فاطمه ... نوشت.	فاطمه چه چیز را نوشت؟	فاطمه ... نوشت.
علی ... نقاشی کرد.	علی چه چیز را نقاشی کرد...؟	علی دیوار را نقاشی کرد.

این داستان را ادامه دهید. (۳ خط)

در جنگل سرسبز صدای باد در میان برگ‌ها پیچیده بود و صدای

.....

.....

.....

مطالعات اجتماعی

با توجه به تصویر، هر کدام در چه جهتی قرار دارند؟

دریای خزر ← شمال

حرم امام رضا (ع) ← شرق

خلیج فارس ← جنوب

استان ایلام ← غرب

۱۱۶



Page



Vertical



Dark mode



More



باسخ کوتاه دهید.


الف) طلوع خورشید از سمت ... است.


ب) غروب خورشید از سمت ... است.


ب) چهار جهت اصلی: شمال، جنوب، شرق و غرب است.


هدیه های آسمان - قرآن

۱) کدام یک از کارهای زیر نشان دهنده ی یک فرد منظم و مرتب است؟ با علامت ✓ مشخص کنید.









۲) امام علی (ع) چرا از مسلمانان می خواهد که قرآن را فرا بگیرند؟

زیرا قرآن نیکوترین سخن است...

<ul style="list-style-type: none"> ➤ بندوبستی ➤ جهت های جغرافیایی ➤ شناخت نظم ➤ خوبی های قرآن و تلاوت آن 	<ul style="list-style-type: none"> ➤ راهبرد حذف حالت های نامطلوب ➤ آشنایی با جانوران مهر دار و دست بندی آن ها ➤ معنی کلمات ➤ واژه شناسی ➤ شناخت مفعول
----------------------------------------------------------------------------------------------------------------------------------------------------	----------------------------------------------------------------------------------------------------------------------------------------------------------------------------------------------------------

شخص ها

- علی حوب
- حوب
- قالی کون
- بارز به تلاش بیش تر

۴