

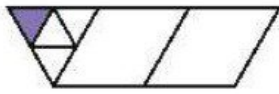
نام و نام خانوادگی: تاریخ: نام آموزگار:

مطالعات اجتماعی < درس ۱۶: خانه‌ی شما چه شکلی است؟
هدیه‌های آسمان < درس ۱۳: انتخاب پروانه
قرآن < فصل ۳: انس با قرآن کریم (۸)

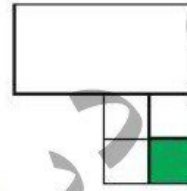
ریاضی < فصل ۵: مساحت
علوم < درس ۱۰: نیرو همه‌جا (۲)
فارسی < درس ۱۲ و ۱۳: ایران عزیز

ریاضی

۱ مساحت شکل‌های زیر را با واحد رنگ شده بنویسید.



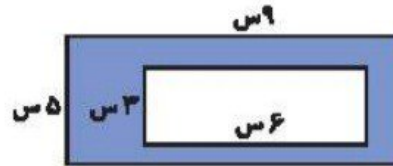
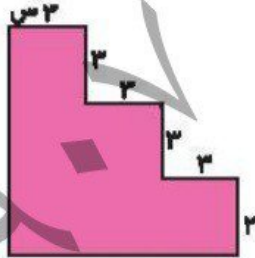
مساحت = \triangle



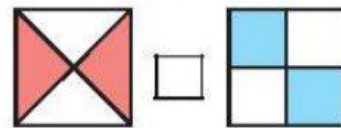
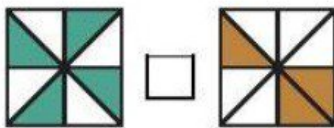
مساحت = \square

۲ اگر مساحت یک مستطیل ۳۶ سانتی‌متر باشد و طول آن ۹ سانتی‌متر باشد، محیط مستطیل را بدست آورید.

۳ مساحت قسمت‌های رنگی زیر را بدست آورید.



۴ سطح رنگ شده در کدام شکل بیش‌تر است؟ علامت (> = <) بگذارید.



۵ در اتاقی به طول ۵ متر و عرض ۴ متر یک فرش مربع شکل به طول ۳ متر پهن کرده‌ایم. چند متر مربع از این اتاق بدون فرش است؟



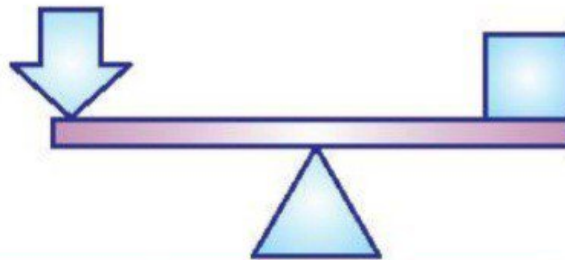
.....

.....

.....

علوم

۱ هر اهرم دارای چند قسمت است؟ روی شکل مشخص کنید.



.....

۲ کدام یک از گزینه‌های زیر اهرم نیست؟

- ۱) چکش ۲) بیل ۳) سرسره ۴) پروی قایق

.....

۳ در یک اهرم هرچه باشد، نیرویی که به کار می‌بریم، کم‌تر خواهد بود.

- ۱) جسم به تکیه‌گاه نزدیک‌تر ۲) نیرو به تکیه‌گاه نزدیک‌تر ۳) جسم از تکیه‌گاه دور‌تر ۴) جسم سنگین‌تر

.....

۴ با چه وسیله‌ای می‌توان میخ را از درون شیشه بیرون آورد؟



.....

.....

.....

۵ وسایلی که در آنها از آهن‌ربا استفاده شده است را رنگ کنید.



فارسی

۱ کلمات هم معنی را به هم وصل کنید.

- گذشتگان
- آکنون
- تهمت
- میهن

- نیاکان
- بهتان
- وطن
- حالیها

۲ شعر زیر را کامل کنید.

همه در فکر ملت و وطنیم

حالیها ، ما شب و روز می خوانیم

۳ از خواندن داستان خواب خلیفه، به چه نتیجه‌ای رسیدید؟ دو یا سه جمله بنویسید.

۴ به تصویر کوه دماوند نگاه کنید و درباره‌ی آن یک بند بنویسید.



۵ کلمه‌های مربوط به هم را به یکدیگر وصل کنید.

- دانشمند
- کوه
- شاعر
- درباچه

- خزر
- حافظ
- ابن سینا
- دماوند

مطالعات اجتماعی

۱ موار مرتبط را به یکدیگر وصل کنید.

سبیم کشی	مهندس ساختمان
لوله کشی لوله های آب	لوله کش
تهیه نقشه ساختمان و نظارت بر امور	بنا
ساختن بدنه	برق کار

۲ تفاوت خانه های قدیمی و جدید را بنویسید.

۳ در قدیم مردم آب مورد نیاز خود را در کجا ذخیره می کردند؟

۳ در منبع بزرگی روی پشت بام خانه ها

۲ در آب انبار خانه ها

۱ در حوض آب در حیاط خانه

هدیه های آسمان - قرآن

۱ مشخص کنید که افراد زیر برای دختران محرم هستند یا نامحرم؟

پدر بزرگ: پدر: پسر عمو: شوهر خواهر: عمو: پسر خاله:

۲ معنای پیام قرآنی را بنویسید.

«وَقُلْ رَبِّ زِدْنِي عِلْمًا»

۳ تسییحات حضرت زهرا (س) را به ترتیب نام ببرید و تعداد آنها را بنویسید.

بند نویسی	مساحت و واحد اندازه گیری سطح	شاخص ها خلبی خوب خوب قابل قبول نیاز به تلاش بیش تر
ارتباط معنایی	مساحت شکل های ترکیبی	
تفاوت خانه ها	اهرم و کاربرد آن	
مشاغل همکار در ساخت خانه	کاربرد آهن ربا	
محرم و نامحرم	کلمات هم معنی	