



موضوع:

تاریخ:

نام و نام خانوادگی:

هدف:

۲- مادر بزرگ ثنا یک پیتزای دایره ای بزرگ پخته بود. او نصف پیتزا را به سهیل برادر ثنا داد و نصف دیگر را بین ثنا و سوگل و سپیده تقسیم کرد.

الف) قسمت از قسمت مساوی پیتزا را سهیل خورده است.

ب) قسمت از قسمت مساوی پیتزا را ثنا و دوستانش خورده اند.

پ) قسمت از قسمت مساوی مانده است.



۳۱



۳- یک زمین را به ۳ قسمت مساوی تقسیم کردیم در ۲ قسمت آن خیار و سپس قسمت آخر را به ۴ قسمت مساوی دیگر تقسیم کردیم و در ۳ قسمت آن گوجه کاشتیم.

الف) قسمت از قسمت مساوی خیار کاشته شده است.

ب) قسمت از قسمت مساوی گوجه کاشته شده است.

ج) قسمت از قسمت مساوی خالی است.

خیار	خیار	گوجه
		گوجه
		گوجه


۴- علی آقا کشاورز است. او زمین خود را به ۴ قسمت مساوی تقسیم کرد. در یک قسمت آن گندم، در ۲ قسمت دیگر جو کاشت. او قسمت آخر را به ۲ قسمت مساوی تقسیم کرد و در یک قسمت آن برنج کاشت.

الف) قسمت از قسمت مساوی گندم کاشته شده است.

ب) قسمت از قسمت مساوی جو کاشته شده است.

ج) قسمت از قسمت مساوی برنج کاشته شده است.

د) قسمت از قسمت مساوی خالی است.



۳۱

۴- از هر شکل به اندازه ی کسر نوشته شده رنگ کنید.



موضوع: _____

تاریخ: _____

نام و نام خانوادگی: _____

هدف: _____

۲- سارا از ۲۲۰۰ تومان پس انداز خود ۸۰۰ تومان خرج کرده است. چند تومان برای سارا باقی مانده است؟

۳- حاصل جمع و تفریق های زیر را بصورت ذهنی بدست آورید.

$(8000 - 7000) - 3000 = \dots\dots\dots$

$(6000 - 4000) + 3000 = \dots\dots\dots$

$(4300 + 3700) - 4000 = \dots\dots\dots$

$(3000 + 5000) - 7000 = \dots\dots\dots$

۴- عددهای زیر را باهم مقایسه کنید و علامت < = > قرار دهید.

$1000 \bigcirc 998$

$4470 \bigcirc 5150$

$7000 + 180 \bigcirc 1000 + 960$

$8500 - 1500 \bigcirc 6200 + 1000$

$6000 + 7000 \bigcirc 3500 + 1000$

$3410 \bigcirc 5400 - 7000$

$700 + 400 \bigcirc 2900 - 2300$

$500 + 1000 \bigcirc 1700 - 300$

۵- حاصل تقریبی هر عبارت بین کدام دو عدد قرار میگیرد.

$\leftarrow 4276 + 1362 \rightarrow$

$\leftarrow 7612 - 4290 \rightarrow$

۶- کتابی ۲۱۴۰ صفحه دارد. زهرا روز شنبه ۲۰۱ صفحه و روز یکشنبه ۲۲۰ صفحه و روز دوشنبه ۴۱۵ صفحه از کتاب را خواند. او چند صفحه از کتاب را نخوانده است؟

۷- عددهای زیر را از کوچک به بزرگ مرتب کنید.

۸۸۳۶

۹۷۶۳

۷۹۹۵

۸۶۳۸

۹۷۳۶

..... > > > >

۸- حاصل عبارت های زیر را بدست آورید.

$3 \times (2 + 8) = \dots\dots\dots \times \dots\dots\dots = \dots\dots\dots$

$(7 + 2) \times 6 = \dots\dots\dots \times \dots\dots\dots = \dots\dots\dots$

$(8 + 2) \times (36 + 6) \dots\dots\dots \times \dots\dots\dots = \dots\dots\dots$

$(6 + 3) \times (9 - 4) = \dots\dots\dots \times \dots\dots\dots = \dots\dots\dots$

۵- حاصل جمع و تفریق های زیر را به روش فرایندی (طولانی) بدست آورید.

$$\begin{array}{r} 3520 \\ - 1315 \\ \hline \end{array}$$

$$\begin{array}{r} 4538 \\ + 548 \\ \hline \end{array}$$






موضوع:

تاریخ:

نام و نام خانوادگی:

هدف:





بلدرچین و برزگر ،

۱- هم معنی کدام کلمه درست نوشته نشده است؟

- خوبشان : نزدیکان
 صاحب : مالک
 آشیانه: خانه ی انسان

۲- کلمات به هم ریخته ی زیر را به شکل جمله ی کامل مرتب کن و بنویس .

دیگر - جای - فهمیدیم - که - ماندن - ما - نیست



بلدرچین و برزگر ،

۳- کلمات را مانند نمونه به هم وصل کن .

آمدم	می آیم
داشت	می خوری
خوردی	دارد
می روند	رفتند

۴- یک جمله به زمان حال بنویس.

۵- این کلمه ها را به چند شکل می توانی بخوانی؟ با هر شکل آن ها ، یک جمله بساز.

شکر =

شکر =

۶- با حروف درهم ریخته ی زیر کلمه ی مناسب بنویس.

ش - ز - ا - ر - ک - ت ←

خ - ا - ه - و - ش ←

