



شماره‌ی

۲۱

ارمغان هفته - سوم دبستان

نام و نام خانوادگی: تاریخ: نام آموزگار:

ریاضی < فصل ۸: تقسیم با باقی‌مانده و محیط اشکال هندسی مطالعات اجتماعی < درس ۲۳: ایمنی در کوچه و خیابان
 علوم < درس ۱۴: از گذشته تا آینده هدیه‌های آسمان < درس ۲۰: باغ همیشه بهار
 فارسی < درس ۱۷: چشم‌های آسمان قرآن < انس با قرآن کریم

ریاضی

۱ تقسیم‌های زیر را حل کنید.

$$\begin{array}{r} 59 \overline{) 7} \\ - 56 \\ \hline 3 \end{array}$$

$$\begin{array}{r} 66 \overline{) 9} \\ - 63 \\ \hline 3 \end{array}$$

۲ باقی مانده‌ی کدام یک از تقسیم‌های زیر صفر می‌باشد؟

$$\begin{array}{r} 45 \overline{) 9} \\ - 45 \\ \hline 0 \end{array}$$

$$\begin{array}{r} 37 \overline{) 6} \\ - 36 \\ \hline 1 \end{array}$$

$$\begin{array}{r} 51 \overline{) 8} \\ - 48 \\ \hline 3 \end{array}$$

$$\begin{array}{r} 42 \overline{) 7} \\ - 42 \\ \hline 0 \end{array}$$

۳ می‌خواهیم ۷ کیسه‌ی ۱۲ کیلویی برنج را بین ۹ خانواده به‌طور مساوی تقسیم کنیم. به هر خانواده چند کیلو برنج می‌رسد و چقدر باقی‌مانده باقی می‌ماند؟

$$\begin{array}{r} \times 12 \\ + 70 \\ \hline 140 \\ \hline 840 \end{array}$$

$$\begin{array}{r} 84 \overline{) 9} \\ - 81 \\ \hline 3 \end{array}$$

به هر خانواده ۹ کیلو برنج می‌رسد و ۳ کیلو برنج باقی می‌ماند.

۴ جدول زیر را کامل کنید.

ضلع	۷	۴۰	۱۲	۹۰
محیط مربع	$7 \times 4 = 28$	$40 \times 4 = 160$	$12 \times 4 = 48$	$90 \times 4 = 360$
محیط مثلث	$3 \times 7 = 21$	$3 \times 40 = 120$	$3 \times 12 = 36$	$3 \times 90 = 270$
محیط ۶ ضلعی	$6 \times 7 = 42$	$6 \times 40 = 240$	$6 \times 12 = 72$	$6 \times 90 = 540$

علوم

۱ موارد مرتبط را به یکدیگر وصل کنید.

- خشک کردن
- کنسرو کردن
- انجماد
- نمک‌دار کردن
- با تبخیر آب، امکان رشد میکروب کم‌تر می‌شود.
- در دماهای بسیار پایین فعالیت میکروب‌ها کم می‌شود.
- در محیط‌های شور، امکان فاسد شدن ماده‌ی غذایی کم می‌شود.
- در این روش هوا نمی‌تواند وارد محیط شود و امکان فاسد شدن غذا کم می‌شود.




۲ کدام گزینه درست است؟

- (۱) بهتر است مواد غذایی را در دمای معمولی نگه داشت.
(۲) هرچه دمای محیط نگهداری مواد غذایی کم تر باشد، بهتر است.
(۳) شور کردن روشی برای نگهداری حبوبات و برنج است.
(۴) محلول غلیظ شکر نمی تواند مانع فاسد شدن مواد غذایی شود.

۳ الف) یک راه نگهداری طولانی مدت خیار چیست؟

ب) دو راه نگهداری طولانی مدت نان چیست؟

۴ در زمان قدیم برای نگهداری گوشت از کدام روش ها استفاده می شده است؟



۵ ماده‌ی نگهدارنده در تهیه‌ی هر یک از مواد غذایی زیر چیست؟



نمک



نمک



سرکه

۶ دو روش نگهداری طولانی مدت شیر که با گرما دادن است چه نام دارند؟

پاستوریزه - استریلیزه

فارسی

۱ با استفاده از کلمات در هم ریخته‌ی زیر، جمله را کامل کنید.

زور - خانه‌ی - می‌خواهی - مرد - به - بگیری - را - این،

چرا نم زور خانم این مرد را می‌خواهی بگیری؟



۲ جاهای خالی را کامل کنید.

حمد بر کردگار یکتا باد کیم سرافراز بود درین خواندن داد
 آشنا کرد چشم من به یکتا داد توفیق خیریم از هر ما سبب
 در سر من شجاع درین مجال در دل من محبت استاد

۳ با توجه به کلمه‌های داده شده، جمله را بازنویسی کنید.

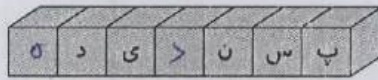
«ما به دانشمندان ایرانی، افتخار می‌کنیم.»

(الف) ما به ایرانیان افتخار می‌کنیم (ایرانیان)
 (ب) ما به شهیدان شجاع افتخار می‌کنیم (شهیدان شجاع)

۴ در هر ردیف، حروف جا افتاده را نوشته و کلمه‌ی کامل شده را بازنویسی کنید.



..... نکتهد



..... پسندیده



..... توفیق




..... مسموم



..... آینده

۵ برای هر شاخه یک گل زیبا بکشید و معنی کلمه‌ی درون برگ را در گل بنویسید.

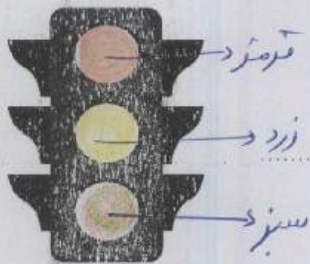


مطالعات اجتماعی

۱ چراغ راهنمایی رانندگی زیر را به صورت صحیح رنگ کنید.

در چه صورتی خودروها حق عبور دارند؟

..... زمانی که چراغ سبز شود



۳



کارهای ممنوع و غیرممنوع زیر را مشخص کنید.

- بازی کردن در خیابان
- عبور از خط کشی عابر پیاده
- عبور از سطح بزرگراه‌ها وقتی که شلوغ نباشد.
- پیاده شدن از سمت راست تاکسی
- ممنوع است.
- غیرممنوع است.

هر تابلوی رانندگی نشان‌دهنده‌ی چیست؟



خطر ایستگاه اتوبوس ورود ممنوع بوق زدن ممنوع محل عبور دانش‌آموزان

هدیه‌های آسمان - قرآن

با توجه به معنی آیه خالی را کامل کنید.

«إِنَّ الْأَبْرَارَ لَفِي نَعِيمٍ»


«نیکوکاران در پر نعمت هستند.»

با توجه به داستان «باغ بهار» پدر سینا بهشت را چگونه توصیف می‌کند؟

باغی که همیشه سرسبز و مجار است و جوئیها، رهای زلالی از زیر درختانش جاری است و انواع میوه در آن وجود دارد.

با توجه به معنی آیه‌ی نوشته شده کارت کلمات آیه را برید و به ترتیب مناسب بچسبانید.

«خداوند صاحب روز قیامت است.»



- کلمات هم‌معنی
- قوانین و تابلوهای راهنمایی و رانندگی
- آشنایی با بهشت و روز قیامت
- معنی آیات قرآنی

- تقسیم با باقی مانده
- محیط اشکال هندسی
- روش‌های نگهداری طولانی مدت مواد غذایی
- جمله‌سازی و کلمه‌سازی
- ارتباط فاعل و فعل

- شاخص‌ها
- خیابان خوب
- خوب
- قابل قبول
- نیاز به تلاش بیش‌تر