



شماره‌ی  
۲۲

# ارمغان هفته - سوم دبستان

نام و نام خانوادگی: ..... تاریخ: ..... نام آموزگار: .....

- ریاضی < دوره نیمسال دوم
- مطالعات اجتماعی < دوره نیمسال دوم
- علوم < دوره نیمسال دوم
- هدیه‌های آسمان < دوره نیمسال دوم
- فارسی < دوره نیمسال دوم
- قرآن < دوره نیمسال دوم

## ریاضی

۱ سه مرغ داریم که هر کدام روزی ۴ تا تخم می‌گذارند. بعد از یک هفته چند تخم مرغ خواهیم داشت؟

---



---

۲ کشاورزی  $\frac{2}{3}$  زمین خود را گندم و  $\frac{3}{5}$  زمین را جو کاشته است. چه کسری از زمین زیر کشت رفته است؟ سطح زیر کشت کدام یک بیش‌تر است؟ (با رسم شکل انجام شود.)

$$\begin{array}{r} 9480 \\ - 5236 \\ \hline \end{array}$$

$$\begin{array}{r} 1342 \\ \times 3 \\ \hline \end{array}$$

$$\begin{array}{r} 4363 \\ + 3785 \\ \hline \end{array}$$

$$\begin{array}{r} 462 \\ \times 7 \\ \hline \end{array}$$

$$\begin{array}{r} 47 \\ \times 6 \\ \hline \end{array}$$

۴ داده‌های زیر مربوط به نمرات برنا می‌باشد. نمودار دایره‌ای و ستونی آن‌ها را رسم کنید.

نام درس	ریاضی	علوم	فارسی	اجتماعی	املا
نمره	۱۵	۱۸	۲۰	۱۹	۱۲





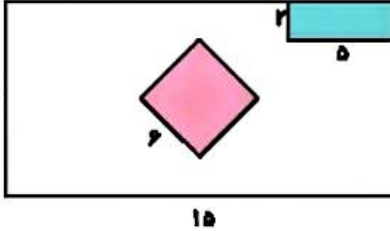
در جاهای خالی کلمات مناسب بنویسید.

الف) حاصل ضرب هر عدد در صفر برابر با ..... است.

ب) به مثلی که سه ضلع هم اندازه داشته باشد مثلث ..... می گویند.

پ) به جواب تقسیم ..... گفته می شود.

۶) اتاق پدر بزرگ به شکل مستطیل است. او یک کمد به شکل مستطیل و یک فرش به شکل مربع در اتاق گذاشته است. با توجه به شکل بگویند چقدر از اتاق او فضای خالی است؟



علوم

۱) در هر کدام، چه تغییر حالتی رخ می دهد؟

الف) درست شدن آلبالو خشک:

ب) تشکیل شبنم روی گل ها:

پ) گرفتن آب شیرین از آب شور:

ت) ناپدید شدن قرص نفتالین:

۲) در هر مورد از چه آینه ای استفاده می شود؟

الف) دندان پزشکی:

پ) زیبایی:

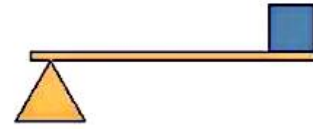
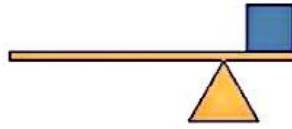
ث) کوره های برقی:

ب) آینه ی آرایشگاه:

ت) آینه ی بغل اتومبیل:

ج) آینه ی سرریج جاده ها:

۳) در کدام لهرم زیر برای جابه جا کردن جعبه، نیروی کم تری لازم است؟



۴) موارد خواسته شده را نام ببرید.

الف) دو کاربرد آینه ی فرو رفته:

ب) دو کاربرد آینه ی برآمده:

پ) دو کاربرد آینه ی تخت:

ت) دو منبع نور طبیعی:

ث) دو منبع نور مصنوعی:

۲



## فارسی

۱ معنی کلمات زیر را بنویسید.

<input type="text"/>	← غوطه	<input type="text"/>	← نغمه
<input type="text"/>	← حوض	<input type="text"/>	← فضایی

۲ کلمات زیر را بخوانید و کلمات غلط را زیر آن خط کشیده و صحیح آن را بنویسید.

هاشیه ، حفظ ، نهراسیم ، اهادیث ، بغداد ، نغمه ، فانوس ،

۳ بیت‌ها زیر را کامل کنید.

..... ملک ایران یکی گلستانست  
..... از صدای شوشر آوازمان ناودان‌ها  
..... یک نفر هم بازیست

۴ در جاهای خالی واژه‌ی مناسب بگذارید.

الف) شخصی که دانش بسیار دارد، ..... است.  
ب) کسی است که نان می‌پزد و محل کار او ..... است.  
پ) خاک نمناک یعنی خاکی که ..... دارد.

۵ برای اسامی زیر، نشانه‌های احترام را جلویشان بنویسید.

حضرت محمد ( )  
حضرت علی ( )  
حضرت زهرا ( )  
حضرت رقیه ( )

## مطالعات اجتماعی

۱ الف) چرا باید زباله‌ها را در ساعتی که شهر داری معین کرده به محل جمع‌آوری آن ببریم؟

ب) چرا حتماً باید در سطل‌های مخصوص شهر داری زباله‌ها را بندازیم؟

۳ جاهای خالی را با کلمات مناسب کامل کنید.

الف) به خاک، آب، گیاهان، جانوران، نفت و فلزات ..... می گویند.  
 ب) برای دامپروری به ..... و خاک و ..... نیاز داریم.  
 پ) عشایر در ..... زندگی می کنند.

**هدیه های آسمان - قرآن**

۱ شما چگونه به پدر و مادر خود نیک می کنید؟

۲ معنای کلمات قرآنی را به آن ها وصل کنید.

- |           |       |
|-----------|-------|
| پاداش     | تاس   |
| بدی       | رَبِّ |
| پروردگارا | شَرِّ |
| مشورت     | شوری  |
| مردم      | اجر   |

۳ هر کدام از لقب های زیر مربوط به کدام بزرگوار می باشد؟

الف) ام ایها:      ب) باقر العلوم:      پ) زین العابدین:

◀ واژگانشناسی	◀ مسئله ای ضرب و کسر
◀ حروف مخفف احترامی	◀ عملیات ریاضی ضرب و تقسیم، جمع و تفریق
◀ جمع آوری و دسته بندی زبانه ها	◀ نمودارهای آماری
◀ مواد اولیه و منابع طبیعی	◀ مساحت شکل های ترکیبی
◀ نیکي به پدر و مادر	◀ تغییر حالت های مواد
◀ معنی عبارات و آیات قرآنی	◀ کاربرد آینه ها
◀ آشنایی با ائمه ای اطهار	◀ منابع نور
	◀ حفظ شعر

**شاخص ها**

- خوبی خوب
- خوب
- قابل قبول
- نیاز به تلاش بیشتر