

نام و نام خانوادگی:

تاریخ:

پایه:

نام آموزگار:

هفته‌ی ۱۷

پیک آدینه نشم دبستان

بودجه‌بندی محتوایی

فصل ۴: محورهای مختصات

درس ۷: ورزش و نیرو ۳

درس ۹: شعر باران

درس ۱۲: چرا فرهنگ و هنر در دوره صفویه شکوفاشد

درس ۱۰: آداب زندگی

درس ۸: جلسه‌ی اول و دوم

ریاضی

علوم

فارسی

اجتماعی

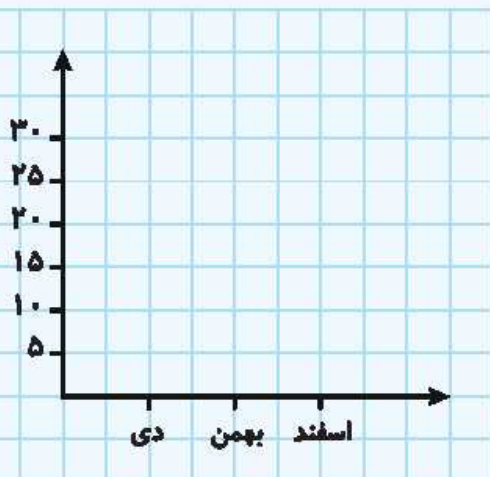
هنرهای آسمانی

قرآن



ریاضی

۱ روی صفحه‌ی مختصات زیر، روز فرار شاه از ایران، روز ورود امام خمینی (ره) به ایران و روز پیروزی انقلاب اسلامی را نمایش دهید.



۲ جاهای خالی را با کلمات مناسب پر کنید.

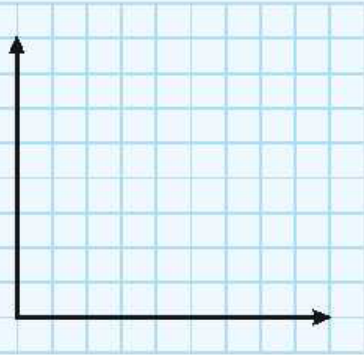
الف) صفحه‌ی مختصات از دو محور و تشکیل شده است.

ب) نقطه‌ای به مختصات $\left[\begin{matrix} 0 \\ 0 \end{matrix} \right]$ را می‌نامند.



۳ در صفحه‌ی مختصات نقطه‌ای را ۳ واحد به سمت راست و ۵ واحد به سمت بالا انتقال داده‌ایم و به نقطه‌ی $\begin{bmatrix} 6 \\ 7 \end{bmatrix}$ رسیده‌ایم. مختصات

نقطه‌ی قبل از انتقال چه بوده است؟



۴ نقاط $\begin{bmatrix} 3 \\ 3 \end{bmatrix}$ ، $\begin{bmatrix} 1 \\ 2 \end{bmatrix}$ و $\begin{bmatrix} 5 \\ 2 \end{bmatrix}$ سه رأس یک لوزی می‌باشند.

مختصات رأس چهارم آن را بنویسید.

مساحت این لوزی را محاسبه کنید.

علوم

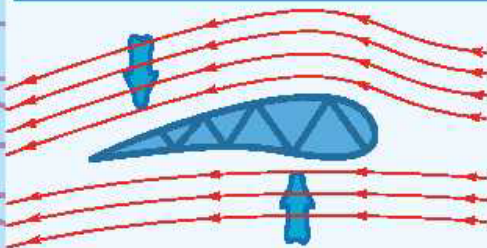
۱ با توجه بر جهت نیروهای وارد شده بر هواپیما، با برچسب‌های موجود چهار نیروی وارد بر هواپیما را در محل مناسب بچسبانید.



۲ علامت < یا > یا = بگذارید.


سرعت هوا (۲) سرعت هوا (۱)

فشار هوا (۲) فشار هوا (۱)



۳ موتور الکتریکی با کار می‌کند و می‌تواند یک را به چرخش در آورد. در موتور الکتریکی، انرژی به انرژی تبدیل می‌شود. یک موتور الکتریکی ساده است.

۴ چرا در روزهای طوفانی امکان این‌که سقف خانه‌های شیروانی قدیمی کنده شود، زیاد است؟



فارسی

۱ جاهای خالی ابیات زیر را با کلمه‌های مناسب پر کنید.

در خاک بذر دعا کاشته‌ام
 باران تو را می‌طلبم
 خوشا آنان که دائم در نمازند بهشت
 بازارشان بی

۲ به سؤالات زیر درباره‌ی «باباطاهر» پاسخ دهید.

الف) آرامگاه او در چه شهری است؟

ب) اشعار او بیشتر به چه لهجه‌هایی سروده شده است؟

۳ در مصراع «خوشا آنان که الله یارشان بی»، «بی» به چه معناست؟

۴ منظور شاعر از «کس بی کس تویی، من مانده بی کس» چیست؟

۵ با استفاده از کلمات داده شده، یک بند بنویسید.

خدایوند، یار، حاجت، باغ، دعا

اجتماعی

۱ جاهای خالی را با کلمات مناسب پر کنید.

الف) سلسله‌ی صفویه را تأسیس کرد.

ب) مشهورترین پادشاه صفوی است.

پ) کاروانسرای شاه عباسی در شهر واقع شده است.

۲ کالاهای صادراتی در دوران حکومت صفویه را نام ببرید. (۴ مورد)

۳ چرا فرهنگ و هنر در دوران صفویه شکوفا شد؟ (۴ مورد)

هدیه‌های آسمان - قرآن

۱ حضرت محمد (ص) درباره‌ی «خوش‌رویی و خوش‌اخلاقی» چه فرمودند؟

۲ آداب معاشرت یعنی چه؟

۳ آیات را به معنای مرتبط وصل کنید.

ب

بهبشت‌هایی از باغ‌های درختان انگور و زیتون و انار.

نیست خدایی جز او که زنده و پاینده است.

خدا آفریننده‌ی همه چیز است.

الف

اللّٰهُ خَلَقَ كُلَّ شَيْءٍ

اللّٰهُ لَا إِلَهَ إِلَّا هُوَ الْحَيُّ الْقَيُّومُ

وَجَنَّاتٍ مِّنْ أَعْنَابٍ وَالزَّيْتُونَ وَالرَّهْمَانُ

نیاز به تلاش	قابل قبول	خوب	خیلی خوب	شاخص‌ها
				بندوبوسی
				مؤسسه‌ی سلطه‌ی صفویه
				فرهنگ و هنر در دوره‌ی صفویه
				کالاهای صادراتی در دوره‌ی صفویه
				ویژگی‌های پیشبر اکرم (ص)
				مفهوم آداب معاشرت
				معانی آیات قرآنی

نیاز به تلاش	قابل قبول	خوب	خیلی خوب	شاخص‌ها
				نقطه‌بازی در محورهای مشخصات
				چگونگی محاسبات محیط و مساحت اشکال هندسی
				نیروی بالبر
				نیروهای وارد بر هواپیما
				موتور الکتریکی و کاربرد آن در وسایل
				قالب شعری رباعی
				شناخت شاعران ایرانی رباعی‌سرا

