



ارمغان هفته - ششم دبستان

نام و نام خانوادگی: تاریخ: نام آموزگار:

ریاضی < فصل ۵: اندازه گیری حجم و جرم
 علوم < درس ۱۰: خیلی کوچک، خیلی بزرگ
 فارسی < درس ۹: رنج‌هایی کشیده‌ام که مهرس (۲)، باران
 مطالعات اجتماعی < درس ۱۵: انواع لباس
 هدیه‌های آسمان < درس ۱۲: سفر با برکت (۲)
 قرآن < درس ۱۰: جلسه‌ی سوم و چهارم


ریاضی

۱ جاهای خالی را با عدد یا کلمه‌ی مناسب کامل کنید.
 الف) گردن بند درنا ۲۷ است.
 ب) ۳۸۰۵ کیلوگرم، تن است.

۲ آب درون یک ظرف مکعب شکلی به ابعاد ۰/۳ متر را داخل یک استوانه می‌ریزیم. اگر شعاع قاعده ۱۵ سانتی‌متر باشد، ارتفاع آب در استوانه چقدر است؟ (عدد پی = ۳)
 مساحت مربع = $۰.۳ \times ۰.۳ = ۰.۰۹$ مترمربع
 مساحت قاعده استوانه = $۱۵ \times ۱۵ \times ۳ = ۶۷۵$
 ارتفاع آب = $\frac{۰.۰۹}{۶۷۵} = ۰.۰۰۱۳۳$ متر

۳ مساحت کل شکل زیر را پیدا کنید.
 شکل از یک مربع در آن یک مثلث مستقیم با ضلع ۴ سانتی‌متر برش داده شده است.
 مساحت مربع = $۴ \times ۴ = ۱۶$ cm^2
 مساحت مثلث = $\frac{۴ \times ۴}{۲} = ۸$ cm^2
 مساحت کل شکل = $۱۶ + ۸ = ۲۴$ cm^2

۴ نسبت حجم یک مکعب به حجم یک مکعب مستطیل، $\frac{۳}{۴}$ است. اگر ابعاد مستطیل ۱۲، ۴ و ۸ سانتی‌متر باشد، حجم مکعب (مربع) چند سانتی‌متر مکعب است؟
 حجم مکعب مستطیل = $۸ \times ۴ \times ۱۲ = ۳۸۴$
 $\frac{حجم مکعب}{حجم مکعب مستطیل} = \frac{۳}{۴} \rightarrow \frac{V}{۳۸۴} = \frac{۳}{۴} \rightarrow V = \frac{۳ \times ۳۸۴}{۴} = ۲۹۱$





علوم

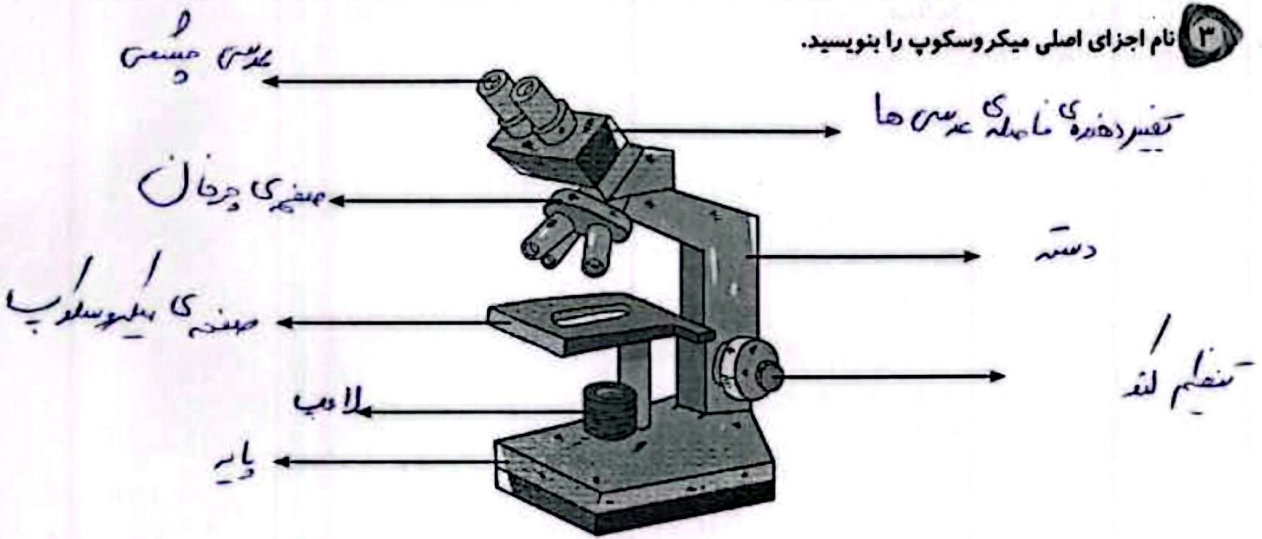
۱ دور کلمه‌ی مناسب خط بکشید.

- الف) بیش‌تر جانداران (تک‌یاخته‌ای - پر یاخته‌ای) هستند.
 ب) اولین میکروسکوپ حدود (۴۰۰ - ۵۰۰) سال پیش ساخته شد.
 پ) مخمرها با (جوانه زدن - تقسیم شدن) زیاد می‌شوند.

۲ جملات درست را با و نادرست را با مشخص کنید.

- الف) اصطلاح سلول به معنای اتاق کوچک است.
 ب) رابرت هوک اصطلاح سلول را برای حفره‌های چوب‌پنبه به کار برد.
 پ) مخمرها از قارچ‌های پریاخته‌ای هستند.

۳ نام اجزای اصلی میکروسکوپ را بنویسید.



۴ با توجه به شکل روبه‌رو، به سؤالات زیر پاسخ دهید.

الف) نام این موجود زنده چیست؟



جلب رسته‌ی

ب) این موجود زنده تک‌یاخته‌ای است یا پریاخته‌ای؟

پریاخته‌ی سار

فارسی

۱ جاهای خالی ابیات زیر را با کلمه‌های مناسب پر کنید.

در خاک .. جلب .. بذر دعا کاشته‌ام
 باران .. اجاب .. تو را می‌طلبم
 خوشا آنان که دائم در نمازند
 بهشت جاودان .. بازارشان بی

۲





۳ در جای خالی کلمات مناسب بنویسید.
 الف) انواع لباس محلی در بهرزده ... مشاهده می شود.
 ب) امروزه لباس های محلی اغلب در بهراسیم ... یا جسین ... خاص پوشیده می شود.
 پ) لباس های گروه های مختلف اجتماعی بستگی به کار ... و نقش ... آن ها دارد.
 ت) در دوره های مختلف تاریخی پوشاک مردم تغییر ... کرده است.

هدیه های آسمان - قرآن

۱ اگر نماز مسافر در شهری کامل باشد روزه اش در آن جا چگونه است؟

روزه ایس در آنجا صحیح است

۲ با توجه به حدیث زیر به پرسش های مطرح شده پاسخ دهید.

«طیبوا أفواهکم بالسواک، فأنها طرُق القرآن»

الف) معنای این حدیث را بنویسید. دهان ... خارج ... سواک ... یا کتیره ... بزرگ ... دهان ... بزرگراه ... قرآن ... است.

ب) این حدیث فرموده ی چه کسی است؟ پیامبر (ص)

پ) این حدیث با آیه ی ... ۷۹ ... سوره ی ... را ... ارتباط دارد.

- ◀ تکمیل شعر حفظی
- ◀ شناخت اجزای جمله
- ◀ آشنایی با لباس های محلی
- ◀ حکم نماز و روزه ی مسافر
- ◀ حدیث پیامبر (ص) درباره ی اهمیت مسواک زدن

- ◀ آشنایی با واحدهای اندازه گیری حجم و جرم
- ◀ توانایی محاسبه ی حجم، استوانه و سطح هرم
- ◀ شناخت میکروسکوپ و اجزای آن
- ◀ تشخیص موجودات تک یاخته ای و پر یاخته ای
- ◀ شناخت شاعران ایرانی رباعی سرا



۴



ارمغان هفته - ششم دبستان

شماره ی

۲۱

نام و نام خانوادگی: تاریخ: نام آموزگار:

ریاضی < فصل ۵: اندازه گیری مساحت دایره
 علوم < درس ۱۱: شگفتی های برگ
 فارسی < درس ۱۰: عطار و جلال الدین محمد
 مطالعات اجتماعی < درس ۱۶: لباس از تولید به مصرف
 هدیه های آسمان < درس ۱۳: عید مسلمانان (۱)
 قرآن < درس ۱۰: قصه ای به ما

ریاضی

با توجه به رابطه های محیط و مساحت، برجسب هر شکل را در جای مناسب خود بچسبانید.

$2 \times (\text{عرض} + \text{طول})$	$\frac{1}{3} (\text{ارتفاع} \times \text{مجموع دو قاعده})$	$3/14 \times \text{قطر}$
محیط مستطیل	مساحت دوزنقه	مساحت دایره
$3/14 \times \text{شعاع} \times \text{شعاع}$	مساحت ۴ مثلث + مساحت مربع	مساحت مستطیل + مساحت دو دایره
مساحت نیم دایره	سطح کل هرم مربع القاعده	سطح کل استوانه

موارد مرتبط را به هم وصل کنید.

- | | | | |
|-------|---|---|--|
| ۱۰ | ● | ● | اگر محیط دایره ای ۶/۲۸ سانتی متر باشد، شعاع آن است. |
| ۲۸/۲۶ | ● | ● | مساحت دایره ای به شعاع سانتی متر، برابر با ۳۱۴ سانتی متر مربع است. |
| ۱۸/۸۴ | ● | ● | محیط دایره ای به شعاع ۳ سانتی متر برابر با سانتی متر است. |
| ۱ | ● | ● | مساحت دایره ای به شعاع ۳ سانتی متر برابر با سانتی متر مربع است. |

قطر لیوانی به شکل استوانه ۱۰ سانتی متر است. اگر ارتفاع این لیوان ۱۲ سانتی متر باشد، مساحت این لیوان چند سانتی متر مربع است؟ (عدد پی را ۳ در نظر بگیرید.)

.....
 محیط دایره: $2 \times 10 \times 3 = 60 \text{ cm}$


.....
 مساحت دایره: $3 \times 10 \times 10 = 300 \text{ cm}^2$

.....
 مساحت کل: $(60 \times 12) + (3 \times 300) = 720 + 900 = 1620 \text{ cm}^2$



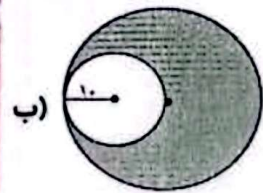


مساحت بخش رنگی را در شکل‌های زیر بدست آورید.



(الف)

۴۰ سانتی متر



(ب)

مساحت نیم دایره = $\frac{1}{2} \times \pi \times r^2$ = $\frac{1}{2} \times 3,14 \times 10^2$
 مساحت مستطیل = $l \times w$ = 40×20
 مساحت رنگی = $(40 \times 20) - (\frac{1}{2} \times 3,14 \times 10^2)$
 = ۶۴۳

مساحت دایره به سطح ۱۰ = $\pi \times r^2$ = $3,14 \times 10^2$
 مساحت رنگی = $(3,14 \times 10^2) - (\frac{1}{2} \times 3,14 \times 10^2)$
 = ۹۴۲ cm^2

علوم

۱ روی کلمه‌ی نادرست خط بکشید.

(الف) شناساگر نشاسته در برگ گیاه (ید / پتاسیم پرمسنگنات) است.

(ب) محل اصلی غذاسازی در گیاهان (ساقه / برگ) است.

(پ) (برگ / ساقه) گیاهان، انرژی نور خورشید را در مواد غذایی ساخته شده (مانند نشاسته) ذخیره می‌کنند.

۲ تصویر هر عبارت را در جای خود بچسبانید.

میوه‌ی نشاسته‌دار	دانه‌ی نشاسته‌دار	ساقه‌ی نشاسته‌دار	دانه‌ی نشاسته‌دار	میوه‌ی روغن‌دار

۳ برگ‌ها محل مناسبی برای غذاسازی هستند. سه دلیل برای درستی این جمله بیاورید.


- انرژی نور خورشید را در مواد غذایی مساحت مسطحه (مانند سبزه) ذخیره می‌کنند.
- دارای سبزینه و کلروفیل و رگ‌ها هستند و محل مناسبی برای غذاسازی هستند.
- برگ‌ها گشادگی دارند و سطح وسیعی دارند و به کمک پلاستید می‌توانند...

۴ با توجه به تصاویر برای هر یک از موارد پس از مدتی چه اتفاقی می‌افتد؟



تصویر سبزه را بساز: چراغی که روشن است را
 سبزه می‌سازد. تصویر وسط: این گیاه به دلیل وجود آن
 در ظرف سبزی‌ای فتوسنتز انجام نمی‌دهد.
 تصویر سمت چپ: سبزه به دلیل کمبود اکسیژن می‌سوزد.





۵ سه مورد از فواید فتوستنز را بنویسید.

الف) خوردن بورد بیاز موجودات زنده را تولید می کند.
 ب) کاهش آلودگی هوا کمک می کند.
 غذا ساز است.

فارسی

۱ جاهای خالی را با کلمات مناسب کامل کنید.

الف) مثنوی به شعری گفته می شود که در آن، دو مصراع هر بیت هم معاویه هستند.
 ب) اسرارنامه نام کتابی است که توسط عطار نیشابوری نوشته شده است.

۲ کلمات هم معنی را کنار هم قرار دهید و یک هم معنی دیگر کنار آن ها بنویسید.

اسلیم - زادگاه - بدرقه کردن - حساسی - بی عیب - مشایعت - کاملاً - محل تولد

بیت - بیرون

زادگاه - محل تولد

حساسی - کاملاً

اسلیم - بی عیب

۳ عبارات زیر را کامل کنید.

الف) دو کلمه از درس بیابید که در آن ها یکی از دو شکل ط / ت، به کار رفته باشد. عطار - حوالای - زیارت - دل تنگ
 ب) با توجه به جای خالی، نقشی مسیر سفرهای جلال الدین محمد را کامل کنید. سمرقند ← نیشابور ← مکه
 پ) یک جمله از درس بنویسید که امری، باشد. چو آن بر خیزد و نزدیک تر بیاید

۴ در بین گروه واژگان زیر، غلط های املائی را پیدا کنید و شکل درست آن ها را بنویسید.

آینده ی درخشانی	مشغول خواندن	اسرارنامه ی عطار	کاروان سرا	فرست خوبی
نماز عصرش	بهاء الدین	هوای دلپذیر	صفر تولانی	

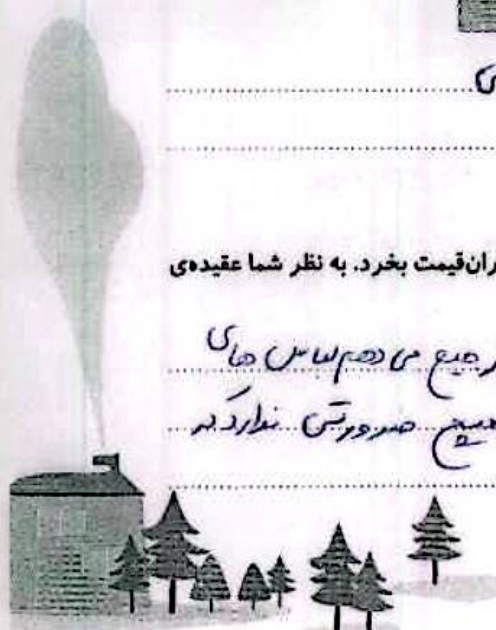
بمقول - عطار - فرست - بهاء الدین - دلپذیر - سفر حوالای

مطالعات اجتماعی

۱ حمیده عقیده دارد که هر مجلس یا مهمانی که می رود باید یک لباس نو، جدید، خارجی و گران قیمت بخرد. به نظر شما عقیده ی

حمیده درست است؟ (با دلیل)

خیر. زیرا من فکر می کنم اگر استی دینار بدون لباس مهمان است و ترجیح می دهیم لباس های
 ایرانی بپوشیم. اگر لباس های جدیدی هم از کابل استفاده است هیچ ضرورتی ندارد که
 لباس نو بخریم.





جاهای خالی را با کلمات مناسب کامل کنید.
 ۲. محرابه نروسان
 صاحبان کارگاه‌های تولیدی لباس، پارچه‌های خود را از می‌خرند.

همه‌ی کسانی که در کارگاه مشغول به کار هستند، بخشی از کار تولید را انجام می‌دهند تا کالا به صورت نهایی آماده شود. به این همکاری خط تولید گفته می‌شود.

۳. به نظر شما بزرگ‌ترین مشکل تولید پوشاک در ایران چیست؟

تولید پارچه - زیرا تعداد محدودی برای حوزه شمال هستند

۴. تحقیق کنید در چه شهرهای ایران، کارخانه‌ی نساجی وجود دارد؟ (۲ شهر)

بروجرد - سارنگ

هدیه‌های آسمان - قرآن

۱. در جاهای خالی کلمه‌ی مناسب بنویسید.

الف) حضرت ابراهیم (ع) با کمک پسرش اسحاق خانه‌ی کعبه را تجدید بنا کرد.

ب) هاجر برای یافتن آب هفت بار بین دو کوه صفا و مره دویده بود.

پ) سرزمین خداپرستان، بیت نام دارد.

ت) بیت به فرمان خدای مهربان با بت‌پرستی مبارزه کرد و تمام بت‌های سرزمین مکه را نابود کرد.

ث) تقی نگین مسجدالحرام در شهر کربلا قرار دارد.

۲. مباحثه در قرآن به چه معناست؟

تفسیر کردن در هر مطلبی و در خواست مجازات برای آن‌ها

- مباحثه از بررسی و تحلیل به معنای بحث است. در قرآن کلماتی که لغت در آن‌ها است و در اصطلاح به معنی گفته می‌شود که دو یا چند نفر به هم مسئله‌ی مهمی را مطرح می‌کنند. اختلاف طرفه در جمع مباحثه است. اصرار و تفسیر به هرگاه خدوند، از آن خواهند آن را که باطل است، رسوا و مجازات کنند.

- ◀ واژه‌یابی از متن درس
- ◀ کلمات هم‌معنی و املاء درست کلمات
- ◀ چگونگی تولید پوشاک در ایران و مراحل تولید لباس
- ◀ شناخت کارخانه نساجی
- ◀ چگونگی انجام اعمال حج و آشنایی با مباحثه در قرآن

- ◀ محاسبه‌ی مساحت دایره و قسمت‌های رنگی شکل
- ◀ آشنایی با مساحت استوانه
- ◀ چگونگی فتوسنتز و فواید آن
- ◀ شناخت شناساگر نشاسته و محل غذاسازی در گیاهان
- ◀ شناخت قالب مثنوی



ریاضی

سوال ۱۴

$$۲۴۷,۵ - ۶۰ = ۱۸۷,۵$$


۳۴۰ / ۳۰ = ۱۱۳,۳۳

$$۳۴۰ - ۱۸۷,۵ = ۱۵۲,۵$$

→ چون از ۱۸۰ بیشتر شده از ۳۴۰

علوم

۱ موارد مرتبط را به هم وصل کنید.



۲ جاهای خالی را با کلمات مناسب پر کنید.

الف) از بقایای گیاهان، کرم می سازند. کرم در تشکیل این خاک نقش دارند.
 ب) مورچه ها، شته ها را با خود به لانه هاشان می برند تا خورد را که شته ها دفع می کنند، بخورند.
 پ) کرکس خود را با ته مانده ی شکار جا نور سیر می کند.
 ت) اسب ها با تکان دادن دم خود سعی می کنند تا بوسه ها و بوسه ها را از خود دور کنند.

۳ قارچ ها انرژی مورد نیاز خود را چگونه به دست می آورند؟

از تجزیه چوب موجودات دیگر

۴ با پرچسب های داده شده، دو زنجیره غذایی درست کنید.

فارسی

۱ یک روزنامه دیواری شامل چه قسمت هایی است؟ (چهار مورد)

داستان - شعر - گزارش - مصاحبه - اخبار - عکس - معما

۲



۲ با توجه به بیت زیر، به پرسش‌های داده شده پاسخ دهید.

شیخ خندید و بگفتش ای سلیم این درخت علم باشد ای علیم

الف) سلیم و علیم به چه معناست؟ سلیم: سالم - علیم: عالیم

ب) فعل‌ها را مشخص کنید. خندید، بگفتش، باشد

پ) این بیت چند منادا دارد؟ ۲. منادا: دارد، سلیم، علیم

ت) در جمله‌ی «شیخ خندید»، شیخ چه نقشی دارد؟ شیخ: نهاد، جمله‌ی اول (خندید)

۳ بیت زیر چند جمله دارد؟ قافیه‌ها را مشخص کنید.

گاه بحرش نام شد، گاهی سحاب

گه درختش نام شد، گاه آفتاب

۴ جمله

۴ به سؤالات زیر پاسخ کوتاه دهید.

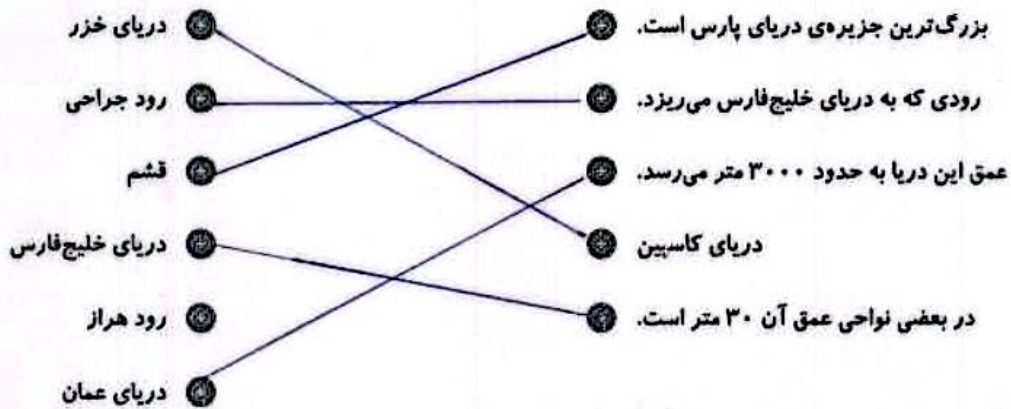
الف) حکایت درخت علم در چه قالبی سروده شده است؟ مثنوی

ب) مناسب‌ترین قالب برای بیان داستان به زبان شعر چیست؟ مثنوی - زیرا محدودیت کافیه بر سر سارست

پ) زادگاه جلال‌الدین محمد کدام شهر است؟ بلخ

مطالعات اجتماعی

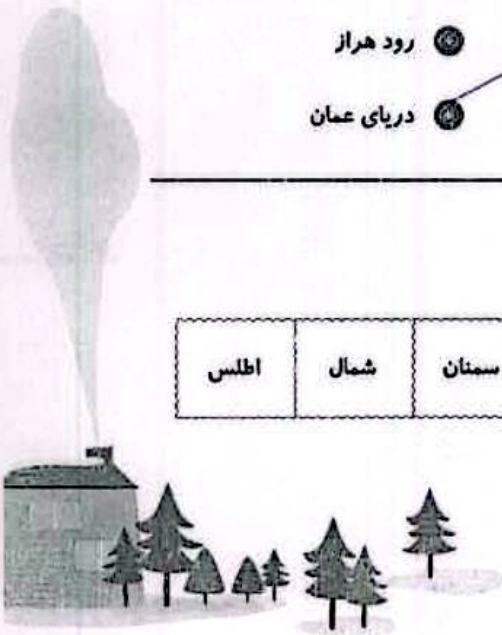
۱ موارد مرتبط را به هم وصل کنید. (یک مورد اضافی است.)



۲ در لیست زیر نام‌های دیگر دریای خزر را با رنگ نارنجی مشخص کنید.

گیلان	مازندران	قزوین	گرگان	کاسپین	آرام	ساری	سمنان	شمال	اطلس
-------	----------	-------	-------	--------	------	------	-------	------	------

۳





۳ مفاهیم زیر را تعریف کنید.

خلیج: به پیوستگی آب دریاها در خطی خلیج می گویند.
 خور: در کنار راه های خلیج فارس، بر روی جایی که دریا به سمتان اطراف آن خور می گویند.
 تنگه: به آبراهه های که دو دریا را به هم وصل می کند، تنگه می گویند.

۴ رودهایی را که به دریای خزر می ریزند، روی نقشه نشان دهید. (نام آن ها را بنویسید).



هدیه های آسمان - قرآن

۱ در روزهای عید فطر و عید قربان، ما مسلمانان چه اعمالی را انجام می دهیم؟

عسل می کنیم، بهترین لباس خود را می پوشیم، دو رکعت نماز عید می خوانیم.

۲ معنی کدام کلمه نادرست نوشته شده است؟

- (۱) منافع: فایده ها
- (۲) ناس: مردم
- (۳) رُسل: پیامبر ✓
- (۴) بینات: دلایل روشن


- ◀ نکات مربوط به نوشتن
- ◀ شناخت افعال و شمارش جمله
- ◀ شناخت ندا و منادا و قافیه
- ◀ آشنایی با ویژگی های دریا های ایران
- ◀ اعمال عید فطر و قربان و معانی واژه های قرآنی

- ◀ محاسبه زاویه ها در شکل های مختلف
- ◀ محاسبه زاویه ی بین عقربه های ساعت
- ◀ شناخت مفاهیم مربوط به پاره خط و خط
- ◀ آشنایی با زاویه مکمل و متمم
- ◀ شناخت زنجیره ی غذایی و قارچ ها (تجزیه کننده)

شاخص ها

- چهار حرف
- حرف
- قابل قبول
- بهاز به تلاش پیش کرد

۴





ارمغان هفته - ششم دبستان

نام و نام خانوادگی: تاریخ: نام آموزگار:

مطالعات اجتماعی < نورد
 هدیه‌های آسمان < نورد
 قرآن < نورد

ریاضی < نورد
 علوم < نورد
 فارسی < نورد

ریاضی

۱ روش به دست آوردن مساحت قسمت رنگی شکل‌های سمت چپ را به راه‌حلش در سمت راست متصل کنید.

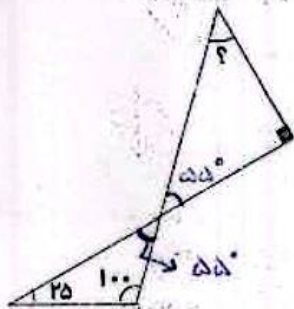
Left shapes: 1. A square with a four-pointed star inside. 2. A semi-circle with a curved side on the left. 3. A square with a leaf-like shape inside. 4. A square with a semi-circle cut out from the right side.

Right options: 1. A square minus a semi-circle. 2. A square minus a circle. 3. A semi-circle. 4. A square plus two quarter-circles minus a square.

۲ کسره‌های داده شده زیر را به دو صورت اعشاری و درصد نمایش دهید.

$\frac{34}{50} =$	اعشاری →	۰٫۶۸	$\frac{13}{8} =$	اعشاری →	۱٫۶۲۵
	درصد →	۶۸٪		درصد →	۱۶۲٫۵٪

۳ در شکل زیر اندازه‌ی زاویه‌ی خواسته شده چند درجه است؟



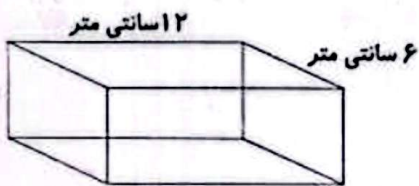
$$180^\circ - (90^\circ + 55^\circ) = 35^\circ$$

- (۱) ۲۵ درجه
- (۲) ۳۵ درجه ✓
- (۳) ۴۵ درجه
- (۴) ۵۵ درجه





۴ گنجایش مکعب زیر چند لیتر و چند سی سی است؟



۱۰ میلی متر = ۱ سانتی متر

سانتی متر مکعب (سی سی) $12 \times 6 \times 10 = 720$

لیتر $720 \div 1000 = 0.72$

۵ با یک قطعه سیم $3/2$ سانتی متری یک مربع درست کردیم. اگر با همان سیم یک مستطیل به عرض $0/35$ سانتی متر درست کنیم، طول مستطیل چند سانتی متر از ضلع مربع بزرگ تر می شود؟

$1/35$ (۴)

$\sqrt{0/45}$ (۳)

$0/4$ (۲)

$1/25$ (۱)

علوم

۱ جاهای خالی را با کلمه‌ی مناسب پر کنید.

(الف) گاز کربن دی‌اکسید یا CO_2 نیز مانند آب در مایعات رنگ بر سفیدکننده هستند.

(ب) چینه‌سنگی از زیر سنگ گرانیت شروع می‌شود و تا عمق 350 کیلومتری ادامه دارد.

(پ) برای اندازه‌گیری جرم اجسام از ترازو استفاده می‌شود.

(ت) به هواپیمای در حال حرکت علاوه بر نیروی جاذبه و نیروی ممانعت هوا، نیرویی رو به بالایی نیز دارد، که به آن نیروی بالا برکی گفته می‌شود.

۲ روز ۱۳ فروردین ماه (سیزده بدر) به نام روز طبیعت نام گذاری شده است.

فهرستی از رفتارهای ناسالم خود و دیگران را در این روز بنویسید و راه‌حل‌هایی برای عدم تکرار این رفتارها ارائه دهید.

زیاده‌تر خوردن، درجهت رها کردن، درختان را زدن، آلودگی ایجاد کردن، خود کتک زدن، زیاده‌تر بازی کردن، آلودگی ایجاد کردن، درختان را زدن، آلودگی ایجاد کردن، درختان را زدن، آلودگی ایجاد کردن.

۳ علیرضا (دانش‌آموز پایه‌ی ششم) به همراه خانواده‌اش به جنگل‌های استان گلستان رفته است بر روی تنه‌ی درختان جنگلی قارچ‌هایی به شکل زیر دیده‌اند:



شما فکر می‌کنید علیرضا چه توضیحاتی در مورد این جاندار به خانواده‌ی خود داده است؟


قارچ‌هایی که روی تنه‌ی درختان دیده‌اند، جانوران درختان رشد می‌کنند. با تخم‌ریزی آن‌ها به میوه تبدیل می‌شوند و تقویت حالت گلب می‌کنند.

فارسی

۱ مفهوم ضرب‌المثل «سالی که نکوست از بهارش پیداست» را در دو سطر بنویسید.

شروع هر کاری نباید نگرانی آن کار است و مواظبتی گفته می‌شود که نتیجه‌ی کارها از اول مشخص می‌باشند.

۲



داستان زیر از کتاب گلستان سعدی انتخاب شده است، آن را بخوانید و علائم نگارشی مناسب برای آن بگذارید.

در زمان‌های قدیم پادشاهی بود که دو وزیر داشت (۵) یکی مهربان و خوش‌زبان (۶) دیگری بدجنس و بدزبان (۷) وزیر بدجنس همیشه به وزیر مهربان حسادت می‌کرد و می‌خواست او را پیش پادشاه بد نشان بدهد (۸) یک روز اسیری را که پادشاه قصد مجازات او را داشت نزد پادشاه آوردند (۹) اسیر در حالت ناامیدی، پادشاه را دشنام داد (۱۰) پادشاه از وزیر مهربان پرسید این مرد چه می‌گوید (۱۱) او گفت (۱۲) : «د» او شما را دعا کرده و می‌گوید پادشاه از خطای مردم می‌گذرد پادشاه از شنیدن این خبر خوشحال شد و اسیر را آزاد کرد (۱۳) وزیر بدجنس نزد پادشاه رفت و گفت: آن مرد شما را دشنام داده چرا او را آزاد کردید (۱۴) پادشاه گفت (۱۵) : «د» با این که وزیر راستش را نگفت ولی با این کار باعث نجات جان یک نفر شد (۱۶) ولی راست گفتن تو به علت حسادت بود (۱۷) سپس به وزیر مهربان پاداش داد و وزیر بدجنس و حسود را از کاخ خود بیرون کرد (۱۸)

خاطره‌ی یک روز شاد از دید و بازدید، سفر یا ... در تعطیلات عید را به صورت انشا یا تهیه‌ی کتاب داستان ارائه دهید.


به عیدک داستان آموز

از کتاب فارسی، ده کلمه انتخاب کنید که به محیط زیست، مربوط باشد.

بزرگ درختان سبز - مرغزار - سازه که درخت - هر چه - مرغ زیرک انواع - آب زلال - کوه - طریقت کتاب - قصه‌ی یاز

مطالعات اجتماعی

۱) می‌دانیم که در کابل و مرزهای شمال افغانستان و برخی شهرهای پاکستان در هنگام نوروز چیدن سفره‌ی هفت میوه، رواج دارد.



تحقیق کنید و به سوالات زیر پاسخ دهید.

سفره

الف) در روی این سفره‌ها چه میوه‌هایی می‌چینند؟

در داخل هسته میوه ز سبزه، لوز، نارنگ، سیب، زردآلود، قهوه، ...

ب) کدام کشور همسایه سال رسمی را با نوروز آغاز می‌کند؟

افغانستان

پ) در کدام کشور نوروز «عالم افروز» نام گرفته است؟

ایران

ت) در کدام کشور در هنگام نوروز مراسم ورزشی و طبیعت‌گردی رایج است؟

ترکیه

ث) به جز کشورهای همسایه به تازگی در کشور دیگر عید نوروز را جشن می‌گیرند. بپرسید و بنویسید کدام کشور است؟

مصری از مردم شمال کشور ایران



اترک

هدیه‌های آسمان - قرآن

۱ نام سوره‌هایی از قرآن که با حروف «سین» یا «صاد» شروع شده‌اند را بنویسید. (چهار مورد)

سوره صافات - نور - حمید - معارج

۲ فکر کن در یکی از روزهای عید نوروز به همراه خانواده به زیارت امامزاده‌ای می‌روی:



در آن مکان مقدس چه آدابی انجام می‌دهید؟

با وضو یا سیم - یا استراحت و در سجده شکر

یک خط از اول زیارت‌نامه‌ی ایشان را بنویسید.

بسم الله الرحمن الرحیم

درباره‌ی زندگی‌نامه‌ی ایشان تحقیق کنید و در دو سطر بنویسید.

بسم الله الرحمن الرحیم

	« مفهوم ضرب‌المثل
	« علامت نگارشی
	« آشنایی با رسم نوروز در کشور همسایه
	« آشنایی با آداب زیارت
	« سوره‌های قرآنی که با حروف «س» یا «ص» شروع می‌شوند.

	« محاسبه‌ی مساحت اشکال هندسی
	« تبدیل اعداد اعشاری به درصد
	« محاسبه‌ی زاویه و گنجایش مکعب مستطیل
	« آشنایی نیروی بالابری و مواد رنگبر در کارخانه کاغذسازی
	« آداب و رسوم در روز طبیعت

