



موضوع:

تاریخ:

نام و نام خانوادگی:

هدف:

علوم

۱ کدام دسته از جانداران زیر می‌توانند یک زنجیره‌ی غذایی کامل را تشکیل دهند؟

۱) عقاب، مار، موش      ۲) کرم خاکی، پرنده، روباه      ۳) علف، ملخ، کفشدوزک      ۴) گریه، شیر، گاو

۲ با استفاده از برجسبها یک زنجیره‌ی غذایی درست کنید.

۳ به سوالات زیر پاسخ کوتاه دهید.

الف) زنجیره‌ی غذایی چیست؟

ب) شبکه‌ی غذایی چیست؟

پ) قارچها چه جاندارانی هستند؟

ت) کروکودیل انگل درون دهان خود را چگونه از بین می‌برد؟

۴ جاهای خالی را با کلمات مناسب پر کنید.

الف) از بقایای گیاهان ..... می‌سازند. در تشکیل این خاک نقش دارند.

ب) مورچه‌ها، شته‌ها را با خود به لانه‌هایشان می‌برند تا ..... را که شته‌ها دفع می‌کنند، بخورند.

پ) کرکس خود را با ته مانده‌ی شکار ..... سیر می‌کند.

ت) اسبها با تکان دادن دم خود سعی می‌کنند تا ..... و ..... را از خود دور کنند.



موضوع:

تاریخ:

نام و نام خانوادگی:

هدف:

**فارسی**

گزینه‌ی صحیح را انتخاب کنید.

الف) در کدام گزینه هر دو کلمه صحیح نوشته شده‌اند؟

- (۱) انشاء - املا (۲) زائد - پاییز (۳) آینه - زاید (۴) املاء - زاید

ب) لمای واژگان کدام گزینه صحیح است؟

- (۱) شقایق - نظر (۲) مرتضی - مصطفی (۳) چراقی - حادثه (۴) ساعت - غلب

در عبارتهای زیر ۴ قسمت تشبیه را مشخص کنید.

الف) شهید چون چراغی است که در خانه‌ی ما می‌سوزد.

ب) شهید چون شقایق سرخ است.

پ) شهدا خورشیدند

ت) شهید داستانی است پر از حادثه و زسای

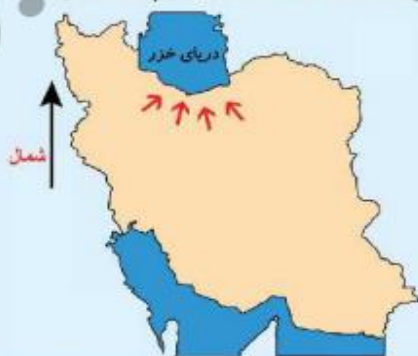
مفهوم ضرب المثل «تو نیکی می‌کن و در دجله انداز» را بنویسید.

موارد مرتبط را به هم وصل کنید.

- |  |             |
|--|-------------|
| بیان شباهت‌ها و تفاوت‌های دو چیز       | خاطر نویسی  |
| توضیح و بیان جزئیات شنیده‌ها و دیده‌ها | خلاصه‌نویسی |
| بیان مطلب اصلی و مهم                   | گزارش‌نویسی |
| یادداشت رویدادهای روزانه               | مقایسه      |

**مطالعات اجتماعی**

رودهایی را که به دریای خزر می‌ریزند، روی نقشه نشان دهید. (نام آن‌ها را بنویسید.)





موضوع:

تاریخ:

نام و نام خانوادگی:

هدف:

ریاضی

۱ جاهای خالی را با کلمات مناسب پر کنید.

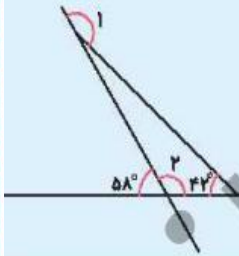
(الف) از یک نقطه ..... خط عمود می‌کند.

(ب) فاصله بین دو نقطه برابر با طول پاره‌خطی است که آن دو نقطه را ..... می‌کند.

(پ) برای رسم خط عمود از ..... استفاده می‌کنیم.

(ت) ..... خطی است که از وسط یک پاره‌خط بگذرد و بر آن عمود باشد.

۲ با توجه به شکل مقابل مجموع زاویه‌های «۱» و «۲» چند درجه است؟



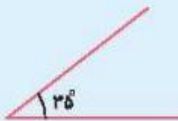
(۱) ۱۸۰ درجه

(۲) ۲۹۲ درجه

(۳) ۳۶۰ درجه

(۴) ۲۸۶ درجه

۳ دو زاویه‌ی زیر مکمل یکدیگرند یا متمم؟ چرا؟



۴ جملات درست را با ✓ و نادرست را با ✗ مشخص کنید.

(الف) دو زاویه ۳۵ و ۵۵ متمم هم هستند.

(ب) کوتاه‌ترین فاصله یک نقطه از یک خط، خط عمود است.

(پ) مجموع زاویه‌های یک مربع ۳۵۰ درجه نیست.

(ت) مکمل زاویه ۶۸ درجه ۲۲ درجه است.