

نام و نام خانوادگی: تاریخ: نام آموزگار:

مطالعات اجتماعی < مرور سال گذشته
هدیه‌های آسمان < مرور سال گذشته
قرآن < مرور سال گذشته

ریاضی < مرور سال گذشته
علوم < مرور سال گذشته
فارسی < مرور سال گذشته

ریاضی

اعداد زیر را به حروف و رقم بنویسید.

۲۵ ۱۹۲ ۵۵۴

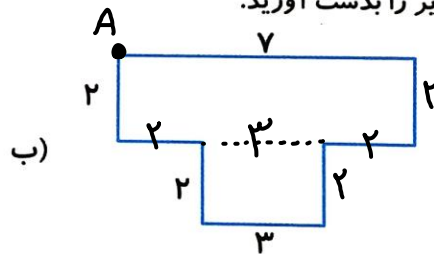
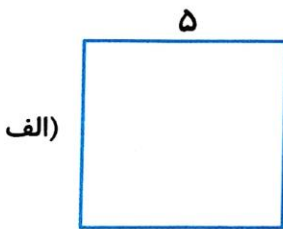
بیست و پنج میلیون و صد و شصت و دو هزار و پنجاه و چهار

۱۶۰۱۲۵۰ هشت میلیون و شصت و یک هزار و دویست و پنجاه

الگوهای زیر را ادامه دهید.

الف) $150 - 200 - 250 - \boxed{300} - \boxed{350} - \boxed{400}$
ب) $330 - 230 - 130 - \boxed{30} - \boxed{X} - \boxed{X}$

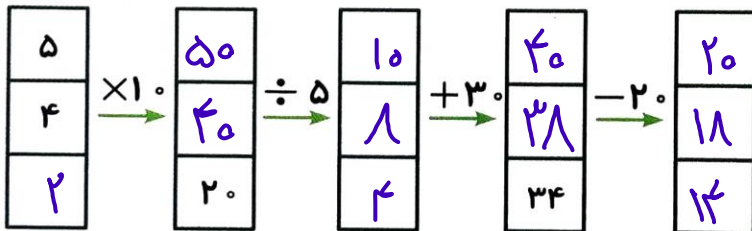
محیط شکل‌های زیر را بدست آورید.



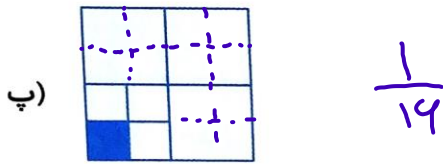

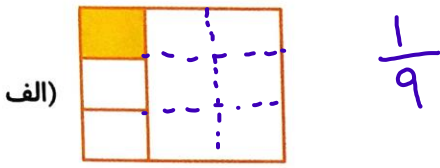
محیط مربع = ضلع $\times 4$
= $5 \times 4 = 20 \text{ cm}$

محیط شکل = $7 + 2 + 2 + 2 + 3 + 2 + 2 + 2 = 22 \text{ cm}$

ماشین ورودی و خروجی را کامل کنید.



چه کسری از شکل‌های زیر رنگ شده است؟



علوم

دانشمندان به کمک که انجام می‌دهند و که بدست می‌آورند، درباره‌ی پاسخ پرسش‌های گوناگون پیش‌بینی می‌کنند.

مخلوط چیست؟

کدام اندام وظیفه‌ی تصفیه‌ی خون را به عهده دارد؟

(۴) روده

(۳) کلیه

(۲) شش

(۱) معده

جملات درست را با و نادرست را با مشخص کنید.


الف) گیاهانی که دانه‌ی دو قسمتی دارند دارای برگ‌هایی با رگبرگ‌های موازی‌اند.

ب) غذای نرم به معنای قابل جذب شدن توسط سلول‌ها است.

تفاوت ستاره و سیاره در چیست؟ از هر کدام یک مثال بزنید.

فارسی

۱ معنای واژه‌های زیر را بنویسید.



خطه



غوک



گریخت



نابستند

۲ با هر گروه از حروف درهم ریخته یک کلمه بسازید.


ت - غ - ی - ه

ل - ج - ی - ل


ی - د - م - ع



۳ مخالف کلمه‌های زیر را بنویسید.



نیرومند



اندوهگین



اولین

۴ در هر قسمت کلمه‌ی درست را انتخاب کنید.

(الف) او هنگام چیدن گل به دستش رفت. (خوار - خار)

(ب) پایه و همه صحبت‌ها توانایی علمی دانش آموزان است. (اثاث - اساس)

(پ) آب مایه‌ی است. (حیاط - حیات)

مطالعات اجتماعی

۱ سه مورد از اقدامات مهم داریوش را بنویسید.

۲ در جای خالی کلمه مناسب بنویسید.

الف) سرزمین بین النهرین بین دو رود و قرار داشت .
ب) اولین ابزارهای انسان بیش تر بود.
پ) شغل ها دو دسته اند: و

۳ جهت های اصلی و فرعی را نام ببرید.

هدیه های آسمان - قرآن



۱ اولین مسجدی که پیامبر اسلام ساخت چه نام داشت؟








۲ سه مورد از توانایی هایی که خدا به ما داده است را بنویسید.

۳ معنی آیه زیر را کامل کنید.

«أَلَا بِذِكْرِ اللَّهِ تَطْمَئِنُّ الْقُلُوبُ»

بدان با یاد آرامش می یابد .

	معنای کلمات
	ساخت کلمه با حروف درهم ریخته
	انتخاب واژگان هم آوا
	آشنایی با اقدامات داریوش
	شناخت جهت های فرعی و اصلی
	معنای آیه های قرآن

	عدد نویسی
	توانایی ادامه دادن الگوهای عددی
	شناخت ماشین ورودی و خروجی
	تشخیص کسر مربوط به شکل
	آشنایی با تعریف فرضیه
	آشنایی با اندام تصفیه خون بدن
	ویژگی برگ گیاهان دانه دار

شناختن آنها

-  خیلی خوب
-  خوب
-  قابل قبول
-  نیاز به تلاش بیشتر