

بِسْمِ اللَّهِ الرَّحْمَنِ الرَّحِيمِ





ارمغان هفته - پنجم دبستان

شماره‌ی ۲۶

نام و نام خانوادگی: تاریخ: نام آموزگار:

ریاضی < نوروژ
علوم < نوروژ
فارسی < نوروژ

مطالعات اجتماعی < نوروژ
هدیه‌های آسمان < نوروژ
قرآن < نوروژ



ریاضی

علی با خانواده‌اش برای تفریح به پارکی رفته است که روی تابلوی آن نوشته ۸ هکتار. اگر عرض پارک ۲۰۰ متر باشد، طول پارک را بیابید. (برحسب متر)

هر هکتار ۱۰۰۰۰ متر مربع است. پس پارک ۸۰۰۰۰ متر مربع است.

$$۸۰۰۰۰ \div ۲۰۰ = ۴۰۰$$

پس طول پارک ۴۰۰ متر است.

حاصل جمع و ضرب زیر را به دست آورید.

۲

$$\text{الف) } 2\frac{4}{5} + 3\frac{2}{10} = 5\left(\frac{8}{10} + \frac{2}{10}\right) = 5\left(\frac{10}{10}\right) = 6$$

$$\text{ب) } 2\frac{3}{4} \times 3\frac{4}{5} = \frac{11}{4} \times \frac{19}{5} = \frac{209}{20} = 10\frac{9}{20}$$

مساحت بادبادک زهرا چقدر است؟



قطر بزرگ لوزی: ۱۸ سانتی متر

قطر کوچک لوزی: ۱۰ سانتی متر

$$\div 2 = (\text{قطر کوچک} \times \text{قطر بزرگ}) = \text{مساحت لوزی}$$

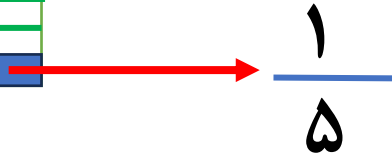
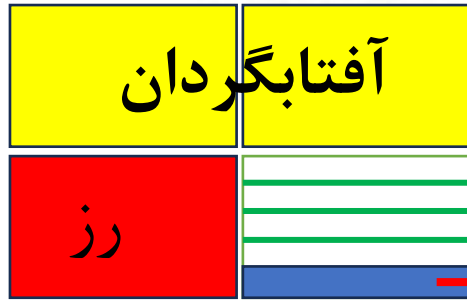
$$90 = (18 \times 10) \div 2$$



کیوان می خواهد برای عید نوروز باغچه‌ی خانه‌شان را گل کاری کند. او $\frac{1}{4}$ باغچه را گل رُز، $\frac{2}{3}$ باقی مانده را گل آفتابگردان و $\frac{1}{5}$

باقی مانده را گل مریم می‌کارد. اگر مساحت کل باغچه ۴۰ متر مربع باشد، چند متر مربع گل رُز کاشته شده است؟ چند متر مربع

گل مریم کاشته است؟ چند متر مربع چیزی کاشته نشده است؟ (رسم شکل)



$$۲۰ = ۴ \times ۵ \quad \text{تعداد قسمت‌های مساوی باغچه}$$

$$۲ = ۴۰ \div ۲۰ \quad \text{سهم هر قسمت باغچه}$$

$$۱۰ = ۵ \times ۲ \quad \text{گل رز}$$

$$۲۰ = ۱۰ \times ۲ \quad \text{گل آفتابگردان}$$

$$۲ = ۱ \times ۲ \quad \text{گل مریم}$$

$$۸ = ۴ \times ۲ \quad \text{کاشته نشده}$$

علوم

برچسب مربوط به هر جمله را روبه‌روی آن بچسبانید.



سمعک

الف) وسیله‌ای که به افراد کم‌شنوا کمک می‌کند تا صداها را بهتر بشنوند.

گوش

ب) وظیفه‌ی جمع‌آوری امواج صوتی را دارد.

قسمت حلزونی گوش

پ) در این قسمت گیرنده‌های شنوایی قرار دارند.



چرا ماهی‌های قرمز درون تنگ شیشه بزرگ‌تر از اندازه واقعی خود به نظر می‌رسند؟



زیرا تنگ شیشه‌ای پر از آب مثل عدسی عمل می‌کند و ماهی بزرگ‌تر دیده می‌شود.

یگانه در عید نوروز به همراه خانوادش از موزه بازدید کرد، او در یکی از قسمت‌های موزه فسیل زیر را دید.



الف) تصویر روی فسیل مربوط به چه موجودی است؟



ماهی

ب) چگونه تشکیل شده است؟



(ب) چگونه تشکیل شده است؟

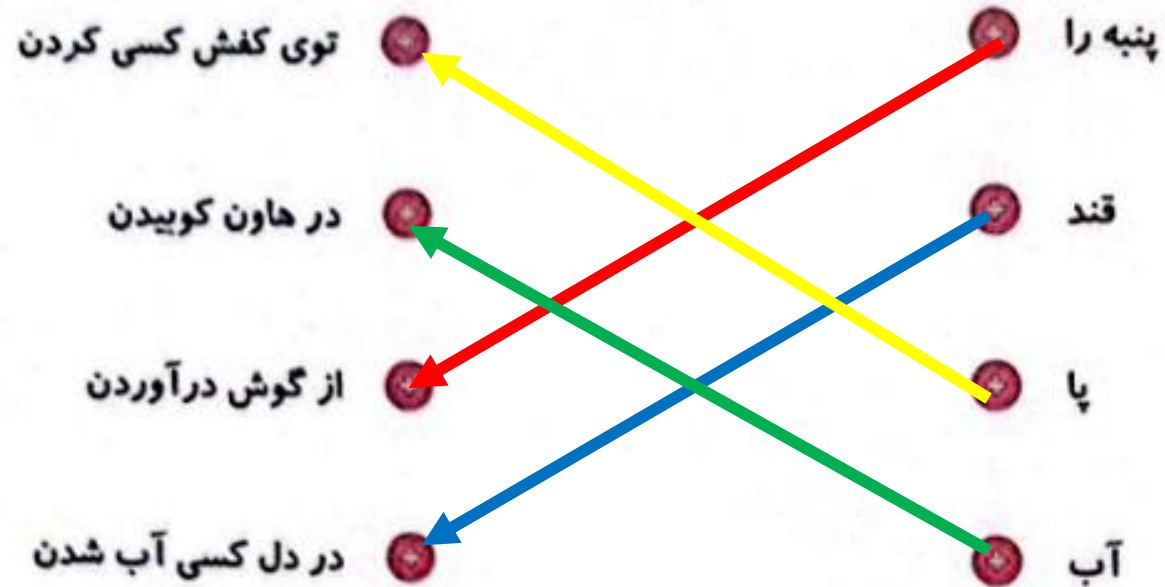
جسد ماهی پس از مرگش در کف اقیانوس قرار گرفته است، بر روی جسد آن رسوبات انباشته شده و جسد در لابه لای رسوبات قرار می گیرد. قسمت های نرم تجزیه شده و قسمت های سخت بین رسوبات مانده است. رسوبات و جسد ماهی فشرده شده و طی سال ها فسیل ایجاد شده است.

دستگاه عصبی چه وظیفه ای دارد و از چه بخش هایی تشکیل شده است؟

دستگاه عصبی مسئول هماهنگ کردن کار اندام داخلی با هم و هماهنگ کردن بدن با محیط اطراف است. دستگاه عصبی از دو بخش مرکزی و بخش محیطی تشکیل شده است. بخش مرکزی شامل مغز و نخاع و بخش محیطی شامل رشته های عصبی است.

فارسی

کتابه‌های زیر را به عبارت‌های کامل کننده‌ی خود وصل کنید.



۲
میترا به همراه مادرش به بازار رفت. در بازار چند مغازه وجود داشت که صدای بلندی از داخل آنها می آمد. میترا از مادرش پرسید شغل آنها چیست؟ مادرش گفت مسگر یعنی کسی که روی مس کاری انجام می دهد و چند کار مس به او نشان داد. مادرش گفت شغل های دیگری هم وجود دارد که مانند مسگر باشند. اکنون چند شغل پیدا کنید که این گونه تعریف شوند.
حال مانند میترا کلماتی که با پسوند (گر، ساخته می شوند پیدا کنید و معنی آنها را بنویسید. (جدول ۵ مورد)

زرگر، آهنگر، سفالگر، رفتگر، کارگر

۳
جمله ی زیر را گسترش دهید.

به دلخواه دانش آموز

خواهرم کتاب من را آورد.....



متن را با دقت بخوانید و به جای کلماتی که زیر آن‌ها خط کشیده شده از کادر کلماتی را انتخاب و جایگذاری کنید که معنی عبارت تغییر نکند، سپس متن را مجدد بازنویسی کنید. **غرش خط و خوانا**

جنگل وسیع و زیباست. صدای آرام نسیم در همه جای جنگل شنیده می‌شود گاه نیز غرش و زوزه‌ی جانوران سکوت و آرامش جنگل را می‌شکند. باید جنگل‌ها را حفظ کنیم و مراقب باشیم که درختان از بین نروند. اگر از جنگل مواظبت نکنیم شاید دیگر نتوانیم داستان‌هایی بخوانیم که به این صورت آغاز می‌شوند.

جنگل پهناور و قشنگ است. صدای آرام باد ملایم در همه جای جنگل به گوش می‌رسد گاه نیز غرش و زوزه‌ی حیوانات سکوت و آرامش جنگل را می‌شکند. باید جنگل‌ها را حفظ کنیم و مواظب باشیم که درختان نابود نشوند. اگر از جنگل محافظت نکنیم شاید دیگر نتوانیم قصه‌هایی بخوانیم که به این صورت شروع می‌شوند.

شروع	قشنگ است	نابود نشوند
پهناور	باد ملایم	دوست
محافظت	حیوانات	قصه‌هایی
مواظبت	به گوش می‌رسد	



مطالعات اجتماعی

۱ جدول را کامل کنید.

← ۱	ق	ن	ا	ت
← ۲	ک	ل	ا	م
← ۳	ز	ی	ت	و
← ۴	ه	ا	د	ر
← ۵	ج	ن	گ	ا
← ۶	ج	م	ع	ی
← ۷	ن	م		
← ۸	ن	ظ	م	
← ۹	ک	ر		
← ۱۰	ر	ا	ه	
← ۱۱	چ	ش	م	ه

۱- میزان تبخیر و آلودگی آب آن بسیار کم است.

۲- مهم ترین راه ارتباط انسان ها با یکدیگر

۳- از گیلان صادر می شود.

۴- کالاهایی که تولید شده و به جای دیگر فرستاده می شود را می گویند.

۵- از عوامل دورکننده ی جمعیت.

۶- اگر زیاد باشد نیروی زیادی برای دفاع داریم.

۷- هیچ کس این احساس را دوست ندارد.

۸- یکی از نکته های مهمی که در هر گروه باید رعایت شود.

۹- به دریاچه ی بختگان می ریزد.

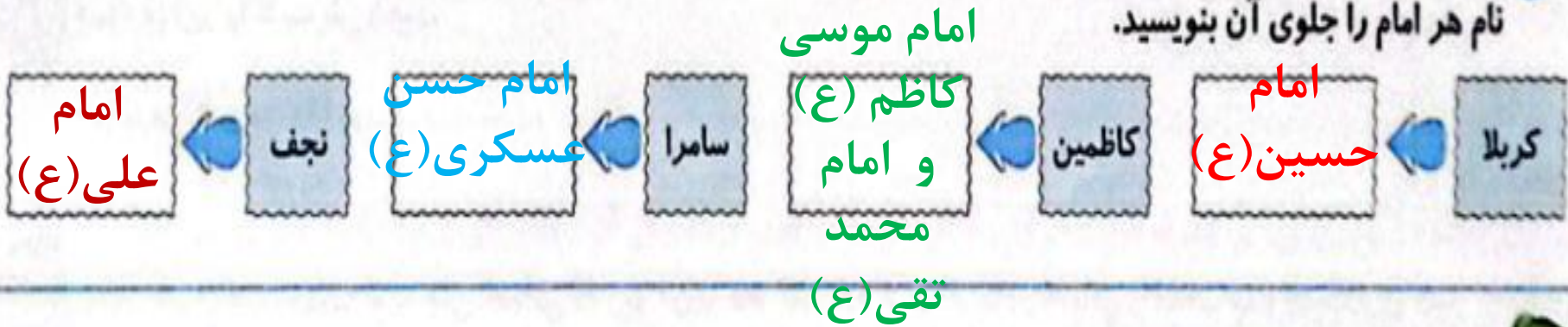
۱۰- برای جابه جایی مردم از جایی به جای دیگر لازم است.

۱۱- آب هایی که خود به خود به سطح زمین راه پیدا می کنند.



هدیه های آسمان - قرآن

۱ در عید نوروز سهیل همراه خانواده اش به کشور عراق سفر کرد. آن ها در هر یک از شهرهای زیر به زیارت کدام امام رفتند؟ نام هر امام را جلوی آن بنویسید.



۲ معنی پیام قرآنی زیر را بنویسید.

«وَأَوْفُوا بِالْعَهْدِ»

به عهد خود وفا کنید.



باد گرفتن هیله درسی **فرت**
نیست، فقط بعضی وقتا باید
یکم بیش نر **نلاش** کنی.

