

الله أكبر



ارمغان هفته - پنجم دبستان

شماره‌ی

۲۶

نام آموزگار:

تاریخ:

نام و نام خانوادگی:

مطالعات اجتماعی < نوروژ

هدیه‌های آسمان < نوروژ

قرآن < نوروژ

ریاضی < نوروژ

علوم < نوروژ

فارسی < نوروژ



ریاضی

۱ علی با خانواده‌اش برای تفریح به پارکی رفته است که روی تابلوی آن نوشته ۸ هکتار. اگر عرض پارک ۲۰۰ متر باشد، طول

پارک را بیابید. (برحسب متر)

هر هکتار ۱۰۰۰۰ متر مربع است.

$$10000 \times 8 = 80000$$

$$80000 \div 200 = 400$$

۲ حاصل جمع و ضرب زیر را به دست آورید.

الف) $2\frac{4}{5} + 3\frac{2}{10} = 5\frac{4}{5} + \frac{2}{10} = 5\frac{10}{10} = 6$

ب) $2\frac{2}{4} \times 3\frac{4}{5} =$

$$\frac{11}{2} \times \frac{19}{5} = \frac{209}{10} = 20\frac{9}{10}$$

۳

مساحت بادبادک زهرا چقدر است؟

قطر کوچک لوزی: ۱۰ سانتی متر

قطر بزرگ لوزی: ۱۸ سانتی متر

$$\frac{10 \times 18}{2} = 90$$

۴

کیوان می خواهد برای عید نوروز باغچه‌ی خانه‌شان را گل کاری کند. او $\frac{1}{4}$ باغچه را گل رُز، $\frac{2}{3}$ باقی مانده را گل آفتابگردان و $\frac{1}{5}$

باقی مانده را گل مریم می‌کارد. اگر مساحت کل باغچه ۴۰ متر مربع باشد، چند متر مربع گل رُز کاشته شده است؟ چند متر مربع

گل مریم کاشته است؟ چند متر مربع چیزی کاشته نشده است؟

گل مریم	گل آفتابگردان	گل رُز

$$40 \div 20 = 2$$

$$5 \times 2 = 10$$

$$1 \times 2 = 2$$

$$4 \times 2 = 8$$

علوم

برچسب مربوط به هر جمله را روبه‌روی آن بچسبانید.



سمعک


الف) وسیله‌ای که به افراد کم‌شنوا کمک می‌کند تا صداها را بهتر بشنوند.

لاله‌ی گوش

ب) وظیفه‌ی جمع‌آوری امواج صوتی را دارد.

بخش حلزونی

پ) در این قسمت گیرنده‌های شنوایی قرار دارند.



چرا ماهی‌های قرمز درون تنگ شیشه بزرگ‌تر از اندازه واقعی خود به نظر می‌رسند؟



تنگ ماهی برآمده است و مثل عدسی و ذره بین عمل می‌کند.

یگانه در عید نوروز به همراه خانوادش از موزه بازدید کرد، او در یکی از قسمت‌های موزه فسیل زیر را دید.



الف) تصویر روی فسیل مربوط به چه موجودی است؟



ماهی

ب) چگونه تشکیل شده است؟

وقتی جانوران می‌میرند، قسمت‌های نرم بدن آن‌ها با گذشت زمان از بین می‌روند اما قسمت‌های سخت مانند استخوان‌ها و صدف‌ها از بین نمی‌روند و با گذشت زمان و ته نشین شدن با گل و لای آب دریا در بین آنها باقی می‌مانند و فسیل را تشکیل می‌دهند.



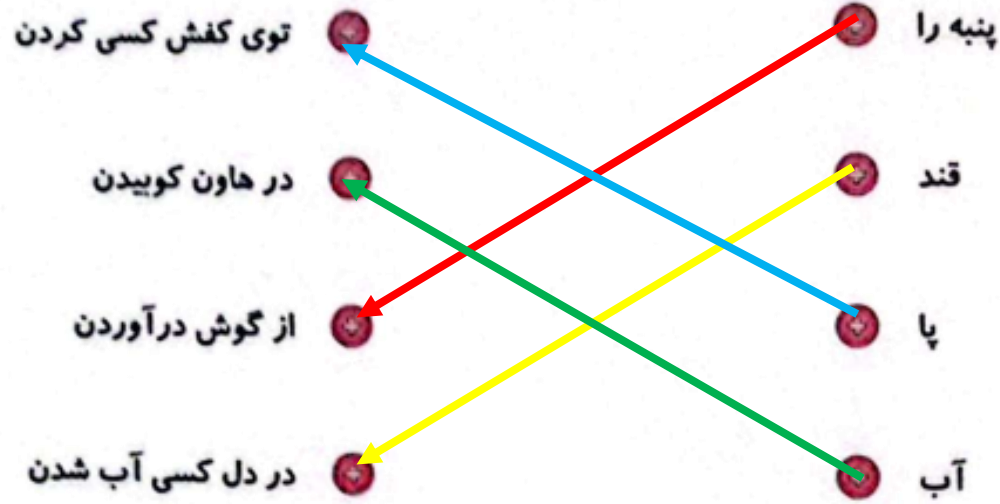



دستگاه عصبی چه وظیفه‌ای دارد و از چه بخش‌هایی تشکیل شده است؟
 عصب‌ها (اعصاب) فرمان‌های مغز و نخاع را به بخش‌های مختلف بدن می‌رسانند.
 مغز و رشته‌های عصبی نخاع

فارسی



کنایه‌های زیر را به عبارتهای کامل کننده‌ی خود وصل کنید.





میترا به همراه مادرش به بازار رفت. در بازار چند مغازه وجود داشت که صدای بلندی از داخل آن‌ها می‌آمد. میترا از مادرش پرسید شغل آن‌ها چیست؟ مادرش گفت مسگر یعنی کسی که روی مس کاری انجام می‌دهد و چند کار مس به او نشان داد. مادرش گفت شغل‌های دیگری هم وجود دارد که مانند مسگر باشند. اکنون چند شغل پیدا کنید که این‌گونه تعریف شوند. حال مانند میترا کلماتی که با پسوند «گر» ساخته می‌شوند پیدا کنید و معنی آن‌ها را بنویسید. (جدول ۵ مورد)

سفالگر: کسی که با گل اشیاء سفالی می‌سازد.
بازیگر: کسی که نقش بازی می‌کند.
رفتگر: کسی که کوچه و خیابان را تمیز می‌کند.
آهنگر: کسی که با آهن وسیله می‌سازد.
گزارشگر: کسی که گزارش کاری را بیان می‌کند.

جمله‌ی زیر را گسترش دهید.

خواهرم کتاب من را آورد

خواهرم با آرامش کتاب ریاضی من را آورد.
خواهرم کتاب من را برای اینکه برایش بخوانم آورد.
خواهرم کتاب ارمغان من را آورد.





متن را با دقت بخوانید و به جای کلماتی که زیر آن‌ها خط کشیده شده از کادر کلماتی را انتخاب و جایگذاری کنید که معنی عبارت تغییر نکند، سپس متن را مجدد بازنویسی کنید. **غرش خط و خوانا**

جنگل وسیع و زیباست. صدای آرام نسیم در همه جای جنگل شنیده می‌شود گاه نیز غرش و زوزه‌ی جانوران سکوت و آرامش جنگل را می‌شکند. باید جنگل‌ها را حفظ کنیم و مراقب باشیم که درختان از بین نروند. اگر از جنگل مواظبت نکنیم شاید دیگر نتوانیم داستان‌هایی بخوانیم که به این صورت آغاز می‌شوند.

شروع	قشنگ است	نابود نشوند
پهناور	باد ملایم	دوست
محافظت	حیوانات	قصه‌هایی
مواظبت	به گوش می‌رسد	

وسیع: پهناور

زیبا است: قشنگ است

نسیم: باد ملایم

شنیده می‌شود: به گوش می‌رسد

جانوران: حیوانات

مراقب: مواظب

از بین نرود: نابود نشود

مواظبت: محافظت

داستان‌هایی: قصه‌هایی



مطالعات اجتماعی

۱ جدول را کامل کنید.

← ۱		ق	ن	ا	ت
← ۲		ک	ل	ا	م
← ۳		ز	ی	ت	و
← ۴	ص	ا	د	ر	ا
← ۵		ج	ن	گ	
← ۶		ج	م	ع	ی
← ۷		ن	م		
← ۸		ن	ظ	م	
← ۹		ک	ر		
← ۱۰		ر	ا	ه	
← ۱۱		چ	ش	م	ه

۱- میزان تبخیر و آلودگی آب آن بسیار کم است.

۲- مهم ترین راه ارتباط انسان ها با یکدیگر

۳- از گیلان صادر می شود.

۴- کالاهایی که تولید شده و به جای دیگر فرستاده می شود را می گویند.

۵- از عوامل دورکننده ی جمعیت.

۶- اگر زیاد باشد نیروی زیادی برای دفاع داریم.

۷- هیچ کس این احساس را دوست ندارد.

۸- یکی از نکته های مهمی که در هر گروه باید رعایت شود.

۹- به دریاچه ی بختگان می ریزد.

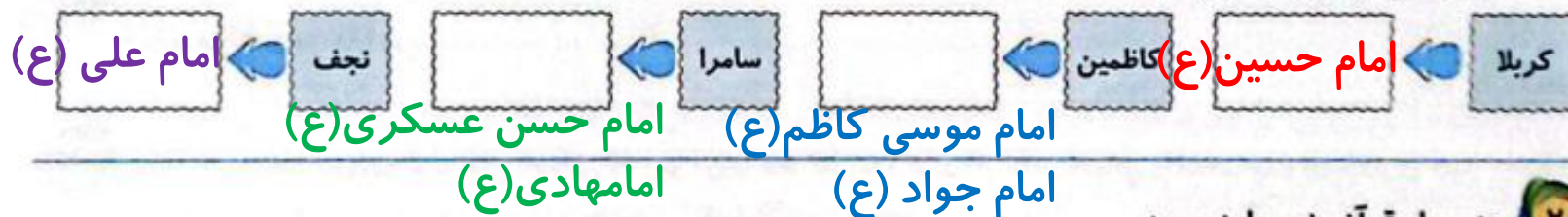
۱۰- برای جابه جایی مردم از جایی به جای دیگر لازم است.

۱۱- آب هایی که خود به خود به سطح زمین راه پیدا می کنند.



هدیه های آسمان - قرآن

۱ در عید نوروز سهیل همراه خانواده اش به کشور عراق سفر کرد. آن ها در هر یک از شهرهای زیر به زیارت کدام امام رفتند؟ نام هر امام را جلوی آن بنویسید.



۲ معنی پیام قرآنی زیر را بنویسید.

«وَأَوْفُوا بِالْعَهْدِ»

به عهد خود وفا کنید.

	تشخیص معنی واژگان
	ساخت واژه های جدید
	کامل کردن جدول اجتماعی
	آشنایی با شهرهای زیارتی

	توانایی حل مسئله
	محاسبه ی کسرها
	وظایف اندام ها
	کاربرد دستگاه عصبی
	تشخیص ضرب المثل

شاخص ها

	خیلی خوب
	خوب
	قابل قبول
	نیاز به تلاش بیشتر

