

شماره‌ی

۳۰

ارمغان هفته پنجم دبستان

نام و نام خانوادگی: تاریخ: نام آموزگار:

مطالعات اجتماعی < درس ۲۱: کشور گشایان بی رحم
هدیه‌های آسمان < درس ۱۷: این‌ها و آن‌ها (۱)
قرآن < درس ۱۲: جلسه‌ی اول و دوم

ریاضی < فصل ۷: میانگین
علوم < درس ۱۳: از ریشه تا برگ (۱)
فارسی < درس ۱۷: کار و تلاش

ریاضی

۱ هر کدام از موارد زیر را به احتمال درست وصل کنید.

- | | |
|---|----------------|
| ● تقویمی را باز کنیم صفحه‌ی ماه تولد شما بیاید. | ● احتمال برابر |
| ● در یک ظهر تابستانی هوا گرم باشد. | ● منفی |
| ● وقتی تاسی را پرتاب می‌کنیم فرد یا زوج بیاید. | ● احتمال کم |
| ● وقتی عددی فرد را با زوج جمع کنیم حاصل عددی فرد شود. | ● غیرممکن |
| ● وقتی باران می‌آید آسمان صاف باشد. | ● احتمال زیاد |

۲ میانگین سه عدد ۱۱، ۱۵ و ۱۹ را حساب کنید.

$$(11 + 15 + 19) \div 3 = 45 \div 3 = 15$$

۳ اگر علی مسیری را که ۹۴۰ سانتی‌متر است، با ۲۰ قدم رفته باشد، میانگین طول قدم‌های علی را بیابید.

$$940 \div 20 = 47$$

۴ دل‌آرا در هفته‌ی پیش ۱۲۶۰۰۰ تومان خرج کرده است. میانگین مخارج روزانه او را حساب کنید.

$$126000 \div 7 = 18000$$

علوم

۱ جاهای خالی را با توجه به کلمه‌های زیر کامل کنید.

ریشه - تارهای کشنده،

الف) با جوانه زدن دانه‌ی گیاهان در خاک، اولین قسمتی که رشد می‌کند، ریشه نام دارد.

ب) تارهای ظریفی که روی ریشه قرار دارند، تارهای آبشوره نام دارند.

۱



چه ارتباطی بین آسیب دیدن ریشه و پژمرده شدن گیاه است؟

اگر ریشه گیاه آسیب ببیند دیگر نمی تواند آب و املاح را جذب کند و در نتیجه گیاه پژمرده می شود.

جاهای خالی را با کلمات مناسب کامل کنید.


(الف) روزه در گیاهان مشابه بینی در جانوران است.

(ب) به دستجات آوندی در برگ رگبرگ می گویند.

(پ) اجزای اصلی گیاه ریشه و ساقه و برگ می باشد.

فارسی

کلمه های هم قافیه را به هم وصل کنید.



صورت مرتب شده ی بیت زیر را بنویسید.

که با پای ملخ کرد زوری،

به راهی در، سلیمان دید موری

زوری سلیمان در راه بود پای را دیدم با پای ملخی دست زنجیر نرم می کند.

بیت همکش بیهوده این بار گران را / میازار از برای جسم، جان را، چند جمله دارد؟

دو جمله

با توجه به بیت داده شده موارد خواسته شده را نام برده و بنویسید.

به تندی گفت: «کای مسکین نادان / چرایی فارغ از ملک سلیمان،

(الف) تعداد جملات بیت: ۳

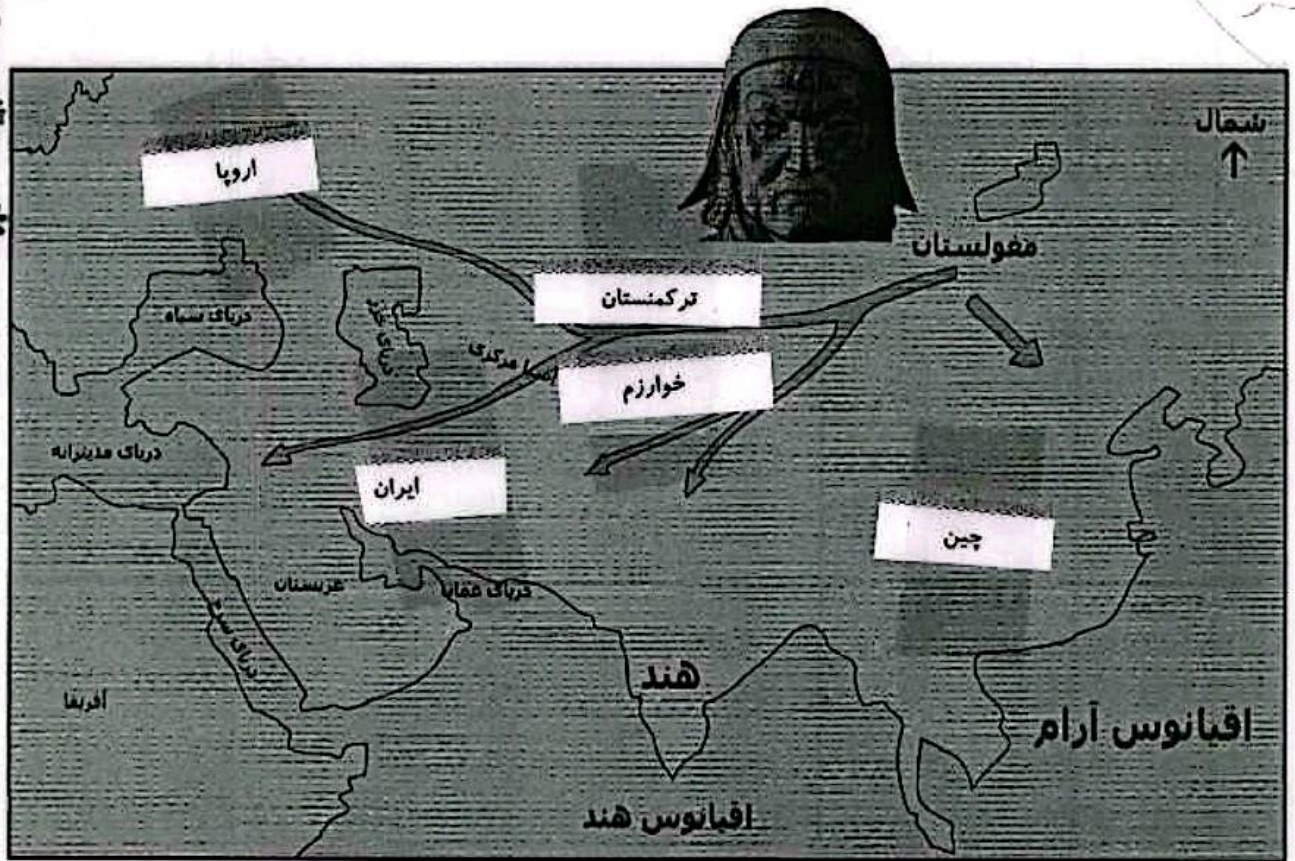
(ب) منادا: مسکین

۲

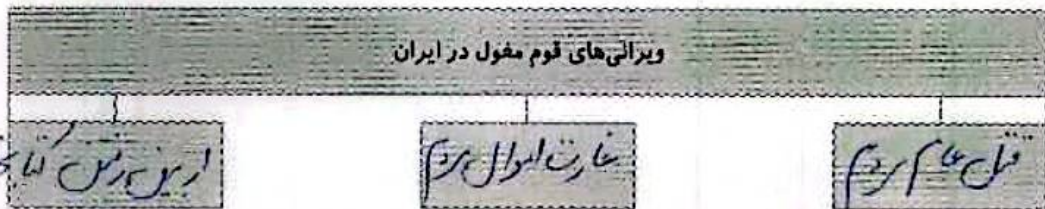


مطالعات اجتماعی

۱ با استفاده از برجسب‌های داده شده مسیر حرکت اقوام مغول را روی نقشه کامل کنید.



۲ نمودار را کامل کنید.



۳ جاهای خالی را کامل کنید.

- (الف) در زمان سلطان محمد خوارزمشاه گینزخان حاکم مغولستان بود.
 (ب) هلاکو پس از فتح ایران مراغه را پایتخت خود قرار داد.
 (پ) حاکم شهر اترار غایر خان بود.
 (ت) از کسانی که مقابل مغول‌ها ایستادگی کرد، سلطان جلال‌الدین خوارزمشاه پسر سلطان محمد بود.



هدیه‌های آسمان - قرآن

نشانه‌های زندگی نیکان در بهشت را با رنگ سبز و نشانه‌های زندگی بدکاران در جهنم را با رنگ قرمز رنگ آمیزی کنید.

با خشم و عصبانیت به هم نگاه می‌کنند	هر آنچه اراده کنند برایشان فراهم می‌شود
فرشتگان به آن‌ها احترام می‌گذارند	نعمت‌ها و لذت‌هایشان پایان ندارد
از آبی بد بو می‌نوشند و سیراب نمی‌شوند	حسرت زده و پشیمان هستند

ترجمه‌ی آیات زیر را کامل کنید.

الف) صراطُ الَّذِينَ أَنْعَمْتَ عَلَيْهِمْ (حمد ۷)

راه کسانی که نعمت دادی به آن‌ها

ب) رَبَّنَا اغْفِرْ لِي وَلِوَالِدَيَّ وَلِلْمُؤْمِنِينَ يَوْمَ يَقُومُ الْحِسَابُ (ابراهيم ۴۱)

پروردگارا! مرا و والی‌هایم را و همه‌ی را در روزی که به حساب مردم رسیدگی می‌کنند.

تشخیص منادا	محاسبه‌ی میانگین	تشخیص‌ها عین خوب خوب قابل قبول نیاز به تلاش بیشتر
تشخیص مسیر حرکت اقوام معول	کاربرد میانگین در مسئله	
تشخیص نشان‌های زندگی نیکان و بدان در آخرت	شناخت اجزای گیاه	
توانایی ترجمه‌ی آیات قرآنی	فواید شخم زدن	
	مراحل رشد دانه	

