

نام و نام خانوادگی:

موضوع:

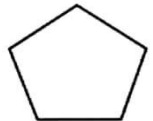

پایه:

تاریخ:

هدف:

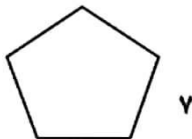


شکل های زیر را نام گذاری کنید سپس بگویید هر شکل چه نام دارد ؟



ام هر شکل را بنویسید سپس محیط آن را به کمک ضرب پیدا کنید .

(الف)



(ب)



(الف) به اندازه سطح هر شکل آن شکل می گویند .

(ب) اندازه دور تا دور هر شکل را آن شکل می گویند .

مساحت شکل های زیر را بدست آورید .


(الف)

۴ سانتی متر



۶ سانتی متر

(ب)



۴ سانتی متر

پدر رضا یک میز 5×3 متر خریده است مساحت سطح این میز چند متر مربع است ؟



نام و نام خانوادگی:


موضوع:

پایه:

تاریخ:

هدف:

برای هر شکل جمع یا تفریق بنویسید .



جمع و تفریق ها را روی محور نشان دهید و حاصل را بنویسید .

$$\frac{2}{6} + \frac{3}{6} =$$



$$\frac{6}{8} - \frac{5}{8} =$$



کشاورزی $\frac{4}{9}$ زمین خود را کندم و $\frac{2}{9}$ زمین خود را جو کاشته است . او روی هم چه کسری از زمین خود را کندم و جو کاشته است ؟

حاصل جمع و تفریق های زیر را به دست آورید .

$$\frac{5}{16} + \frac{7}{16} =$$

$$\frac{9}{18} - \frac{3}{18} =$$

حسین $\frac{3}{4}$ یک دیوار را در روز اول و $\frac{3}{4}$ دیگر دیوار را در روز دوم رنگ کرده است .

الف) حسین چه کسری از دیوار را رنگ کرده است ؟

ب) چه کسری از دیوار هنوز رنگ نشده است ؟

