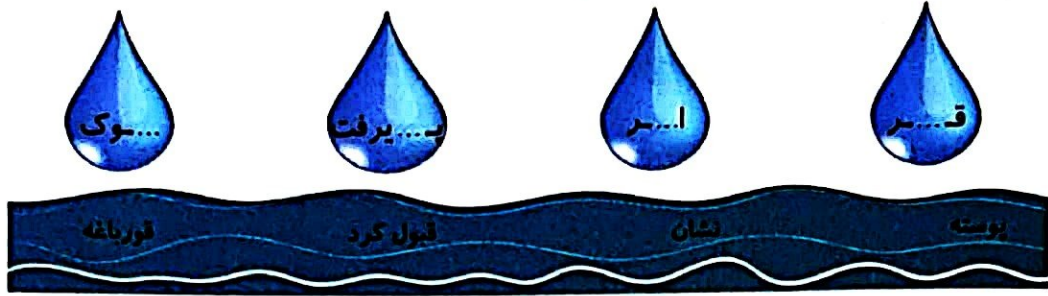


فارسی

با توجه به معنای کلمات داده شده، آن‌ها را کامل کنید.



کلمات هم خانواده را هم رنگ کنید.



این جمله‌ها را از متن درس پیدا کنید و جاهای خالی را با کلمات مناسب پر کنید.

(الف) بر آن‌ها گردنبندهایی از گل‌های صورتی

(ب) تابستان با رنگ سبز تیره، سراسر جنگل را

(پ) داوری میان آن‌ها

(ت) برگ درختان سبز در نظر هر ورقش دفتری است معرفت

در کدام بیت یا جمله، جان‌بخشی (تشخیص) وجود ندارد؟

(الف) دل هر غنچه تپید / رنگ گلبرگ پرید

(ب) برگ درختان سبز در نظر هوشیار / هر ورقش دفتریست، معرفت کردگار

(پ) خورشید جهان‌افروز از پشت ابرهای سفید، نقاشی تابستان را تماشا کرد.

(ت) برگ بی‌حوصله شد / سبزه خمیاز کشید

مطالعات اجتماعی

گزینه‌ی صحیح را انتخاب کنید.

(الف) کدام مورد از مکان‌هایی است که معمولاً در هر محله می‌توان مشاهده کرد؟

(۴) سینما

(۳) بیمارستان

(۲) مسجد

(۱) شهربازی

(ب) کدام یک از فعالیت‌های زیر در مسجد انجام نمی‌شود؟

(۲) مشورت کردن برای حل مشکلات یکدیگر

(۱) با خبر شدن از حال یکدیگر

(۴) برگزاری اعیاد و عزاداری‌ها در مناسبت‌ها

(۳) استراحت کردن

۲ با توجه به تصاویر، تغییراتی که در محله‌ها از گذشته تاکنون رخ داده است را بنویسید. (۳ مورد)



- ۱
- ۲
- ۳

۳ برای تمیز نگهداشتن و مراقبت از بوستان چه وظایفی داریم؟ (۳ مورد نام ببرید)

هدیه‌های آسمان - قرآن

۱ به سؤالات زیر پاسخ کوتاه دهید.

- الف) اولین مسجدی که پیامبر و یارانش ساختند در کجا و چه نام دارد؟
- ب) آرامگاه حضرت محمد (ص) در کجا قرار دارد؟
- پ) بزرگ‌ترین و مهم‌ترین مسجد اسلامی چه نام دارد و در کجاست؟
- ت) یکی از مساجد مهمی که در فلسطین قرار دارد چه نام دارد؟

۲ تفاوت نماز جماعت و فرادی را بنویسید. (۲ مورد)

۳ معنای عبارات و ترکیبات قرآنی را بنویسید.

رسول

الله

بسم الله الرحمن الرحيم

یا بنی اقم الصلاة

عالمین

شاخص‌ها			
تفاوت فردی	عمل فصل	غیب	فصل فصل
			◀ شناسایی مخلوط یکنواخت و غیریکنواخت
			◀ معنای واژه‌ها و تشخیص هم‌خانواده
			◀ درک مطلب و جان‌سختی
			◀ فعالیت‌های محله و تغییرات در محله
			◀ مساجد مهم، تفاوت نماز جماعت و فردی

شاخص‌ها			
تفاوت فردی	عمل فصل	غیب	فصل فصل
			◀ حل مسئله از روش الگویی و رابطه الگویی
			◀ گسترده‌ی عددی و مرتبه‌ی عددی
			◀ عملیات در ماشین‌های ورودی - خروجی
			◀ مفهوم مخلوط
			◀ انواع مخلوط‌ها (جامد، مایع و ...)

چهارم دبستان ارمغان هفته



شماره‌ی

۴

نام و نام خانوادگی:

تاریخ:

پایه:

نام آموزگار:

فصل ۱: اعداد و الگوها، ماشین‌های ورودی- خروجی

درس ۲: مخلوطها در زندگی ۱

درس ۱: آفریدگار زیبایی ۱، شعر خبر داغ

درس ۲: اینجا محله‌ی ماست

درس ۳: ما به مسجد می‌رویم

درس ۱: جلسمی سوم و چهارم

ریاضی

علوم

فارسی

مطالعات اجتماعی

هدیه‌های آسمان

قرآن

ریاضی

۱ یک ورزشکار تصمیم دارد در مسابقات ورزشی پارالمپیک که به مناسبت روز ۲۴ مهر، روز ملی پارالمپیک برگزار می‌شود، شرکت کند. اگر او در روز اول ۴۵ دقیقه ورزش کند و هر روز ۱۵ دقیقه به زمان خود اضافه کند:

الف) در روز چهارم چند دقیقه ورزش می‌کند؟

ب) ساعات ورزش او در یک هفته را بنویسید. چه رابطه‌ای بین آن‌ها وجود دارد؟

۲ هر عدد را به گسترده‌ی آن وصل کنید.

۴۷۱۰۷۳

چهار یکی + ۵ تا ۱۰۰ هزارتایی + ۷ تا ۱۰ هزارتایی + ۹ تا صدتایی

۵۷۰۹۰۴

۳ + ۶۰۰ + ۷۰ + ۴۰۰ + ۹۰۰۰ + ۳۰۰۰۰ + ۸۰۰۰۰

۲۱۴۸۹

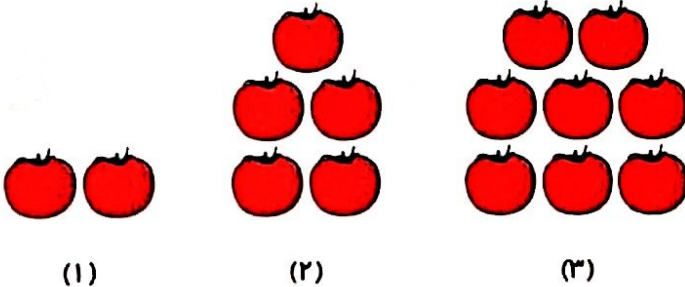
۱۰۰۰ + ۸۰ + ۲۰۰۰۰ + ۴۰۰ + ۹

۳ کدام الگو مربوط به شکل زیر نیست؟

(۱) (شماره‌ی شکل یکی کمتر $3 \times$) + ۲

(۲) ۱ - (شماره‌ی شکل $3 \times$)

(۳) (شماره‌ی شکل $3 \times$) + ۲



(۱)


(۲)

(۳)

این حلزون کدام برگ را بخورد تا به عدد انرژی درون بدنش تبدیل شود؟



ماشین‌های ورودی- خروجی زیر را کامل کرده و برچسب هر قسمت را در جای خود قرار دهید.



کدام یک از موارد زیر مخلوط است؟

(۴) هر ۳ مورد

(۳) خاک

(۲) هوا

(۱) دوغ

بهترین روش برای این که متوجه شویم یک مخلوط یکنواخت است یا غیریکنواخت، چیست؟

جاهای خالی را کامل کنید.

الف) شربت‌های دارویی که قبل از مصرف بایستی تکان دهیم معمولاً مخلوط در هستند.
 ب) ماده‌ای که تمام ذرات سازنده‌ی آن یکسان است نام دارد.
 پ) نوشابه‌های گازدار یک مخلوط در است.

از میان موارد زیر مورد مربوط به هر مخلوط را روبه‌روی آن بنویسید.

دقیق در نفت- حباب کف صابون- مه در هوا- گرد و غبار در هوا،

