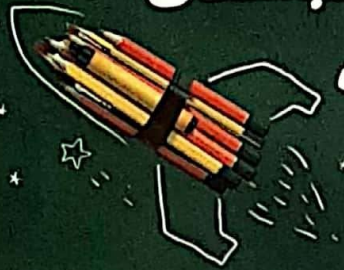


چهارم دبستان ارمغان هفته



شماره

۵



نام و نام خانوادگی: ارمغان...

نام و نام خانوادگی:

تاریخ:

پایه:

نام آموزگار:

فصل ۱: اعداد و الگوها، معرفی میلیون

درس ۲: مخلوطها در زندگی ۲

درس ۱: آفریدگار زیبایی ۲، شعر خیر داغ

درس ۳: خرید و فروش در محله ۱

درس ۴: یک نماز و ده رکوع

درس ۲: جلسهی اول و دوم

ریاضی

علوم

فارسی

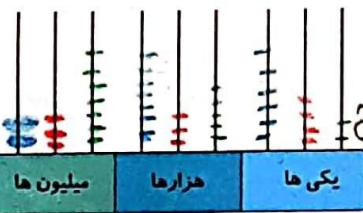
مطالعات اجتماعی

هدیه‌های آسمان

قرآن

ریاضی

۱ به عدد دویست و سی و دو میلیون و هفتصد و چهل و هشت هزار و نوزده، ۴۹۸۷۶۲۳ تا اضافه می‌کنیم. عدد جدید را با رقم و حروف بنویسید و روی چرتکه نشان دهید.



بارقم: ۲۳۷۷۳۵۶۴۲
با حروف: دویست و سی و دو میلیون و هفتصد و چهل و هشت هزار و نوزده

۲ برچسب عددهای داده شده را در جای مناسب خود قرار دهید.

۱۰۶۳۲۵ < ۱۳۰۶۵۲۱۷ < ۱۶۰۳۵۲۱۷ < ۱۰۶۳۵۲۰۱۷

۳ با توجه به ماشین ورودی-خروجی داده شده، $\square + \bigcirc$ چند است؟

۱۲	۴	۱۲
۱۸	۶	۱۴
۲۷	۹	۱۷
۲۵	۸	۱۶
۳۰	۱۰	۱۸

Operations: $\div 3$ and $+10$

$$\begin{array}{r} 237735642 \\ + 4987623 \\ \hline 237735642 \end{array}$$

۴ جاهای خالی را با عدد مناسب پر کنید.

- الف) ده تا ۳۰۰ هزار تا می‌شود ۳۰۰۰۰۰۰۰۰
- ب) سی تا چهار میلیون تا می‌شود ۱۲۰۰۰۰۰۰۰۰
- پ) ۷ تا شصت میلیون تا می‌شود ۴۲۰۰۰۰۰۰۰۰

با توجه به الگوی زیر شکل ۴۰۰ از چند گلبرگ تشکیل شده است؟



(۱)



(۲)

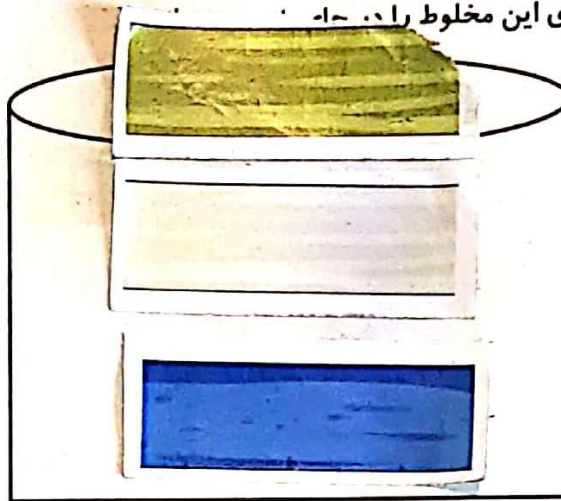


(۳)

$$2000 = 400 \times 5 \rightarrow (5 \times \text{شماره شکل})$$

علوم

برچسب مربوط به هریک از اجزای این مخلوط را د. -



جاهای خالی را کامل کنید.

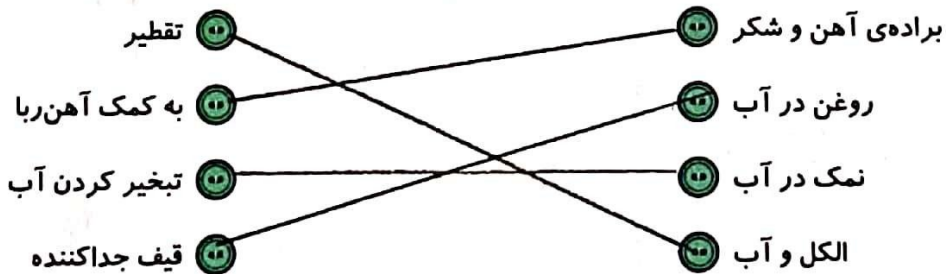
الف) طلای زینتی یک مخلوط ... که ... در ... جا ... است.

ب) در محلول مه در هوا، هوا ... و ... ماده‌ی حل‌شونده است.


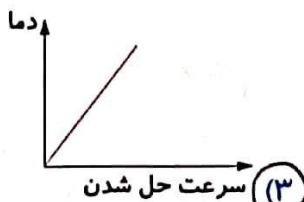

پ) انحلال‌پذیری گازها در مایع با ... دما و ... فشار بیشتر می‌شود.

ت) برای جداسازی خاکشیر در آب از ... استفاده می‌شود.

روش جداسازی هریک از مخلوط‌ها را به آن وصل کنید.



کدام نمودار برای حل شدن شکر در آب صحیح است؟



فارسی

این کرم‌ها، حروف داخل سیب‌ها را به هم ریخته‌اند، آن‌ها را مرتب کنید و کلمه‌ی جدید ساخته و به هم خانواده‌اش متصل کنید.

نقاشی هنرهای تصویر منظره

زراعت مصور نظارت نقشه

در جملات زیر در هر () علائم نگارشی مناسب قرار دهید. (۱، ۲، ۳، ۴، ۵، ۶، ۷، ۸، ۹، ۱۰، ۱۱، ۱۲، ۱۳، ۱۴، ۱۵، ۱۶، ۱۷، ۱۸، ۱۹، ۲۰، ۲۱، ۲۲، ۲۳، ۲۴، ۲۵، ۲۶، ۲۷، ۲۸، ۲۹، ۳۰، ۳۱، ۳۲، ۳۳، ۳۴، ۳۵، ۳۶، ۳۷، ۳۸، ۳۹، ۴۰، ۴۱، ۴۲، ۴۳، ۴۴، ۴۵، ۴۶، ۴۷، ۴۸، ۴۹، ۵۰، ۵۱، ۵۲، ۵۳، ۵۴، ۵۵، ۵۶، ۵۷، ۵۸، ۵۹، ۶۰، ۶۱، ۶۲، ۶۳، ۶۴، ۶۵، ۶۶، ۶۷، ۶۸، ۶۹، ۷۰، ۷۱، ۷۲، ۷۳، ۷۴، ۷۵، ۷۶، ۷۷، ۷۸، ۷۹، ۸۰، ۸۱، ۸۲، ۸۳، ۸۴، ۸۵، ۸۶، ۸۷، ۸۸، ۸۹، ۹۰، ۹۱، ۹۲، ۹۳، ۹۴، ۹۵، ۹۶، ۹۷، ۹۸، ۹۹، ۱۰۰)

- الف) اینجا بود که بهار با خود گفت () () بگذار خورشید به این تصویرهای زیبا نگاه کند و بگوید () منظره‌ای زیباتر از این () می‌توان ساخت () ()
- ب) خورشید گفت () () ای نقاشان چیره‌دست () آنچه شما نقاشی کرده‌اید () بسیار زیباست () ()

در متن زیر چند غلط املائی وجود دارد؟ آن‌ها را پیدا کنید و شکل صحیح آن‌ها را بنویسید. سطح - قشتر - براق - دصطح رودخانه را با غشر نازکی از یخ بزاغ کرد و روی سنوبرها و کاج‌ها، پوشش سنگینی از برف پوشانید. صدوبرها

با پر کردن جای خالی شعر را کامل کنید و نام شاعر و شعر را بنویسید.

..... آهوه از دشت گریخت رمه برگشت به ده
 عاقبت باز رسید خبر از درشمت به ده
 باد هوهو می‌کرد ابر هی می‌بارید

نام شعر: شیراز ، نام شاعر: شکوه قاسم نیا

کلمات مفرد را به جمع و جمع را به مفرد تبدیل کنید.

هنرمند	←	هنرمندان	حشرات	←	حشره	درمانده	←	درمانندگان
زنبور	←	زنبورها	پهلوان	←	پهلوانان	نایبنا	←	نایبانیان

مطالعات اجتماعی

۱ هر عبارت را به کلمه‌ی مربوط به خود، وصل کنید.



۲ با توجه به جدول، کدام کتاب را برای خرید انتخاب می‌کنید؟ چرا؟

جدول امتیاز			
ضعیف	متوسط	خوب	عالی
-	✓	✓✓	✓✓✓

شماره‌ی کتاب	گروه سنی	نوع	قیمت	کیفیت کاغذ
کتاب شماره ۱	الف	رمان	۸۰ هزار تومان	متوسط
کتاب شماره ۲	ج	علمی	۳۰ هزار تومان	عالی ✓
کتاب شماره ۳	ج	داستانی	۳۵ هزار تومان	متوسط

هدیه‌های آسمان - قرآن

۱ به سؤالات زیر پاسخ کوتاه دهید.

الف) نام پسر حضرت محمد (ص) چه بود؟

ب) خورشید گرفتگی و ماه گرفتگی نشانه‌های چیست؟

پ) نماز آیات را در چه مواقعی می‌خوانیم؟

ت) نماز آیات چند رکعت و چند رکوع دارد؟

۲ آیه‌ی روبه‌رو را توضیح دهید. «و الله بما تعملون بصیر»

وعماناً... خداوند زبردست است.

کلاس ۱۸

