

ریاضی

جاهای خالی را با کلمات داده شده پر کنید. ✓

متر مربع - مساحت - محیط

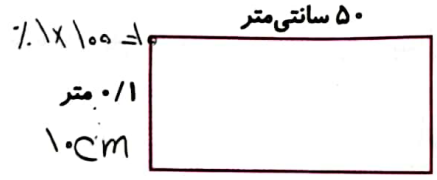
- الف) به سطح هر شکل، مساحت آن شکل گفته می شود.
- ب) اندازه‌ی دور تا دور هر شکل، محیط آن شکل گفته می شود.
- پ) اگر واحد اندازه گیری طول متر باشد، واحد اندازه گیری مساحت، متر مربع می باشد.
- ت) اگر واحد اندازه گیری طول متر باشد، واحد اندازه گیری محیط، متر می باشد.

کف کلاس چهارم مدرسه‌ای به شکل مربع و به ضلع ۵ متر است. اگر با سرامیک‌هایی به ضلع ۵۰ سانتی متر پوشیده شده باشد، کف این کلاس چند سرامیک دارد؟ ✓


یک کاشی $۵۰ \times ۵۰ = ۲۵۰۰$ $۲۵۰۰ \div ۲۵۰۰ = ۱۰۰$ $۲۵۰۰ \div ۵۰ = ۵۰$ کف کلاس

$۲۵ \times ۱۰۰ = ۲۵۰۰ \text{ cm}$

مساحت شکل‌های زیر را به دست آورید. ✓



$۵۰ \times ۱۰ = ۵۰۰ \text{ cm}$



$۰.۷ \times ۱۰۰ = ۷۰ \text{ cm}$

$۲۰ \times ۷۰ = ۱۴۰۰ \text{ cm}$

در اتاقی که به شکل مستطیل است، فرش پهن کردیم که از لبه‌های فرش تا دیوارها به اندازه‌ی ۳۰ سانتی متر فاصله دارد. اگر طول اتاق ۳/۵ متر و عرض آن ۲ متر باشد، مساحت فرش چند سانتی متر مربع است؟ ✓

① $۳.۵ \times ۲ = ۷.۰ \text{ متر}$

$۷ \times ۱۰۰ = ۷۰۰ \text{ cm}$

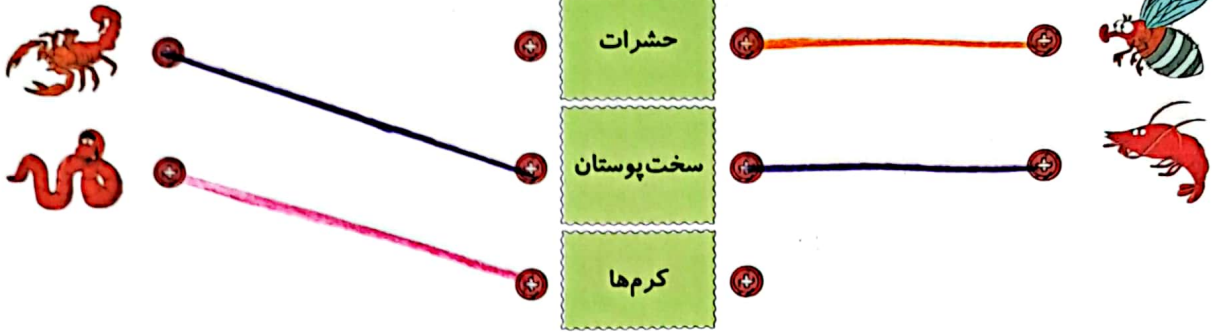
$۷۰۰ - ۳۰ = ۶۷۰ \text{ cm}$

$\frac{۶۷۰ \text{ cm}}{\text{فرش}}$



علوم

۱ موارد مرتبط را به هم وصل کنید. ✓



۲ موارد مرتبط را به هم وصل کنید. ✓

- دارای بدنی نرم و بدون اسکلت هستند، تنفس آن‌ها به صورت پوستی است. سخت پوستان
- بدنی ۲ قسمتی دارند و دارای ۸ پای بند بند هستند. حشرات
- اسکلت سخت خارجی دارند، بدن دو قسمتی دارند و معمولاً بیش از ۸ پا دارند. کرم‌ها
- بدنی بند بند و سه قسمتی دارند. عنکبوتیان

۳ جدول زیر را کامل کنید. ✓

ردیف	جانور	گروه کرم‌ها
۱	کرم کدو	کرم پهن
۲	کرم آبگاریس	کرم لوله‌ای
۳	کرم خاکی	کرم حلقوی

فارسی

۱ با توجه به واژه‌های داده شده، کلمه‌ی جدید بسازید و معنای آن‌ها را بنویسید. ✓

اجوی - باب - نویس - بین - زای

نویس	+ نده	نویسنده	یعنی: شخصی که چیزی را می‌نویسد.
ران	+ نده	راننده	یعنی: شخصی که چیزی را می‌راند.
فروش	+ نده	فروشنده	یعنی: شخصی که چیزی را می‌فروشد.
باب	+ نده	بابنده	یعنی: شخصی که چیزی را پیدا کرده است.
بین	+ نده	بیننده	یعنی: شخصی که چیزی را می‌بیند.
جوی	+ نده	جوینده	یعنی: شخصی که در حال پیدا کردن چیزی است.

نشانه‌های نگارشی مناسب را در جاهای خالی قرار دهید. (۱۰۰۰) ✓

معلم گفت (۱) امروز می‌خواهم زیباترین نقاشی خدا را نشانتان بدهم (۲) چشم‌هایتان را ببندید (۳) (۴)

داستان زیر را مرتب کنید، سپس جمله‌ها را دوباره خوانده و در آخر برای این داستان نام مناسب بنویسید. ✓

نام داستان کشاورز زحمت‌کش

۱ حتی مترسک مزرعه هم به او کمک کرد و پرنده‌ها را فراری داد تا گندم‌ها را نخورند.

۲ نانوا، نان را از تنور بیرون آورد. گوشه‌ی نان پخته بود. پسر بچه‌ای نان را خرید و گوشه‌اش را کند و روی دیوار گذاشت.

۳ کشاورز روزها زحمت کشید، زمینش را شخم زد و گندم کاشت. به زمینش آب داد.

۴ پسر بچه خوشحال شد و با خود گفت: «حالا جوجه کلاغ‌ها هم سیر هستند و با نان بی‌گوشه به خانه رفت.»

۵ حالا گندم‌ها رسیدند. آرد شدند. خمیر شدند. بعد هم نان شدند.

۶ کلاغ که دنبال غذا بود، پایین پرید و گوشه‌ی نان را از روی دیوار به نوک گرفت و برای جوجه‌هایش برد.

کلمات هم‌معنی را هم‌رنگ کنید. ✓

تصویر ✓	شک ✓	نشانی ✓	اضافه کن ✓	یزدان ✓	نادان ✓	احتیاج ✓
فناوری ✓	معرفت ✓	مشغول ✓	نیاز ✓	آدرس ✓	فزای ✓	بیشرفت علمی ✓
عکس ✓	آگاهی ✓	گمان ✓	جهل ✓	سرگرم ✓	خدا ✓	

مطالعات اجتماعی

جاهای خالی را با کلمات مناسب کامل کنید. ✓

الف) ماه اسفند بیست و نه روز دارد.

ب) تقویم روزگار و هفته‌گاری سال را نشان می‌دهند.

پ) معمولاً روزهای تعطیل هفته در تقویم با رنگ قرمز نشان داده می‌شود.

ت) یک سال ۱۲ ماه دارد.



- درستی و نادرستی هر عبارت را مشخص کنید.
- (الف) روزهای هفته و ماه‌های سال همیشه به طور منظم پشت سر هم می‌آیند.
- (ب) در روز جمعه فقط مدارس تعطیل هستند.
- (پ) ماه‌های فصل پاییز سی و یک روز دارند.
- (ت) تقویم، قوانین و مقررات‌های کشور را نشان می‌دهد.

کدام یک از ماه‌های زیر سی روز دارد؟

- (۱) فروردین (۲) مهر (۳) شهریور (۴) خرداد

هدیه‌های آسمان - قرآن

چند نعمت پروردگار مهربان که در طبیعت وجود دارد را نام ببرید. (سه مورد)

۱ حیوانات ۲ درختان ۳ آب جاری رودخانه

چند مورد از کارهایی که باعث می‌شود شکرگزار خداوند شویم را نام ببرید.

اجتناب بیداری و مادر، امامتداری، نماز قرآن خواندن

با توجه به پیام قرآنی «فَلْيَنْظُرِ الْإِنْسَانُ إِلَى طَعَامِهِ» چرا انسان باید به غذایش دقت کند؟

تا شکرگزار نعمت‌های خدا باشد. مانند: میوه‌ها

♥ I LOVE YOU ♥

- ◀ به کارگیری علائم نگارشی مناسب در جمله
- ◀ آشنایی با ویژگی‌های ظاهری تقویم
- ◀ آشنایی با تعداد روزهای هر ماه
- ◀ شکرگزاری از خدا
- ◀ ترجمه‌ی عبارات قرآنی

- ◀ مفهوم محیط و مساحت
- ◀ محاسبه‌ی محیط و مساحت
- ◀ شناخت مهره‌داران و بی‌مهرگان
- ◀ شناخت بندپایان و عنکبوتیان و سخت پوستان
- ◀ شناخت نرم‌تنان و کرم‌ها
- ◀ شناسایی کلمات غیرساده‌ی دو بخشی

شاخص‌ها

- خیلی خوب
- خوب
- قابل قبول
- نیاز به تلاش بیشتر

