



ارمغان هفته چهارم دبستان

شماره‌ی
۲۳

نام و نام خانوادگی: تاریخ: نام آموزگار:

ریاضی < فصل ۵: عدد مخلوط و عدد اعشاری - ارزش مکانی اعداد اعشاری < مطالعات اجتماعی < درس ۱۸: پوشش گیاهی و زندگی جانوری در ایران ۱
علوم < درس ۹: بدن ما ۱
فارسی < درس ۱۵: شیر و موش ۱
قرآن < درس ۱۳: جلسه‌ی اول
هدیه‌های آسمان < درس ۱۷: آقای بهاری، خانم بهاری ۳

ریاضی

۱) عددهای زیر را در جدول ارزش مکانی قرار دهید و با حروف بنویسید.

دهم	یکان
۴	۱

الف) ۱۴ تا ۰/۱ = ۱۱۴ یک و چهاردهم

دهم	یکان
۳	۷

ب) ۷۳ تا ۰/۱ = ۷۱۳ هفتاد و سه دهم

۲) قسمت‌های درست را با رنگ سبز و نادرست را با رنگ قرمز رنگ‌آمیزی کنید.

۲/۴ یعنی ۴ تا ۱/۱ - $۳/۵ + ۲/۷ = ۵/۱۲$ - هر یک واحد را می‌توان به ۱ تا ۰/۱ تقسیم کرد. - ۱۸ تا ۰/۱ می‌شود ۱/۸

۳) مقدار تقریبی هریک از عبارت‌های زیر را به دست آورید.

الف) $۴/۹ + ۳/۵ - ۲/۸ = ۵۱۶$ تقریباً ۶

ب) $۱۳/۹ - ۸/۲ - ۳/۴ = ۲۱۳$ تقریباً ۲

۴) حاصل عبارت‌های زیر را به دست آورید.

الف) $۱۱/۷ + ۱۳/۲ - ۴/۸ = ۲۰۱۱$


ب) $۱۴/۸ - ۸/۱ + ۳/۶ = ۱۰۱۳$

۵) ظرفیت باک اتومبیلی ۳۵ لیتر است. اگر ۱۲/۳ لیتر بنزین درون آن بریزیم، باک پر می‌شود. از قبل چند لیتر بنزین در باک وجود داشته است؟

$۳۵ - ۱۲/۳ = ۲۲/۷$

از قبل ۲۲/۷ لیتر بنزین

در باک وجود دارد.



علوم

جاهای خالی را کامل کنید.

(الف) کوچک‌ترین بخش سازنده بدن انسان، سلول است.

(ب) سلول‌ها با استفاده از *پروتئین* زیاد می‌شوند.

(پ) سلول ماهیچه وظیفه‌ی *حرکت بدن* و سلول روده *غذای را هضم* را به عهده دارند.

(ت) برای دیدن سلول از *میکروسکوپ* استفاده می‌شود که دارای ذره بین بسیار قوی است.

(ث) اندازه‌ی بدن موجودات زنده به *انرژی* بستگی دارد.

موارد مرتبط را به هم وصل کنید.



هر یک از سلول‌های بدن موجودات شکل معینی دارند. شکل سلول‌ها متناسب با کدام مورد است؟


(۱) نوع موجود زنده (۲) نوع کار (۳) میزان فعالیت (۴) نوع تقسیم سلولی


بخش‌های گوناگون سلول را نام ببرید.

پروتئین
پروتئین
پروتئین

فارسی

روی هر گیلان کلمه هم‌معنی کلمه را بنویسید.





۲ کلمه ی مناسب را برای جای خالی انتخاب کنید.

الف) شیر گفت: ای موش لوس یک (قاضی - غازی)
 ب) پسر سال برای جواب آماده شد. (خورد - خرد)
 پ) این حرف از باطل است. (اساس - اثاث)

۳ مخالف (متضاد) هر واژه را بنویسید.

خفته \neq بیدار گریه \neq خنده خواب \neq بیداری رهایی \neq اسارت

۴ برای واژه های مفرد زیر، جمع بنویسید.

بیچاره \leftarrow جمع بیچارگان حال \leftarrow جمع احوال

۵ زیر واژه هایی که از نظر املايي نادرست نوشته شده اند، خط بکش و درست هر یک را بنویس.

شیراز از این رابع رحم حاصل کرد - هول و هوش - شاه وهوش - در حراس افتاد
 حزن سوز - جام لاله - حاصل - حول و حوش - حراس

مطالعات اجتماعی

۱ ویژگی های زیر را طبق تصویر کامل کنید.

الف) این جانور در ناحیه ی آب و هوایی گرم و مرطوب زندگی می کند.
 ب) مژه های بلند و پلک های شتر از چشم های او در برابر طوفان شن و بادهای شدید محافظت می کنند.
 پ) کوهان عضوی است که در آن غذا و آب را ذخیره می کند.
 ت) دهان شتر به گونه ای است که می تواند لبها را کنار دهن را ببرد و بخورد.
 ث) پاهای شتر پهن / آفریقه شده اند به همین دلیل این حیوان در زمین های نرم و گلی راه رفتن آسانی دارد.
 ج) چه اطلاعات دیگری درباره ی شتر دارید؟ آن ها را بنویسید. (به همراه اسنور آهوز)




۲ به سوالات زیر پاسخ دهید.

الف) چرا در قله های بلند کوه ها، گیاهان نمی رویند؟
 ب) چند نمونه از جانوران ناحیه ی معتدل خزری را نام ببرید.

این سؤال استرس خیز است حذف شود

۳



کدام یک از گیاهان زیر در ناحیه‌ی معتدل خزری می‌روید؟

(۴) نخل

(۳) راش ✓

(۲) گز

(۱) بلوط

کدام گیاه در آب و هوای گرم و خشک نمی‌روید؟

(۴) گز

(۳) پسته‌ی وحشی

(۲) بلوط ✓

(۱) نخل

هدیه‌های آسمان - قرآن

جاهای خالی را با کلمات مناسب پر کنید.

الف) پیامبر (ص) فرمود: به کسی که از او می‌آموزید، احترام بگذارید.

ب) امام زین‌العابدین (ع) می‌فرماید: شاگرد نباید صدایش را در برابر معلم کند.

بهترین راه تشکر از معلم چیست؟

این سوال جزو سوال

عبارت قرآنی زیر را بخوانید و معنای آن را بنویسید.

دَأْمَنُ يُجِيبُ الْمُضْطَرَّ إِذَا دَعَاهُ وَ يَكْشِفُ السُّوءَ

کجا پیدا کن معنی آن که هرگاه دعا کند به اجابت می‌رسد

شاخص‌ها			
تلاش	تلاش	تلاش	تلاش
			جمع کلمات مفرد
			املاي درست کلمات
			ویژگی شتر و سازگاری با ناحیه گرم و خشک
			احترام و تشکر از معلم
			ویژگی نواحی آب و هوایی
			آشنایی با گیاهان مخصوص هر قسمت از نواحی آب و هوایی
			ترجمه‌ی عبارات قرآنی

شاخص‌ها			
تلاش	تلاش	تلاش	تلاش
			ارزش مکانی رقم‌ها در اعداد اعشاری
			جمع و تفریق اعداد اعشاری
			سلول و اجزای تشکیل دهنده‌ی آن
			انواع سلول و تقسیم سلولی
			کلمات هم معنی
			درک درست کلمات هم‌آوا
			مخالف کلمات