

ارمغان هفته - چهارم دبستان

شماره‌ی

۲۴

نام و نام خانوادگی: امیرمحمد مصباحی لویجی تاریخ: نام آموزگار: خانم طاهره ابدولانی

ریاضی < فصل ۶ شکل‌های هندسی: عمود، موازی مطالعات اجتماعی < درس ۱۸: پوشش گیاهی و زندگی جانوری در ایران (۲)

علوم < درس ۱۰: بدن ما (۲) هدیه‌های آسمان < درس ۱۸: چشمان همیشه باز (۱)

فارسی < درس ۱۵: شیر و موش (۲) قرآن < درس ۱۳: جلسه‌ی دوم و سوم

ریاضی

جاهای خالی را با استفاده از عدد یا کلمه‌ی داخل پرانتز کامل کنید.

الف) اگر خطی به طور عمود، دو خط موازی را قطع کند، زاویه‌ی مساوی در محل تقاطع ایجاد می‌شود. (۴ - ۸)

ب) از یک نقطه خارج از یک خط یک خط عمود می‌توان بر آن خط رسم کرد. (بی‌نهایت - یک)

پ) هر گاه دو خط باهم زاویه‌ی راست بسازند، آن دو خط برهم نمی‌خورند. (موازی‌اند - عمودند)

ت) دو خط عمود بر یک خط باهم موازی هستند. (موازی - عمود)

درستی و نادرستی هر عبارت را مشخص کنید.

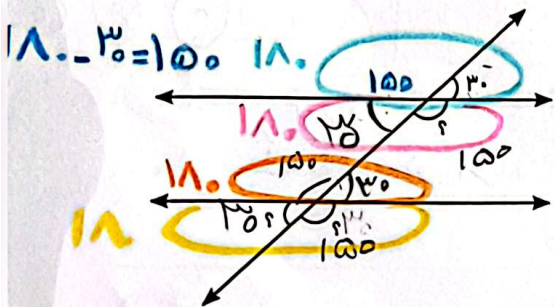
الف) از پرگار برای تشخیص خطوط عمود استفاده می‌کنیم.

ب) خطی که بر یک خط عمود باشد، با خط‌های موازی با آن خط موازی است.

پ) فاصله‌ی دو خط موازی، در تمام نقاط از یکدیگر به یک اندازه هستند.

ت) دو خط موازی، در یک نقطه یکدیگر را قطع می‌کنند.

اندازه‌ی زاویه‌های خواسته شده را به دست آورید.



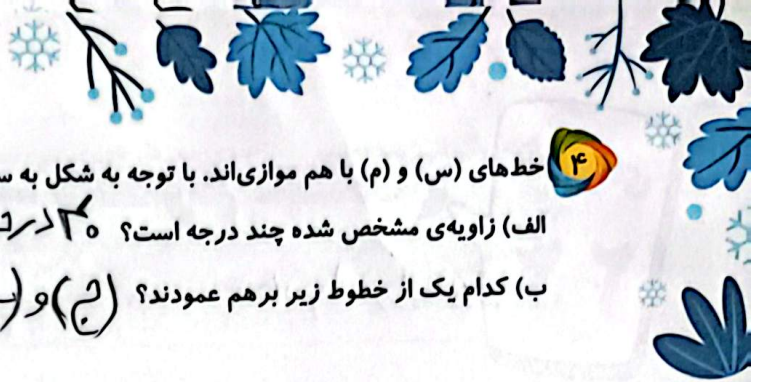
$$180^\circ - 30^\circ = 150^\circ$$

$$30^\circ + 90^\circ = 120^\circ$$

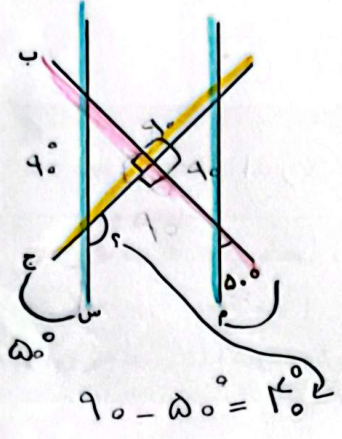
$$180^\circ - 30^\circ = 150^\circ$$

$$180^\circ - 120^\circ = 60^\circ$$



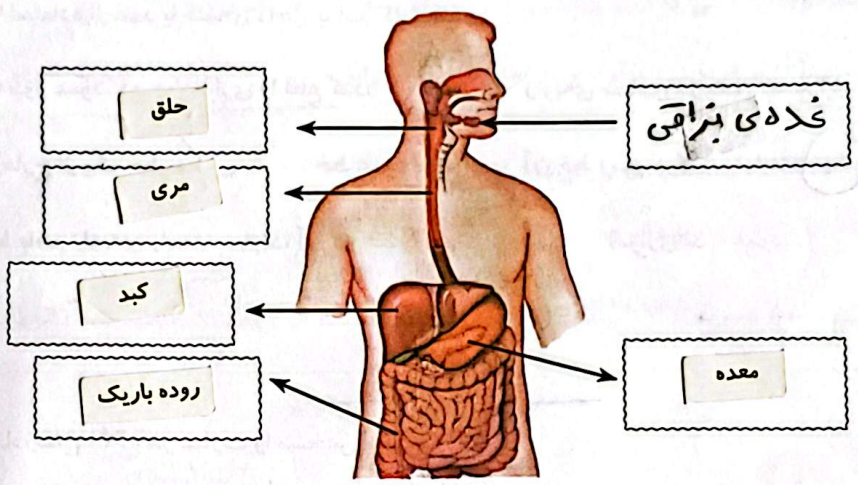


خط‌های (س) و (م) با هم موازی‌اند. با توجه به شکل به سؤالات پاسخ دهید.
 الف) زاویه‌ی مشخص شده چند درجه است؟ 30° درجه
 ب) کدام یک از خطوط زیر بر هم عمودند؟ (ج) و (ب)

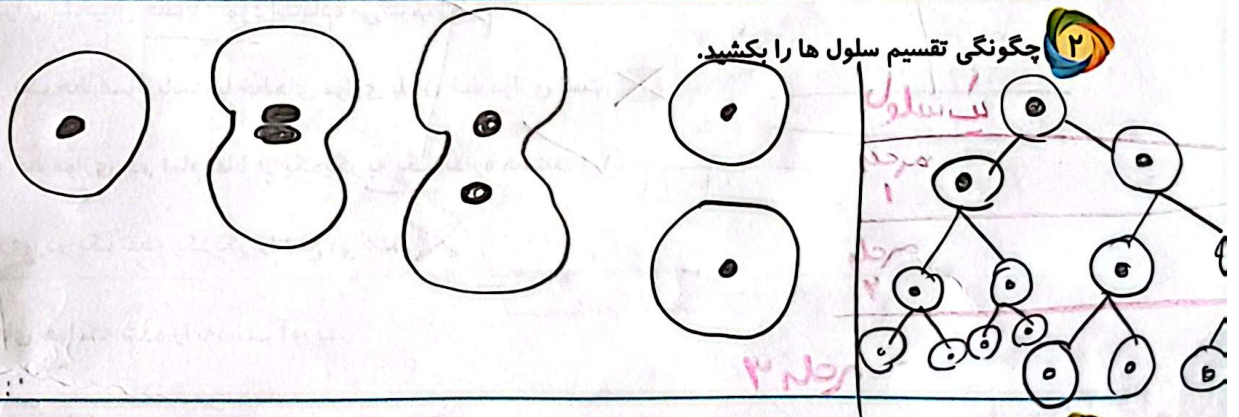


علوم

برچسب‌ها را در جای مناسب قرار دهید.



چگونگی تقسیم سلول‌ها را بکشید.



وظیفه‌ی قلب در بدن انسان چیست؟

مانند یک تلمبه خون را با فشار در بدن رگ‌هایی می‌فرستد.

سیاهرگ‌ها در کدام قسمت بدن هستند و وظیفه‌ی آن‌ها چیست؟

در نزدیکی سطح بدن و زیر پوست هستند.
 وظیفه: رگ‌هایی هستند که خون را از اندام‌ها به قلب می‌گردانند.



فارسی

۱ در متن زیر کلمات جمع را پیدا کنید و مفرد آن‌ها را در زیر هر کلمه بنویسید.

بچه‌ها با اشتیاق به سکه‌ها، ظروف قدیمی، مجسمه‌ها و وسایلی که کاوشگران و باستان‌شناسان به دست آورده بودند، نگاه می‌کردند.

بچه - سکه - ظرف - مجسمه - وسایل - کاوشگران - باستان‌شناسان - نگاه می‌کرد

۲ جملات زیر را کامل کنید و نوع جمله را بنویسید.

(الف) آرش با گام‌های بلند، از کوه بالا می‌رفت. (خبری)

(ب) بیدار دلاوران. (دستوری) (امری)

(پ) این، چرا کرم؟ چرا دادم پیام؟ (پرسشی)

با دُم شیر بازی می‌کنی

۳ معنی هر بیت را بنویسید. شکرگفت: ای موش لوس بی ارزش

با دُم شیر می‌کنی بازی

(الف) گفت: ای موش لوس یک غازی

در همان حول و حوش دام نهاد یک صیادی برای شکار کُرگ در همان اطراف

(ب) از پی صید گرگ یک صیاد

رام گذاشت

۴ شعر «شیر و موش» از کدام شاعر است؟

(۴) فردوسی

(۳) بروج میرزا

(۲) پروین اعتصامی

(۱) سعدی

مطالعات اجتماعی

۱ هریک از تصاویر زیر مربوط به کدام ناحیه‌ی آب و هوایی ایران است؟



جنگل های انبوه راش و افرا

جنگل های وسیع بلوط و پسته کوهی

معتدل و مرطوب خزرایی

معتدل و نیمه خشک کوهستانی

۲ به سوالات زیر پاسخ دهید.

(الف) چرا در قله‌های بلند کوه‌ها، گیاهان نمی‌رویند؟

پم دلیل سرما و ریخ بندان گیاهان نمی‌توانند برویند

(ب) چند نمونه از جانوران ناحیه‌ی معتدل خزری را نام ببرید.

خرس - لاک‌پشته - گراز - مرغ - قورباغه

برچسب هریک از مکان‌های زیر را روی نقشه قرار دهید.



دریای خزر

رشته کوه زاگرس

دشت کویر

دشت لوت

خلیج فارس

هدیه‌های آسمان - قرآن

دوربین و فرشتگان خدا را با هم مقایسه کنید.



مژستگان خدا
تمام اتفاقات را ثبت می‌کنند.

دوربین
اتفاقات را که در بعضی جاها می‌افتد نمی‌توانند ثبت کنند.

حافظی نامحدودی برای فیلم برداری دارند.

حافظی محدودی برای فیلم برداری دارند.

با توجه به معنای صحیح واژگان، به هم وصل کنید.



ارمغان هفته - چهارم دبستان

نام و نام خانوادگی: تاریخ: نام آموزگار: خانم طاهرزادگان

مطالعات اجتماعی < نروز

ریاضی < نروز

هدیه‌های آسمان < نروز

علوم < نروز

قرآن < نروز

فارسی < نروز



ریاضی

تعداد تخم مرغ‌های رنگی در شکل دهم چند تا است؟



پدر بزرگ سعید ۱۲ نوه دارد. او می‌خواهد در روز اول عید نوروز به هر کدام از نوه‌های خود ۱۵۰۰۰ تومان عیدی بدهد. او باید


$$\begin{array}{r} 15000 \\ \times 12 \\ \hline 30000 \\ 180000 \\ \hline 180000 \end{array}$$

$$\begin{array}{r} 15 \\ \times 12 \\ \hline 30 \\ 180 \\ \hline 180 \end{array}$$

روی هم چند تومان برای عیدی دادن آماده کند؟

روی هم ۱۸۰ هزار تومان باید برای عیدی آماده کند.

گل‌های برابر را هم رنگ کنید.



مادر درسا ۵ متر روبان خرید و سفره‌ی هفت‌سین را با ۳ تکه روبان ۰/۳ متری و یک تکه روبان ۰/۴ متری تزئین کرد. چند

$$5 - 0/3 - 0/4 = 3/7 \text{ متر از روبان باقی مانده است.}$$

علوم

عبارات مرتبط را به هم وصل کنید.



برچسب شکل مدار موازی و مدار متوالی را در جای خود قرار دهید.




با توجه به ۲ مدار بالا به سؤالات زیر پاسخ دهید.

در کدام مدار با افزودن لامپ‌ها، روشنایی آن‌ها کم‌تر نمی‌شود؟

مدار موازی

در کدام مدار اگر یکی از لامپ‌ها بسوزد، بقیه‌ی لامپ‌ها خاموش می‌شوند؟

مدار متوالی



درستی و نادرستی هر عبارت را مشخص کنید.

الف) مهم‌ترین اندام دستگاه تنفسی شش‌ها هستند.

ب) ورود هوا به دستگاه تنفسی را دم و خروج آن را بازدم می‌گویند.

پ) وجود مو داخل بینی تأثیری در هوای ورودی به آن ندارد.

ت) ورود هوا ابتدا به دهان و بینی به علت عدم ورود مستقیم هوای سرد به دستگاه تنفسی می‌باشد.

ث) نایزک‌ها از کیسه‌های هوایی تشکیل شده‌اند.

ج) انقباض نایزک کیسه هوایی است.

فارسی

* متن زیر را با دقت بخوانید و به سوالات پاسخ دهید.

مردی در بازارچه‌ی شهر حجره‌ای داشت و پارچه می‌فروخت. شاگرد او پسر خوب و مؤدبی بود ولیکن کمی خجالتی بود. مرد تاجر همسری کدبانو داشت که دستپخت خوبی داشت و آش‌های خوش‌مزه‌ی او دهان هر کسی را آب می‌انداخت. روزی مرد بیمار شد و نتوانست به دکانش برود. شاگرد در دکان را باز کرده بود و جلوی آن را آب و جارو کرده بود ولی هرچه منتظر ماند از تاجر خبری نشد.

قبل از ظهر به او خبر رسید که حال تاجر خوب نیست و باید دنبال دکتر برود. پسرک در دکان را بست و دنبال دکتر رفت. دکتر به منزل تاجر رفت و او را معاینه کرد و برایش دارو نوشت.

پسر بیرون رفت و دارو را خرید و وقتی به خانه برگشت، دیگر ظهر شده بود. پسرک خواست دارو را بدهد و برود، ولی همسر تاجر خیلی اصرار کرد و او را برای ناهار به خانه آمد. همسر تاجر برای ناهار آش پخته بود سفره را انداخته و کاسه‌های آش را گذاشتند. تاجر برای شستن دست‌هایش به حیاط زیبای خانه رفت و همسرش به آشپزخانه بازگشت تا قاشق‌ها را بیاورد.

پسرک خیلی خجالت می‌کشید و فکر کرد تا بهانه‌ای بیاورد و ناهار را آن‌جا نخورد. فکر کرد بهتر است بگوید دندان‌ش درد می‌کند.

پسرک دستش را جلوی دهانش گذاشت و در آن هنگام تاجر به اتاق برگشت و تا او را دید، گفت: «دهانت سوخت؟ حالا چرا انقدر

عجله کردی؟ صبر می‌کردی تا آش سرد شود آن وقت می‌خوردی،

زن تاجر که با قاشق‌ها از راه رسیده بود به تاجر گفت: «این چه حرفی است که می‌زنی؟ من که تازه قاشق‌ها را آورده‌ام. او که آش

نخورده که دهانش بسوزد؟» داستان برگرفته شده از مثل‌ها و مثل‌ها،

۱ این داستان بیان‌کننده‌ی کدام ضرب‌المثل است؟

آش نخورده، دهن بسوزد.

۲ دو جمله از داستان انتخاب کنید و نمودار آن را بکشید.

مردی در بازارچه‌ی شهر حجره‌ای داشت.

شاگرد او پسر خوب و مؤدبی بود.

۳ یک جمله‌ی خبری و یک جمله‌ی پرسشی را انتخاب کنید و بنویسید.

جمله‌ی خبری: مرد تاجر همسری کدبانو داشت که دستپخت خوبی داشت.

جمله‌ی پرسشی: دهانت سوخت؟

۴ چرا مرد تاجر فکر کرد پسرک آش نخورده است؟ چون پسرک خجالت می‌کشید تا نامی مرد تاجر را بخورد.

می‌خواست بهانه بیاورد که دندان‌ش درد می‌کند. دستش را جلوی دهانش گذاشت.

تاجر هم فکر کرد پسرک آش نخورده و دهانش

۳

مطالعات اجتماعی

۱) فرزندم در ایام نوروز دوست دارید به کدام یک از شهرهای ایران مسافرت کنید؟ شمال (نوشهر)

الف) سوغاتی‌های این شهر را بنویسید.

کلوچه - کونک - لباس‌های شمالی - زیتون - عسل - صنایع دستی و ...
ب) این شهر در کدام ناحیه‌ی آب و هوایی قرار دارد؟

هتکدل - مهر طویب - خنری

پ) آیا در این شهر آثار باستانی و تاریخی قرار دارد؟

۱) قلعه‌ی ملک کومرشت - در روستای فونش آب و هوای کجهر نوشهر - دریای خفرتنی در شمال نوشهر
موزه‌ی کندلوس - در روستای کندلوس نوشهر

هدیه‌های آسمان - قرآن

۱) روز دوم فروردین روز جهانی آب است. از قرآن کریم آیه‌ای در این باره پیدا کنید و با معنی آن را بنویسید.

((وَجَعَلْنَا مِنَ الْمَاءِ كُلَّ شَيْءٍ حَيٍّ)) ((و هر چیزی زنده‌ای را از آب قرار دادیم))

۲) معنای عبارت قرآنی زیر را بنویسید.

يَا مُقَلَّبَ الْقُلُوبِ وَ الْأَبْصَارِ يَا مُدَبِّرَ اللَّيْلِ وَ النَّهَارِ يَا مُحَوِّلَ الْحَوْلِ وَ الْأَحْوَالِ حَوِّلْ خَالَتَنَا إِلَى أَحْسَنِ الْحَالِ

ای دگرگون کننده‌ی قلب‌ها و دیده‌ها ای تدبیرگر شب‌ها و روزها ای متحول کننده‌ی سال‌ها و حالات‌ها