



نام آموزگار:

نام زیبای من:

۱- مانند نمونه جاهای خالی را کامل کنید.

الف) ۵ تا بسته هزارتایی می شود ۵۰۰۰ .

ب) ۱۷ تا بسته هزارتایی می شود

ج) ۹ یکی، ۶ تا صدتایی، ۵ تا هزارتایی و ۳ تا صد هزارتایی می شود

د) برای خواندن یک عدد باید آن را سه رقم سه رقم از سمت جدا کنیم.

۲- با توجه به عدد مقابل به سوالات زیر پاسخ دهید.

الف) بزرگ ترین رقم این عدد در چه مرتبه ای است؟

ب) مجموع رقم های طبقه میلیون را به دست آورید.

ج) رقم صدگان هزار آن چند است؟

د) عدد را به حروف بنویسید.

ه) دهگان و دهگان هزار را با هم جابه جا کنید و عدد جدید را بنویسید.

۳- الگوهای زیر را ادامه دهید

۳، ۵، ۸،

۱۸۰، ۱۶۵، ۱۵۰،

۴- الگوی زیر را در نظر بگیرید و به سوالات زیر پاسخ دهید.


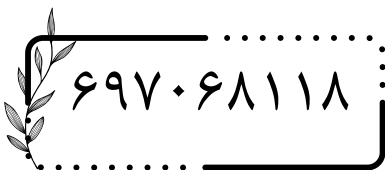
الف) شکل پنجم را رسم کنید.

ب) شکل یازدهم چند پروانه خواهد داشت؟

ج) الگوی بالا را به یک الگوی عددی تبدیل کنید.

د) در شکل سوم، شکل دوم را پیدا کنید و دور آن

خط بکشید.



شکل اول

شکل دوم

شکل سوم


۵- عدد زیر را در داخل جدول ارزش مکانی قرار دهید و گسترده آن را کامل کنید

هزار					
صدگان	دهگان	یکان	صدگان	دهگان	یکان

۵۸۳،۲۰۳

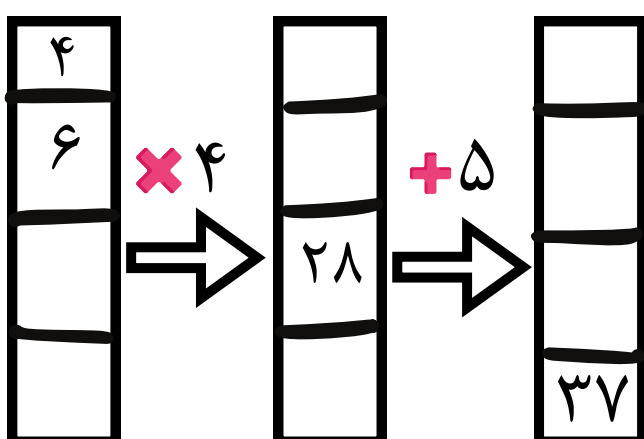
۵۰۰،۰۰۰ + + + +

۶- مریم برای خرید روزانه منزل کالاهای زیر را خریداری کرد؛ به او کمک کنید مجموع فاکتور خود را به دست آورد و آن را به ریال محاسبه کنید.



۳۸،۰۰۰ ۱۲۵،۰۰۰ تومان ۳۵،۰۰۰ تومان

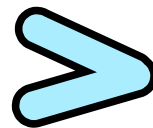
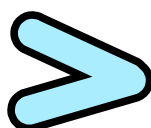
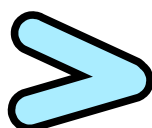
۷- ماشین ورودی- خروجی زیر را کامل کنید و کار ماشین را بنویسید.



هر عددی که وارد این ماشین می شود ابتدا.....

۸- عدد های زیر را از بزرگ به کوچک مرتب کنید.

۱۳۵۵۰۰، ۱۳۳۵۰۰، ۱۰۳۵۵، ۱۳۵۵۰



نظر والدین:

نظر آموزگارم:

نظر خودم:
در حل سوالات چطوری عمل کردم؟

