

Subject:

Year:

Month:

Date:

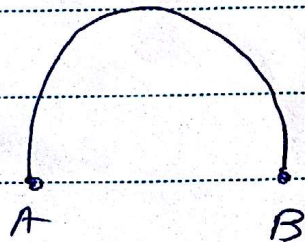
Sa	Su	Mo	Tu	We	Th	Fr
----	----	----	----	----	----	----



متحرکی با سرعت ثابت $\frac{m}{5}$ در حال حرکت است، این متحرک را
از نقطه A به نقطه B می‌برد.

اتومبیلی با سرعت 90 km/h در حال حرکت است، بالغان متحرکی کند را
در مدت زمان لازم تا است ایستادن اتومبیل از نقطه A تا B را
می‌پیماید.

اسپی با سرعت $\frac{m}{5}$ در مدت زمان 10 ثانیه از نقطه A به B می‌رود.



الف) مسافت را بدین جهت است.

ب) تندی اسپ را بدین جهت $(\pi \times 2^3)$.



Subject:

Year:

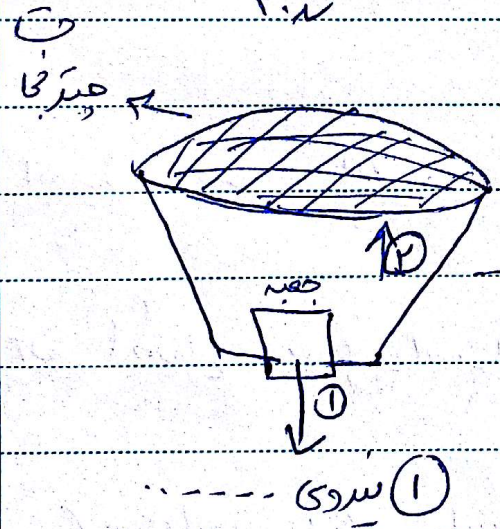
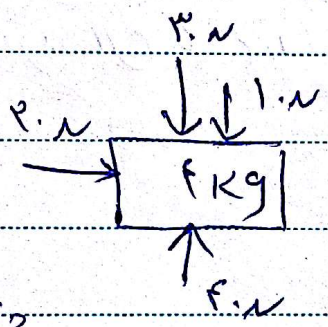

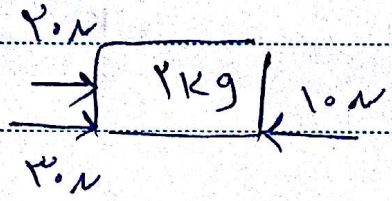
Month:

Date:



Sa Su Mo Tu We Th Fr

در شکل های زیر ستاب حرکت را بنویسید.



نام نیروهای خواسته شده را بنویسید

(۲) نیروی

(۱) نیروی

چه عاملی موجب حرکت قائم یا رومی در دریاچه می بدون موج می شود؟

