


۱۱ کاربرد فنریک نهم

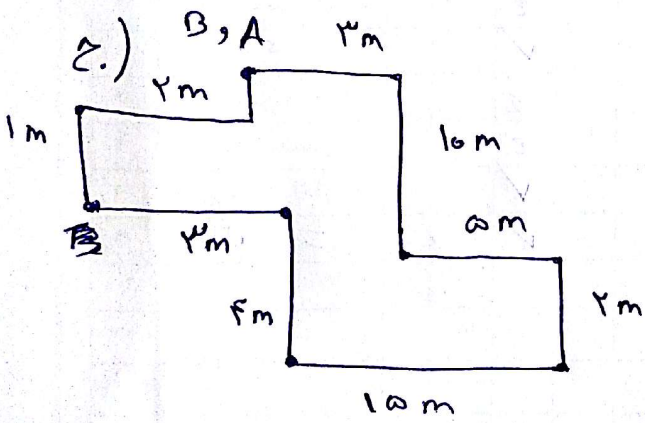
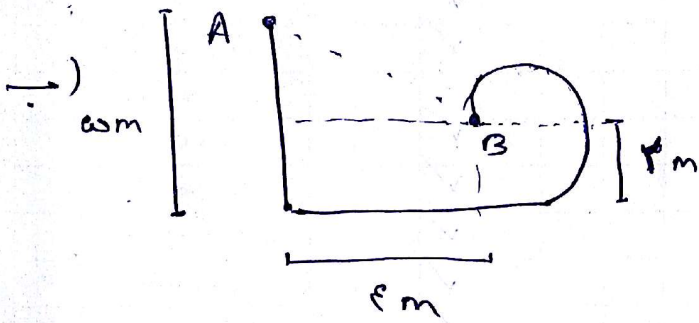
در شکل های زیر مسافت طی شده و جابجایی را محاسبه کنید.

$z1 = 3$

الف)



$z2 = 3$



$z3 = 3$

