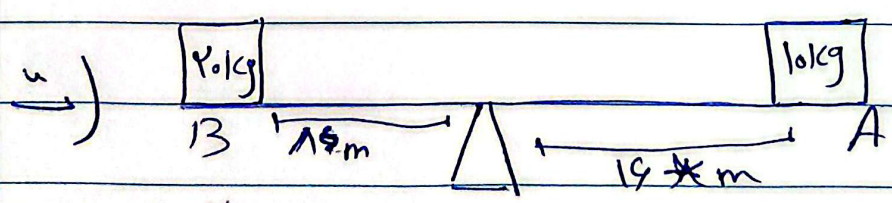


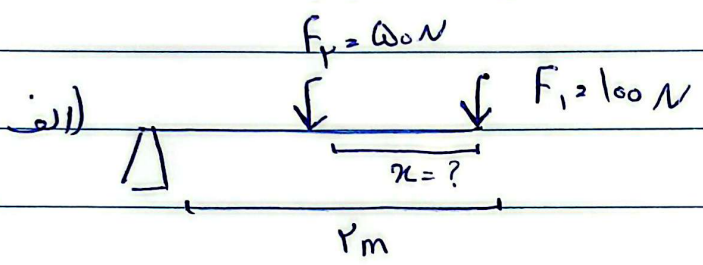


1- دريد اهرم اندر ۲۰۰ نیوتون F_1 نیوتون و $F_2 = ۵۰۰$ نیوتون باشد:

الف) مزینت معادلې جقدر است؟

ب) اندر بازوی محرک ها متر باشد بازوی معادل جقدر است؟

۲- در هرید از شکل های زیر موارد خواص سه نوع اهرم را بنویس



A - استوار
B - استوار =