

Subject: _____

Date _____

ن کاربر فعل ۱۵

ادامدی عبور پرتوهای زیر را رسم کنید.

رغیق

رغیق

عظا

عظا

(الف)

(ب)

عظا

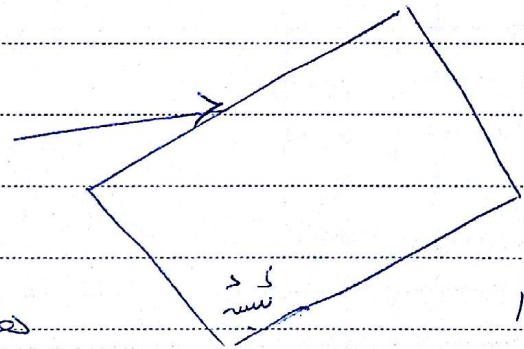
رغیق

عظا

رغیق

(ج)


(د)



هوا

هوا


(الف)



هوا

هوا

(ب)



هوا

هوا

(ج)