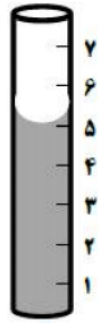


# تقریبات درس فیزیک مهلت ارسال ۲ اردیبهشت ۱۴۰۱

① نام وسیله رو برو چیست؟

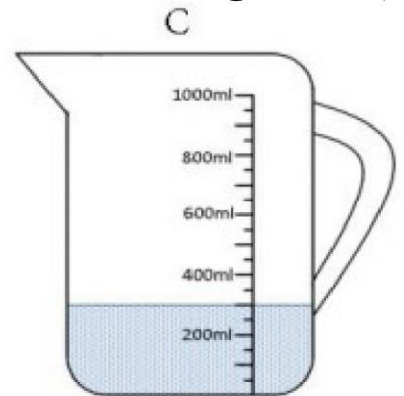
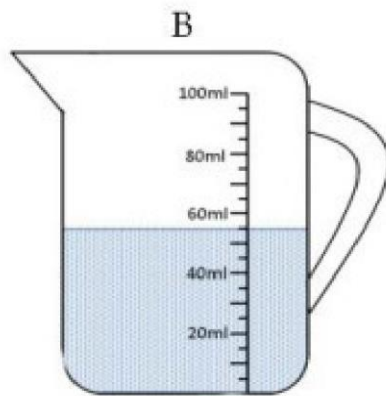
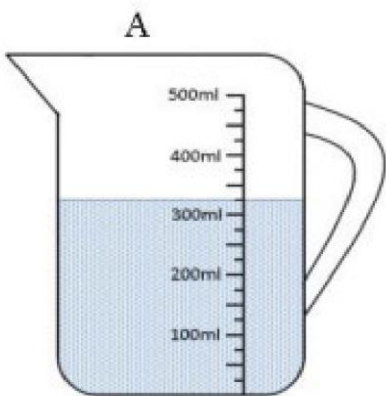


② هدف از ارائه کیا معین برای هر کمیت چیست؟

③ گیاهان بین الطالی (TJ) کمیت های زیر را بنویسید.

طول - حجم - دما - گشتاور - جریان الکتریکی

④ کدام ظرف بیستین وقت را دارد؟



⑤ تبدیل گیاهان زیر را انجام دهید.

الف)  $27g = ?$  ب)  $36nm = ? cm$

ج)  $762m = ? km$  د)  $3 روز = ? ساعت$

۱ ساعت = ۳۶۰۰ ثانیه  
 ۱ cm = 10 mm  
 ۱ kg = ۱۰۰۰ g  
 ۱ Km = ۱۰۰۰ m