



نام و نام خانوادگی: _____
 تاریخ: _____
 موضوع: _____
 هدف: _____

۱- با استفاده از دورنگ جواب‌ها را با چوب‌خط حساب کن.

$9 + 7 =$

$8 + 4 =$


۲- برای تصویر زیر یک جمع بنویس.

.... + =

۳- از ۴۰ تا ۵۹ به ترتیب بنویس.

.....

۴- جمع و تفریق را روی محور نشان بده.



$7 + 3 + 6 =$




$19 - 7 =$

۵- عدد مقابل را در جدول بنویس و برای آن شکل بکش.

یکی	ده تایی

۳۴





نام و نام خانوادگی: _____ تاریخ: _____ موضوع: _____ هدف: _____

۶- علامت مناسب < > بگذار.

$23 \bigcirc 31$	$15 \bigcirc 15$	$68 \bigcirc 14$
$10+10 \bigcirc 30$	$91 \bigcirc 19$	$20+5 \bigcirc 25$

۷- جمع و تفریق‌ها را ذهنی حل کن.


$5+2+3+10 = \dots$	$5+5+5 = \dots$
$60-50 = \dots$	$10+5-5 = \dots$

۸- الگوها را ادامه بده.

$10-20-30-\dots-\dots-\dots-\dots-\dots$
 \curvearrowright
 $+10$

$16-26-36-\dots-\dots-\dots-\dots-\dots$
 \curvearrowright
 $+10$

$10-15-20-\dots-\dots-\dots-\dots-\dots$
 \curvearrowright
 $+5$





نام و نام خانوادگی: _____
تاریخ: _____
موضوع: _____
هدف: _____

1. با این کلمات جمله بساز.

میوه ی ترش :

.....
.....

عید نوروز:


.....
.....

زیبا :

.....
.....

زنگ :

.....
.....





نام و نام خانوادگی

موضوع:

تاریخ

هدف:

2. پنج کلمه بنویس که اول آن بی داشته باشد مثل بی مزه

1.

2.

3.

4.

5.

3. پنج کلمه بنویس که آخر آن خانه داشته باشد. مثل کار خانه

1.

2.

3.

4.

5.





نام و نام خانوادگی

تاریخ

موضوع:

هدف:

4. نقاشی دلخواه راجع به نوروز 1405 به همراه یک داستان کوتاه

