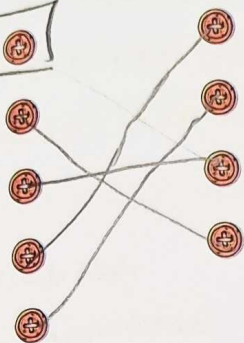


تمرین

۱

موارد مرتبط را به یکدیگر وصل کنید. (یک مورد اضافی است).

مسجد شیخ لطف الله
کتیبه
گنبد
نقشه گردشگری
مسجد جامع عباسی



روی آن مکان‌های دیدنی و آثار تاریخی نشان داده می‌شود.

چهار ایوان در چهار جهت جغرافیایی دارد.

از نشانه‌های معماری اسلامی است.

نوشته‌هایی روی سنگ یا کاشی با آیات قرآن، دعا و ...

۲

درستی و نادرستی هر عبارت را مشخص کنید.

الف: میدان نقش جهان به دستور شاه اسماعیل صفوی ساخته شد.

ب: هم‌زمان با ساخته شدن مسجد شیخ لطف‌الله، معادن سنگ مرمر، اطراف شهر کشف شد.

پ: برخی از نقاشی‌های مینیاتور در داخل کاخ عالی‌قاپو کار استاد رضا عباسی است.

۳

جاهای خالی را با کلمات مناسب کامل کنید.

الف: جمعیت اصفهان حدود دو میلیون نفر است.

ب: شهر اصفهان بعد از تهران و مشهد ... پرجمعیت‌ترین شهر ایران است.

پ: شهر اصفهان در کوهپایه‌های ... قرار دارد.

ت: ساختن مسجد شیخ لطف‌الله حدود ۱۸ سال طول کشید.

با انتخاب گزینه‌ی مناسب به پرسش‌های داده شده پاسخ دهید.

الف: کاربردهای مسجد شیخ لطف‌الله کدام است؟

۱) برگزاری نماز جماعت

۲) تربیت و تدریس شاگردان

۳) پذیرایی از مهمانان و امور کشور

۴) گزینه‌های ۱، ۲ و ۳

ب: برخی کتیبه‌های مسجد امام به قلم کدام استاد می‌باشد؟

۱) میرعماد

۲) علیرضا عباسی

۳) رضا عباسی

۴) شاه‌عباس اول

پ: در سقف مسجد امام در اصفهان از کدام هنر استفاده شده است؟

۱) خط‌های تزئینی

۲) نقاشی مینیاتوری

۳) کتیبه‌های سنگی

۴) گچبری‌های تزئینی

۵ با توجه به سوالات زیر جدول را کامل کنید.

ش	ا	ه	ع	ب	ا	س
من	ف	و	ی	ه		
ع	ا	ل	ی	ق	ا	و

- الف: مسجد شیخ لطف الله به فرمان کدام شاه ساخته شده است؟ (الف) شاه عباس
 ب: اوج شکوفایی شهر اصفهان مربوط به کدام دوره است؟ (ب) صفویه
 پ: شاه عباس از ایوان کدام بنا، چوگان بازی را تماشا می کردند؟ (پ) تاج عالی خان

۶ مهم ترین تفاوت هایی که در ساخت مسجد امام و شیخ لطف الله به کار رفته است را بنویسید. (سه مورد)

کلیتاً مسجد شیخ لطف الله در بنای خودی است در حالی که اکثر مسجد امام ضریح و زوای است و مسجد شیخ لطف الله کوچک است اما مسجد امام بسیار بزرگ است و مسجد شیخ لطف الله مخصوص شاه و خانزادانش بود و مسجد امام مخصوص عموم مردم بود.

۷ به چه دلیل اصفهان به نصف جهان معروف شد؟

اصفهان در دوره صفویه به اوج شکوفایی خود رسید و از حدود ۲۸۹ خانگی بزرگتری در این شهر ۴۹ مکان دارایی ارزشمندی بنام عالی و ۹۱۰۰۰ نفر از این مکان با تکیه و زیارتی به نصف جهان معروف است.

۸ مناره های مسجد امام (مسجد جامع عباسی) چه ویژگی هایی دارند؟

چهار ایوان در چهار جهت جغرافیایی این مسجد من جاشو که در آن ها اذان می گفتند مناره ها حدود ۴۰ متر ارتفاع دارند. پلکان های مارپیچی دارند در بنای مسجد از سنگ مرمر که معادن آن در همان زمان کشف شده بوده هم کار برده شده است.

خودارزیابی

خیلی خوب	خوب	قابل قبول	نیاز به تلاش
<input type="radio"/>	<input type="radio"/>	<input type="radio"/>	<input type="radio"/>
<input type="radio"/>	<input type="radio"/>	<input type="radio"/>	<input type="radio"/>
<input type="radio"/>	<input type="radio"/>	<input type="radio"/>	<input type="radio"/>
<input type="radio"/>	<input type="radio"/>	<input type="radio"/>	<input type="radio"/>

- با موقعیت جغرافیایی شهر اصفهان آشنا هستم.
- مکان های تاریخی و دیدنی شهر اصفهان را می شناسم.
- مشخصات و ویژگی مکان های تاریخی شهر اصفهان را می دانم.
- نقشه ی گردشگری را می شناسم و نحوه ی استفاده از آن را می دانم.



حمایت از هنرمندان

به غیر از شیخ بهایی؛ ملاصدرا، میر داماد، علامه مجلسی، میر عماد، رضا عباسی، علیرضا عباسی و کمال الدین بهزاد از هنرمندان به نام دوره صفویه به حساب می آمدند که وجود چنین بزرگان و دانشمندانی این چنین، به دلیل حمایت صفویان و علان پادشاهان صفوی به علم و هنر بود.

در آمد پادشاهان صفویه از راه مالیات هایی بود که از ولایات می گرفتند. ^{ولایت سرخس - وطن - مدظله} ^{کاه روزان و صنعت کران} سفرنامه چیست؟ بسیاری از جهانگردان، دیده ها و شنیده های خود را از سفرهایشان می نوشتند و گاهی نقاشی می کردند. به این نوشته ها «سفرنامه» می گویند.

اصفهان در سفرنامه ها: شاردن در سفری که به اصفهان داشته از زیبایی ها و آثار باشکوه و مکان های دیدنی آن بسیار تعریف کرده است. مثلاً می نویسد: زیبایی شهر اصفهان در کافه های باشکوه بی شمار، جدول های آب، نهرها و خیابان ها که در دو طرف آراسته به درخت چنار است و ...

همین طور تاورنیه از اصفهان چنین می نویسد، کوچه های اصفهان همه تنگ، کج و اغلب تاریک است. دیوار اصفهان از خاک است و چند برج بسیار بد دارد.

چند تاریخ مهم در دوره صفویه

سال ۹۰۷ هجری: تأسیس سلسله ی صفویه توسط شاه اسماعیل اول

سال ۹۹۶ هجری: آغاز حکومت شاه عباس اول

سال ۱۰۰۶ هجری: انتخاب شهر اصفهان به عنوان پایتخت

سال ۱۰۱۱ هجری: آغاز ساخت بنای مسجد شیخ لطف الله

سال ۱۰۲۰ هجری: آغاز ساخت بنای مسجد امام

سال ۱۰۲۸ هجری: طراحی میدان نقش جهان



تمرین

موارد مرتبط را به یکدیگر وصل کنید. (یک مورد اضافی است.)

شاه عباس اول	●	●	در دوره ی شاه عباس پایتخت نبوده است.
صفویان	●	●	مذهب شیعه را مذهب رسمی اعلام کردند.
تبریز	●	●	مشهورترین پادشاه صفویه است.
اصفهان	●	●	از نقاشان معروف دوره صفویه بود.
کمال الدین بهزاد	●	●	

علوی

۲ درستی ✓ و نادرستی ✗ هر عبارت را مشخص کنید.

الف: صفویان توانستند عثمانی‌ها را در شرق و ازبکان را در غرب شکست دهند. ✗

ب: کالاهای صادراتی در دوره صفویه از راه خشکی و دریا به کشورهای دیگر فرستاده می‌شد. ✓

پ: در اواخر قرن دهم هجری، اوضاع سیاسی و اجتماعی نابسامان بود. ✗

جاهای خالی را با کلمات مناسب کامل کنید.

الف: در قدیم افراد برای آشنایی با شهرهای دیگر یا به قصد زیارت یا تحصیل علوم دینی یا سفر می‌کردند.

ب: شاهان صفوی زیادتی را در کشور به ملک شخصی خود درآورده بودند.

پ: حاکمان صفویه به ویژه سلطان حسین از هنرمندان، صنعتگران و دانشمندان حمایت می‌کردند.

۴ با انتخاب گزینه‌ی مناسب به پرسش‌های داده شده پاسخ دهید.

الف: کدام یک از دانشمندان و هنرمندان زیر در دوره صفویه زندگی نمی‌کرده است؟

- ۱) کمال‌الدین بهزاد
- ۲) علامه مجلسی
- ۳) شیخ بهایی
- ۴) کمال‌الملک ✓

ب: یکی از راه‌های کسب درآمد و ثروت زیاد در دوره صفویه چه بود؟

- ۱) مالیات
- ۲) هنر
- ۳) تجارت ✓
- ۴) صنعت

پ: معایب شهر اصفهان در کدام سفرنامه نوشته شده است؟

- ۱) تاورنیه ✓
- ۲) شاردن
- ۳) ناصر خسرو
- ۴) مارکوپولو

۵ موارد زیر را به‌طور تقریبی با علامت‌های داده شده روی خط زمان مشخص کنید.

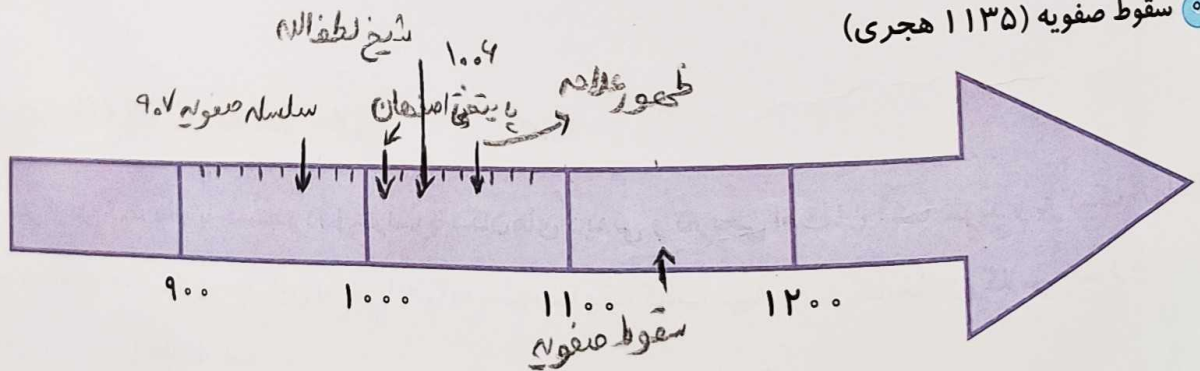
✗ تأسیس سلسله صفویه (۹۰۷ هجری)

⊕ انتخاب اصفهان به پایتختی (۱۰۰۶ هجری)

* ساخت بنای مسجد شیخ لطف‌الله (۱۰۱۱ هجری)

✓ ظهور علامه مجلسی (۱۰۳۸ هجری)

○ سقوط صفویه (۱۱۳۵ هجری)



۶ نام سه شهر که در زمان صفویه پایتخت شدند را به ترتیب بنویسید.

تبریز - قزوین - اصفهان

۷ دلایل گسترش هنر و معماری در دوره صفویه را نام ببرید.
 حکومت قدرتمند و بسیار جاه طلب - رونق تجارت - برقراری امنیت در راهها و کوهها
 حمایت از هنرمندان - صنعتگران - دانشمندان

۸ کالاهای صادراتی مهم در دوران صفویه چه بود؟
 ابریشم - پارچه های زیربافت - شکرهای قیصر - خشکبار

۹ سفرنامه چیست؟ نام دو سفرنامه ای که در آن از شهر اصفهان بیان شده است را بنویسید.
 بسیاری از جهانگردان دیوه ها و سندهای خود را از سفرهایشان در اصفهان
 و گاهی نقاشی می کردند. این نوشته ها سفرنامه های خواننده
 مسافران - ساورینده

خودارزیابی

نیاز به بازنگری	قابل قبول	خوب	خیلی خوب
<input type="radio"/>	<input type="radio"/>	<input type="radio"/>	<input type="radio"/>
<input type="radio"/>	<input type="radio"/>	<input type="radio"/>	<input type="radio"/>
<input type="radio"/>	<input type="radio"/>	<input type="radio"/>	<input type="radio"/>
<input type="radio"/>	<input type="radio"/>	<input type="radio"/>	<input type="radio"/>

- آغاز تشکیل حکومت صفویه و چگونگی تشکیل آن را می دانم.
- با دلایل گسترش هنر و معماری در دوره صفویه آشنا هستم.
- نام کالاهای صادراتی در دوره صفویه را می دانم.
- با تعریف سفرنامه و سفرنامه هایی که درباره اصفهان مطالبی نوشته اند، آشنایی دارم و می شناسم.

فعالیت عملکردی

با پرسش از بزرگ ترها و یا جستجو در اینترنت با مکان های دیدنی و تاریخی اصفهان آشنا شوید و به کمک آن اطلاعات یک سفرنامه ای خیالی بنویسید. این سفرنامه را به صورت یک کتاب تهیه و به کتابخانه ی کلاس خود هدیه دهید. دوستانتان نیز آن را مطالعه کنند.

برنامه متعادل

در یک برنامه ریزی متعادل باید همه ی موارد زیر گنجانده شده باشد:

- ۱ مطالعه و درس خواندن
- ۲ بازی و سرگرمی و تماشای تلویزیون
- ۳ استراحت و خواب
- ۴ عبادت
- ۵ کمک به دیگران (مثلاً پدر و مادر یا ...)
- ۶ رفتن به مدرسه و رفت و آمد آن
- ۷ غذا خوردن

دقت داشته باشید که در برنامه ریزی نامتعادل به بعضی بخش های زندگی، کم تر یا بیش تر از حد لازم توجه می شود. طور مثال اگر فردی کمبود خواب داشته باشد ممکن است دچار خستگی، بداخلاقی و کندی در یادگیری شود.

تمرین

۱ موارد مرتبط را به یکدیگر وصل کنید.

- | | |
|----------------------|---|
| برنامه ریزی | توجه کافی به امور در برنامه ریزی |
| آموزش | توجه بیش از حد یا کمتر از حد به امور در برنامه ریزی |
| برنامه ریزی متعادل | ما باید برای هر کاری داشته باشیم. |
| برنامه ریزی نامتعادل | برای برنامه ریزی مناسب باید بینیم. |

۲ درستی و نادرستی هر عبارت را مشخص کنید.

الف: تلویزیون هیچ وقت برای دانش آموزان مفید نیست.

ب: دانش آموزان برای پیشرفت درسی، برنامه ی خودشان را مانند برنامه ی پدرشان تنظیم می کنند.

۳ جاهای خالی را با کلمات مناسب کامل کنید.

الف: برای آن که بفهمیم چه مقدار از وقتمان را در شبانه روز به چه فعالیتی اختصاص می دهیم برنامه ریزی رسم می کنیم.

ب: کم خوابی می تواند موجب خستگی و بداخلاقی و کندی یادگیری شود.

۴ با انتخاب گزینه ی مناسب به پرسش های داده شده پاسخ دهید.

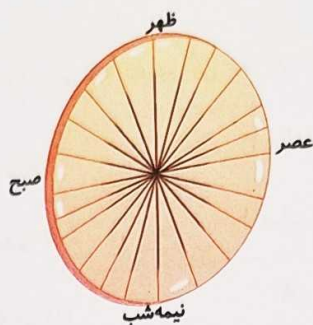
الف: کدام عبارت در برنامه ریزی متعادل جایی ندارد؟

۱) تفریح و سرگرمی ۲) غرق شدن در کار و درس ۳) ارتباط با خدا و دعا ۴) خواب کافی

ب: بنا به فرمایش امام علی (ع) از دست دادن فرصت موجب چیست؟

۱) پشیمانی ۲) خشم ۳) تجربه ۴) بدبینی

نمودار فعالیت‌های روزانه‌ی خودتان را رسم کنید. آیا برنامه‌ی روزانه‌ی شما یک برنامه‌ی متعادل است؟



۶ چرا انسان به تفریح و سرگرمی نیاز دارد؟
چون اگر همیشه درس بخوانیم و تفریح نداشته باشیم، ما متعادل نیستیم و ذهن ما را بیمار می‌کند. پس باید تفریح داشته باشیم تا بتوانیم درس خواندن را لذت ببریم.

۷ به چه علت عبادت کردن بایستی در برنامه‌ی روزانه ما باشد؟
چون عبادت کردن به ما آرامش می‌دهد و دعا و خواندن قرآن با خداوند ارتباط می‌دهد. پس در برنامه‌ی روزانه‌ی خود باید این کارها را اختصاص بدهیم.

۸ منظور از ضرب المثل «وقت طلاست» چیست؟
ارزش وقت از طلا هم بیشتر است. زیرا وقتی طلا را از دست بدهیم باقی تلاش می‌کنیم آن را دوباره برگردانیم. اما وقتی وقت را از دست بدهیم دوباره نمی‌توانیم آن را برگردانیم.

۹ اصطلاح «وقت» یا «اوقات» را تعریف کنید.
زمانی است که در اختیار داریم. این زمان به ما کمک می‌کند تا هدف‌هایمان را به دست آوریم. پس باید در این زمان‌ها به کارهای خودمان بپردازیم.

خودارزیابی

خیلی خوب خوب قابل قبول نیاز به تلاش

<input type="radio"/>	<input type="radio"/>	<input type="radio"/>	<input type="radio"/>	<input type="radio"/>
<input type="radio"/>	<input type="radio"/>	<input type="radio"/>	<input type="radio"/>	<input type="radio"/>
<input type="radio"/>	<input type="radio"/>	<input type="radio"/>	<input type="radio"/>	<input type="radio"/>
<input type="radio"/>	<input type="radio"/>	<input type="radio"/>	<input type="radio"/>	<input type="radio"/>

مفهوم ضرب المثل «وقت طلاست» را می‌دانم.

تعریف «وقت» یا «اوقات» را می‌دانم.

توانایی رسم نمودار روزانه را دارم.

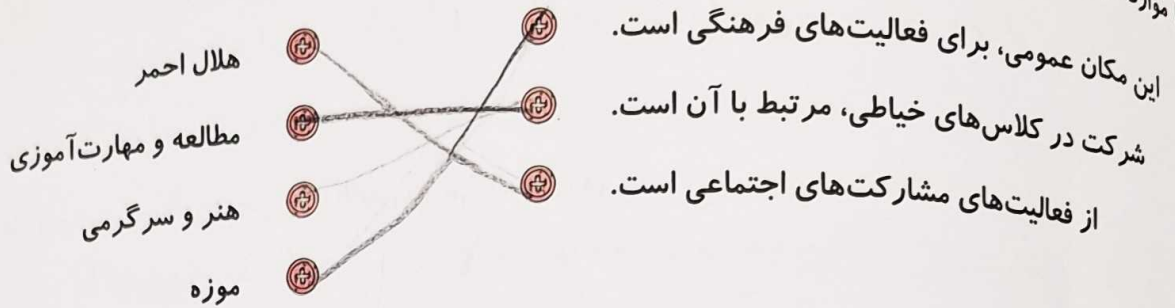
می‌توانم برنامه‌ی متعادل را از برنامه‌ی نامتعادل تشخیص دهم.



مکان عمومی گذراندن اوقات فراغت متعلق به همه‌ی مردم است و وظیفه‌ی ما این است که در حفاظت از این مکان‌ها، وسایل و امکانات آن بکوشیم و مقررات مخصوص به هر مکان را رعایت کنیم.

تمرین

۱ موارد مرتبط را به یکدیگر وصل کنید. (یک مورد اضافی است).



۲ درستی و نادرستی هر عبارت را مشخص کنید.

- الف: هیچ‌یک از شیوه‌های گذران اوقات فراغت در گذشته، امروزه کاربردی ندارد.
- ب: برنامه‌ریزی برای اوقات فراغت ربطی به پولی که در اختیار داریم، ندارد.
- پ: برای پر کردن اوقات فراغت، فقط در نظر گرفتن علاقمندی خودمان کافی است.

۳ جاهای خالی را با کلمات مناسب کامل کنید.

- الف: شرکت در امور خیریه از موارد اجتماعی و صمیمیت است.
- ب: دید و بازدید و قبول مسئولیت‌های اجتماعی جزء مسئولیت‌های اجتماعی است.
- پ: ساختن کاردستی یا جمع‌آوری تمبر، می‌تواند یک فعالیت سرگرمی باشد.

۴ با انتخاب گزینه‌ی مناسب به پرسش‌های داده شده پاسخ دهید.

الف: کدامیک از فواید بازی‌های قدیمی نمی‌باشد؟

- ۱) قدرتی ۲) حرکتی ۳) پرهزینه ۴) گروهی

ب: کدامیک مربوط به سیر و سفر است؟

- ۱) شرکت در اردوهای تفریحی ۲) بازدید از نمایشگاه هنری
- ۳) حضور در ورزشگاه‌ها ۴) قبول مسئولیت‌های اجتماعی

پ: برای پر کردن اوقات فراغت به چه چیزهایی باید توجه کنیم؟

- ۱) علاقمندی‌های خودمان ۲) شرایط و امکانات ۳) پول کافی ۴) همه‌ی موارد

۵ دو نمونه از کارهایی که در اوقات فراغت می‌توان به صورت فردی، برنامه‌ریزی کرد را نام ببرید.

مطالعه یا حل جدول یا ساختن کاردستی یا جمع‌آوری تمبر

۶ یک مؤسسه یا سازمانی که در امور اوقات فراغت فعالیت می کند را نام ببرید.
 ...کانون پرورش فکری کودکان و نوجوانان، سازمان دانش آموزی، وزارت ورزش و جوانان

۷ فعالیت های دلخواه خود را بهتر است در چه زمانی انجام دهیم؟
 اوقات فراغت زمانی است که از فعالیت و کار یا انجام تکالیف خسته بودیم تا به فعالیت دلخواه

۸ اوقات فراغت را تعریف کنید.
 به اوقات که بقیه افراد از تحصیل، کار یا وظایف و تکالیف خسته شده و به عهده ای اوست است. آسوده می باشد.
 اوقات فراغت می گویند.

۹ ما در برابر مکان های عمومی چه وظایفی داریم؟ (سه مورد)
 مکان های عمومی متعلق به همه مردم است و وظیفه ما این است که در حفاظت از این مکان ها و وسایل و امکانات آن، بی لوث باشیم و مقررات مخصوص به هر مکان را رعایت کنیم.

۱۰ بازی های بچه ها در گذشته و حال چه تفاوتی کرده است؟
 بازی های قدیمی = گروهی بودند، صیبه ای، چرتی و قوری داشته، کم هزینه بودند و ایجاد بازی و رقابت جواس می کردند ولی محدود بودند و با امکانات کم قابل اجرا بودند.

بازی های جدید = امکانات بیشتر، اطلاعات بیشتر، مصرات = فردی است و باعث ضعف بینایی، بی تحرکی، چاقی، عصبی شدن و پرهزینه هستند.

خودارزیابی

نیاز به تلاش	قابل قبول	خوب	خیلی خوب
<input type="radio"/>	<input type="radio"/>	<input type="radio"/>	<input type="radio"/>
<input type="radio"/>	<input type="radio"/>	<input type="radio"/>	<input type="radio"/>
<input type="radio"/>	<input type="radio"/>	<input type="radio"/>	<input type="radio"/>
<input type="radio"/>	<input type="radio"/>	<input type="radio"/>	<input type="radio"/>
<input type="radio"/>	<input type="radio"/>	<input type="radio"/>	<input type="radio"/>

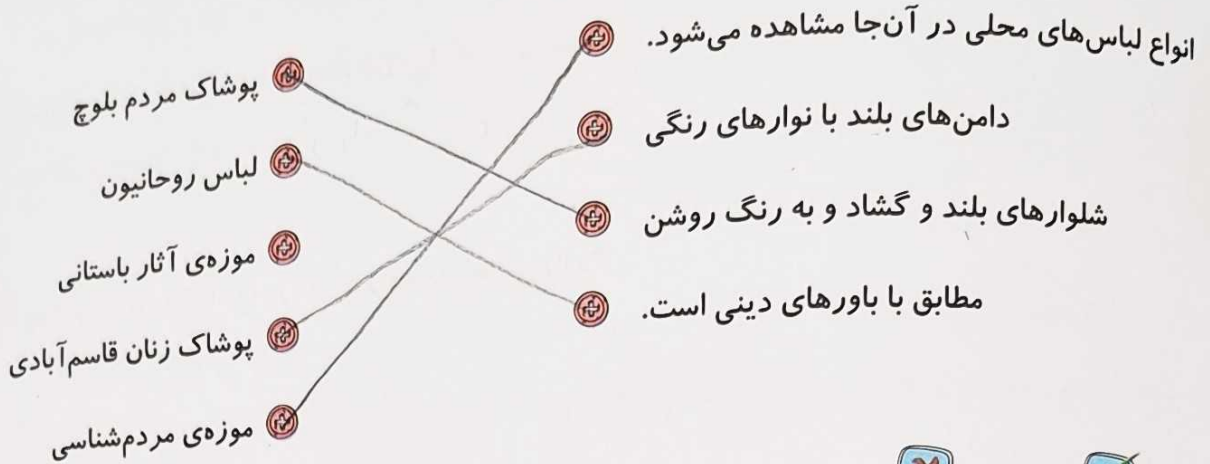
- ۱ مفهوم اوقات فراغت را می دانم.
- ۲ راه ها و شیوه های گوناگون برای گذراندن اوقات فراغت را می دانم.
- ۳ می توانم برای اوقات فراغت به صورت فردی و گروهی برنامه ریزی کنم.
- ۴ فعالیت های اوقات فراغت از گذشته تا حال را می شناسم.
- ۵ مکان های عمومی برای گذراندن اوقات فراغت را می شناسم و قوانین هر مکان را می دانم.

فعالیت عملکردی

نام و شرح یک بازی محلی و قدیمی که پدر یا مادرتان در قدیم در محل یا شهر خود انجام می دادند بنویسید. (می توانید در صورت امکان با راهنمایی آموزگار خود در حیاط مدرسه بازی کنید).



۱ موارد مرتبط را به یکدیگر وصل کنید. (یک مورد اضافی است).



۲ درستی و نادرستی هر عبارت را مشخص کنید.

الف: امروزه لباس‌های محلی جایگاهی نزد مردم ندارند.

ب: از نوع و شکل پوشاک بعضی از مردم می‌توان به شغل و حرفه‌ی افراد پی برد.

پ: لباس منزل ما با لباسی که در مهمانی می‌پوشیم، فرق ندارد.

۳ جاهای خالی را با کلمات مناسب کامل کنید.

الف: گروه‌های مختلف اجنبی... و... شغلی... نیز لباس‌های بخصوصی به تن می‌کنند.

ب: در عزاداری امام حسین (ع)، لباس... می‌پوشیم.

پ: در فصل‌های مختلف سال لباس‌های ما... است.

۴ با انتخاب گزینه‌ی مناسب به پرسش‌های داده شده پاسخ دهید.

الف: چند مورد از گزینه‌های داده شده جزء عوامل تأثیرگذار بر نوع لباس هستند؟

آب و هوا، آداب و رسوم، گروه‌های شغلی، گروه‌های سنی

(۱) یک مورد (۲) دو مورد (۳) سه مورد (۴) چهار مورد

ب: کدام گروه شغلی نیاز به لباس خاصی ندارد؟

(۱) مأموران آتش‌نشانی (۲) نظامیان (۳) پزشکان (۴) نویسندگان

پ: کدام لباس مناسب فصل تابستان است؟

(۱) کتان (۲) پشمی (۳) بافت (۴) نخ

پوشاک مردم در نواحی مختلف آب و هوایی از چه لحاظ با هم فرق می کند؟

پوشاک مردم در نواحی مختلف آب و هوایی از نظر شکل و جنس و رنگ با هم فرق دارند.

عکس مقابل، لباس زنان در کدام دوره را نشان می دهد؟

دوره سی. عجمان را نشان می دهد.

پوشش زنان در کرانه‌ی دریای خزر چه مشخصاتی دارد؟

در کرانه‌ی دریای خزر زنان قاسمی با دامن‌های بلند می پوشیدند. تاروی کبوتری سفید و با یوارهای رنگی تزیین شده است. عینای دراز و تابشی از دهه ۵۰ میلادی است.

چهار نمونه از اقوام ایرانی را که لباس‌های مخصوص به خود را دارند، نام ببرید.

ایمانی - لری - ترمس - جلوی - بلوچی - خراسانی

چهار نوع سرپوش مردان در دوره‌های مختلف تاریخی را نام ببرید.

حساج - انواع کلاه - عمامه - دستار

چرا در زمستان بیش‌تر از رنگ‌های تیره استفاده می کنیم و بیش‌تر چه نوع لباس‌هایی می پوشیم؟

زیرا رنگ‌های تیره نور بیشتری جذب می کنند و در تاریکی گرم‌تر هستند. در تابستان لباس‌های روشن و سبک می پوشیم.

خودارزیابی

نیاز به تلاش	قابل قبول	خوب	خیلی خوب
<input type="radio"/>	<input type="radio"/>	<input type="radio"/>	<input type="radio"/>
<input type="radio"/>	<input type="radio"/>	<input type="radio"/>	<input type="radio"/>
<input type="radio"/>	<input type="radio"/>	<input type="radio"/>	<input type="radio"/>
<input type="radio"/>	<input type="radio"/>	<input type="radio"/>	<input type="radio"/>
<input type="radio"/>	<input type="radio"/>	<input type="radio"/>	<input type="radio"/>


- انواع لباس با توجه به گروه‌ها و فعالیت‌های اجتماعی را می‌شناسم.
- علت تفاوت پوشاک با توجه به تنوع آب و هوایی را می‌دانم.
- اقوامی که لباس‌های مخصوص محلی دارند را می‌توانم نام ببرم.
- علت نگهداری لباس‌های محلی در موزه مردم‌شناسی را می‌دانم.
- پوشاک مردان در دوره‌های مختلف تاریخی را می‌دانم.




«لباس از تولید به مصرف»

آموختنی‌ها

- ۱ آشنایی با نحوه‌ی تولید لباس در گذشته و حال
- ۲ درک مفهوم تولید انبوه
- ۳ آشنایی با معیارهای خرید لباس



بخوان و پیاموز



برای مقایسه‌ی خرید لباس در گذشته و حال باید گفت در گذشته مردم بیشتر با مراجعه به خیاط و سفارش لباس موردنظر از پارچه‌ای که خودشان تهیه کرده بودند، لباس فراهم می‌کردند، ولی امروزه بیشتر مردم لباس‌های خود را به صورت آماده از فروشگاه‌ها می‌خرند. البته هنوز هم خیاطی‌هایی وجود دارند که مانند گذشته، مردم برای تهیه‌ی لباس به آن‌جا مراجعه می‌کنند. امروزه به دلیل افزایش جمعیت، دیگر وجود یک یا چند خیاط برای تهیه‌ی لباس کافی نیست. بلکه رفته‌رفته کارگاه‌هایی به وجود آمد که انواع لباس در آن‌جا به تعداد زیاد تولید می‌شوند. به تولید یک کالا به یک شکل و به تعداد زیاد «تولید انبوه» می‌گویند.




یک کارگاه تولیدی لباس به پارچه نیاز دارد و پارچه از نخ طبیعی یا مصنوعی درست می‌شود. پس از تولید نخ در کارخانه‌ی نخ ریسسی، نخ‌ها به کارخانه‌ی نساجی فرستاده می‌شود.

صاحبان کارگاه تولید لباس، پارچه را از عمده فروشان خریداری می‌کنند.



عمده فروشان:

فروشنده‌گانی هستند که کالاها را به تعداد زیاد و به صورت یک‌جا به مغازه‌داران می‌فروشند.



توجه: در کارگاه تولید لباس تعدادی از افراد مشغول به کار هستند، برش‌کار، دوزنده‌ی آستین، دوزنده‌ی یقه، دکمه‌دوز، زیپ‌دوز، اتو کش، کارگر بسته‌بندی لباس و ... که همه و همه در تهیه‌ی لباس نقش مهمی دارند.

همه‌ی کسانی که در کارگاه مشغول به کار هستند، بخشی از کار تولید را انجام می‌دهند تا کالا به صورت نهایی آماده شود. به این همکاری، «خط تولید» می‌گویند.

شرایط خرید لباس

- ۱ باید با باورهای دینی ما تناسب داشته باشد.
- ۲ قیمت آن مناسب باشد.
- ۳ کیفیت آن خوب باشد.
- ۴ متناسب با فصل و آب و هوا باشد.
- ۵ متناسب با سن و سال ما باشد.
- ۶ ترجیحاً پوشاک کشور خودمان باشد.

به مقدار پولی که می‌توانیم برای انجام یک کار یا خرید یک کالا پردازیم، «بودجه» می‌گویند. توجه داشته باشید که لباس باید پوشش مناسب را برای زن یا مرد مسلمان فراهم کند. رعایت حجاب و عفاف، موجب وقار و متانت شخص می‌شود.

همیشه نیاز نیست لباس‌های نو و یا مد روز تهیه کنیم. چرا که لباس فقط باید آراسته و تمیز باشد. ما حتی می‌توانیم لباس‌های قابل استفاده‌ی خود را به خیاطی ببریم و آن را تعمیر کنیم و حتی خودمان می‌توانیم آن را تغییر دهیم؛ مثلاً دکمه‌های قدیمی را عوض کنیم و به جای آن دکمه‌های جدید بگذاریم و یا جیب‌های آن را تغییر دهیم و زیپ‌های خراب را عوض کنیم.



تمرین

- ۱ موارد مرتبط را به یکدیگر وصل کنید.

خط تولید			مقدار سرمایه‌ای که می‌توانیم برای تهیه‌ی یک لباس یا کالای دیگر پردازیم.
عمده‌فروشان			به همکاری افراد مختلف برای تولید یک کالا گفته می‌شود.
تولید ملی			به تولید یک کالا به مقدار زیاد و به صورت یک‌شکل و همسان گفته می‌شود.
بودجه			کالاها را به تعداد زیاد و یک‌جا به مغازه‌داران می‌فروشند.
تولید انبوه			از معیارهای انتخاب لباس.

۲ درستی و نادرستی هر عبارت را مشخص کنید.
الف: افزایش جمعیت نشان داد تولید لباس به سبک گذشته جوابگوی نیاز مردم نیست.

ب: مردم می توانند برای نیازهای روزانه‌ی خود از عمده‌فروشان خرید کنند.

پ: در هنگام خرید، همیشه لباس باید با کیفیت و مطابق با مد روز باشد.

ت: صاحبان کارگاه‌های تولید لباس، پارچه موردنیاز خود را از خرده‌فروشان خریداری می کنند.

۳ جاهای خالی را با کلمات مناسب کامل کنید.

الف: در گذشته‌ی نه چندان دور، بیش تر مردم برای تهیه‌ی لباس به خیابان مراجعه می کردند.

ب: رعایت حجاب و عفاف موجب وقار و متانت شخص می شود.

پ: به کارخانه‌های پارچه‌بافی، لباس‌بافی می گویند.

۴ با انتخاب گزینه‌ی مناسب به پرسش‌های داده شده پاسخ دهید.

الف: مرحله‌ی بعد از برش پارچه در تهیه‌ی لباس چیست؟

۱) دوختن دکمه

۲) اتو کردن

۳) دوختن قسمت‌های مختلف

۴) بررسی اندازه‌ی الگو

ب: در موقع خرید لباس به کدام مورد بیش تر باید اهمیت بدهیم؟

۱) متناسب بودن با باورهای دینی

۲) گران بودن لباس

۳) متناسب بودن با مد روز

۴) رنگ لباس

پ: کدام مورد از دلایل به وجود آمدن کارگاه تولید لباس است؟

۱) افزایش جمعیت

۲) تغییر آب و هوا

۳) تنوع پارچه

۴) سلیقه‌های متفاوت

۵ از چند نوع نخ در تولید پارچه استفاده می شود؟

انواع طبیعی یا مصنوعی

۶ برش کار در کارگاه تولید لباس چه وظیفه‌ای دارد؟

برش کار از روی الگوهاست که در پارچه‌ها را می برد و الگو در اندازه‌های مختلف بریده می شود.

۷ دو نفر از افرادی که در کارگاه تولید لباس مشغول به کار هستند را نام ببرید.

برش کار است و دو نفر دیگر مسئول می کند - خیاط - اتو کش - کارگر بسته بندی

۸ مراحل تولید انبوه لباس را بیان کنید.

اصولاً به دلیل افزایش جمعیت کارگاه‌های تولیدی زیادی به وجود آمدند که به تولید

لباس کلاهی یک شکل و هم اندازه زیاد تولید انبوه گفته می شود.

علوی

۹ برای خرید لباس باید به چه چیزهایی توجه کنیم؟ (سه مورد)

۱. به قیمت لباس
۲. قیمت آن مناسب باشد
۳. کیفیت آن خوب باشد
کتاب با فعل و - و هو باشد - کتاب با پس و سال ها لباس باشد - بویژه

۱۰ چرا مغازه دارها لباس ها را با مبلغی بیش تر از کارگاه تولیدی به مردم می فروشند؟


۱. برای سودی که از فروش به مبلغی بیشتر دریافت می کنند برای اجاره مغازه، حقوق کارکنان پرداخت می کنند
۲. و برق و گاز و اداره های نزدیک خود بیا ندارد

خودارزیابی

نیاز به تلاش	قابل قبول	خوب	خیلی خوب	
<input type="radio"/>	<input type="radio"/>	<input type="radio"/>	<input type="radio"/>	مفهوم تولید انبوه، خط تولید و بودجه را می دانم.
<input type="radio"/>	<input type="radio"/>	<input type="radio"/>	<input type="radio"/>	مراحل تولید انبوه لباس را می دانم.
<input type="radio"/>	<input type="radio"/>	<input type="radio"/>	<input type="radio"/>	معیارهای انتخاب و خرید لباس را می شناسم.
<input type="radio"/>	<input type="radio"/>	<input type="radio"/>	<input type="radio"/>	مفهوم کلمه «عمده فروشی» را می دانم.
<input type="radio"/>	<input type="radio"/>	<input type="radio"/>	<input type="radio"/>	با انواع نخ و کارخانه‌ی نساجی آشنا هستم.
<input type="radio"/>	<input type="radio"/>	<input type="radio"/>	<input type="radio"/>	در کارگاه تولیدی لباس، وظیفه‌ی خیاط‌های مختلف را می دانم.

فعالیت عملکردی

درباره‌ی چند کالا که در گذشته به تعداد کم تولید می شد اما امروزه به صورت انبوه در کارخانه یا کارگاه تولید می شود تحقیق کرده و مراحل تولید آن را نقاشی کنید. یا از اینترنت تصاویری پیدا کرده و بچسبانید.

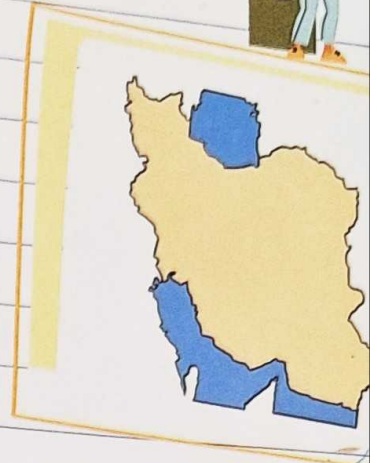


درس هفدهم

«ویژگی‌های دریا‌های ایران»

آموختنی‌ها

- ۱ آشنایی با موقعیت آب‌های اطراف ایران
- ۲ شناخت ویژگی‌های دریای خزر، خلیج فارس و دریای عمان



بخوان و پیاموز

در سال‌های گذشته یاد گرفتیم که دریاها گودال‌های پر از آبی هستند که به اقیانوس راه دارند و اقیانوس‌ها پهنه‌ی بسیار بزرگ آبی کره‌ی زمین هستند و می‌دانیم که دریای خزر در شمالی‌ترین مرز ایران و دریای خلیج فارس و دریای عمان در جنوبی‌ترین قسمت یا مرز کشور قرار دارند.

دریای خزر

دریای خزر در واقع یک دریاچه است، اما به علت وسعت زیادش، «دریا» نامیده می‌شود. خزر در طول تاریخ نام‌هایی چون دریای گیلان، دریای مازندران، دریای قزوین و دریای گرگان داشته است و در نقشه‌های خارجی نیز «دریای کاسپین» نامیده شده است.

عمق دریای خزر:

الف) نواحی شمالی کم‌عمق است. در بعضی نواحی به کم‌تر از ۱۰ متر می‌رسد.

ب) نواحی جنوبی عمق بیش‌تری دارد و به بیش از ۱۰۰۰ متر می‌رسد.

میزان شوری دریای خزر کم‌تر از دریاها و اقیانوس‌های دیگر است. رودهای چالوس، هراز، سفیدرود و گرگان به دریای خزر می‌ریزند. کشورهای ترکمنستان، قزاقستان، روسیه و آذربایجان از طریق دریای خزر با ایران مرتبط می‌شوند.



وجود دریای خزر نقش تعیین‌کننده‌ای در آب و هوای ساحل شمال ایران ایفا می‌کند. زیبایی‌های بی‌نظیر گیلان و مازندران و گرگان به حفظ شرایط زیستی این دریا کمک می‌کند. پیرامون ساحل خزر با باغات مرکبات، شالیزارها و مزارع سرسبز پوشانده شده است. رودخانه‌ی هراز در محل پیوستن خود به دریا چشم‌انداز بی‌نظیری دارد. نوشهر، چالوس، رامسر، نکا و انزلی از بنادر مهم دریای خزر به شمار می‌روند. کناره‌ی دریای خزر یکی از مهم‌ترین مراکز گردشگری کشور ایران است.

علوی



خلیج فارس

خلیج فارس، پیشروی دریای عمان و اقیانوس هند، خشکی‌های ایران و عربستان است.

خلیج فارس تنها راهی است که ایران را از راه جنوب کشور به آب‌های آزاد ارتباط می‌دهد. بندرهای متعددی در شمال این خلیج قرار گرفته‌اند. بندر خرمشهر، آبادان، امام خمینی، بوشهر،

عسلویه و ... از آن جمله‌اند. ساحل خلیج فارس از دهانه‌ی اروندرود تا بندر عباس امتداد دارد.

در خلیج فارس جزیره‌های بزرگ و کوچکی وجود دارد که متعلق به ایران است. از آن جمله قشم (بزرگ‌ترین جزیره‌ی خلیج فارس)، کیش، هرمز، لاوان، ابوموسی، تنب بزرگ، تنب کوچک، لارک، هنگام و ...

بیشتر بدانیم

نام خلیج فارس بیش از ۲۵۰۰ سال قدمت دارد و در اسناد تاریخی به این موضوع اشاره شده است. متأسفانه در سال‌های اخیر برخی از کشورهای عربی سعی بر تغییر نام این خلیج داشته‌اند. وظیفه‌ی ما بر آن است که به عنوان یک ایرانی مانع این امر شویم.

عمق خلیج فارس

از دریای عمان بسیار کم‌تر است. به‌طور متوسط به ۳۰ متر می‌رسد. منابع مروارید، مرجان، اسفنج، ماهی‌های مرغوب و میگو منحصر به خلیج فارس است. اگر آلودگی محیط‌زیست نبود، بهترین ماهی‌های دنیا در این منطقه به‌دست می‌آمد.

بندرهای جزیره‌های خلیج فارس یکی از مهم‌ترین ایستگاه‌های دریایی اتصال به هند، چین، است.



نکته

آب دریا بی‌رنگ است، ولی به خاطر انعکاس تصویر آسمان، آبی به نظر می‌رسد و در روزهای ابری خاکستری دیده می‌شود.

تعاریف

- ★ به پیشروی آب دریاها، «خلیج» می‌گویند.
 - ★ آبراهه‌ای که دو دریا را به هم وصل می‌کند، «تنگه» نام دارد.
 - ★ در کناره‌های خلیج فارس بریدگی‌های عمیقی وجود دارد که ساکنان اطراف به آن‌ها «خور» می‌گویند.
- از موارد استفاده‌ی خورها ایجاد بندر و پهلو گرفتن کشتی‌ها می‌باشد.

بیشتر بدانیم

خلیج فارس به «دریای پارس» معروف بوده است. خلیج فارس به دلیل اهمیت زیادی که دارد، در طول تاریخ بارها مورد هجوم کشورهای بیگانه قرار گرفت؛ مثلاً؛ پرتغالی‌ها تنگه هرمز را اشغال کرده بودند که شاه عباس صفوی توانست آن‌ها را بیرون کند. روز دهم اردیبهشت را در تقویم «روز ملی خلیج فارس» نامیده‌اند.

دریای عمان

ساحل دریای عمان از بندرعباس تا بندر گواتر امتداد دارد. دریای عمان به اقیانوس هند راه دارد و از طریق تنگه‌ی هرمز به خلیج فارس متصل می‌شود. بندر مهم دریای عمان، بندر چابهار است که عمق این دریا در این بندر به ۳۰۰۰ متر نیز می‌رسد. از دیگر بنادر این دریا، جاسک و گواتر می‌باشد که بیانگر بازرگانی و دریانوردی آن است.

عمق	خلیج فارس کم‌تر از دریای عمان است.
شوری	خلیج فارس بیش‌تر از دریای عمان است.

کشورهای عربی امارات، عمان، قطر، بحرین، عربستان و کویت از طریق خلیج فارس و دریای عمان با ایران همسایه هستند.

تمرین

۱ موارد مرتبط را به یکدیگر وصل کنید.

- | | | |
|--------|--|---|
| خور | | گودال‌های پرآبی که به آب‌های آزاد راه ندارند. |
| دریاچه | | رودی که به دریای عمان می‌ریزد. |
| سرباز | | بریدگی‌های عمیق کناره‌ی دریای خلیج فارس به زبان بومی. |
| خلیج | | پیشروی آب دریاها در خشکی. |

۲ درستی و نادرستی هر عبارت را مشخص کنید.

- الف: شوری دریای عمان از خلیج فارس بیش‌تر است.
- ب: عمق خلیج فارس کم‌تر از دریای عمان است.
- پ: ساحل دریای عمان از بندرعباس تا بندر گواتر امتداد دارد.
- ت: بزرگ‌ترین جزیره‌ی خلیج فارس، کیش است.
- ث: میزان شوری دریای خزر از دریاها و اقیانوس‌ها کم‌تر است.

جاهای خالی را با کلمات مناسب کامل کنید.

۳ الف: عمق دریای عمان در اطراف بندر چابهار، حدود است.

ب: دریای خزر در نقشه‌های خارجی، نامیده می‌شود.

پ: دریای عمان به اقیانوس راه دارد.

ت: مهم‌ترین رودی که به خلیج فارس می‌ریزد، است.

۴ با انتخاب گزینه‌ی مناسب به پرسش‌های داده شده پاسخ دهید.

الف: کدام یک از رودهای زیر به دریای خزر می‌ریزد؟

۲ سرراز

۱ سفیدرود ✓

۴ جراحی

۳ مند

ب: کدام کشور به وسیله‌ی دریای خزر با ایران همسایه نیست؟

۲ قزاقستان

۱ ترکمنستان

۴ ارمنستان ✓

۳ روسیه

پ: کدام یک از رودهای زیر به دریای خلیج فارس می‌ریزد؟

۲ هراز

۱ گرگان

۴ اروندرود ✓

۳ سفیدرود

۵ با توجه به سؤالات زیر جدول را پر کنید و رمز آن را در جای خالی بنویسید.

الف: روز اردیبهشت، روز خلیج فارس نامیده شده است. دهم

ب: از بنادر زیبای دریای خزر، انزلی - چالوس - نوشهر - راسم

پ: از رودهایی که به خلیج فارس می‌ریزد، همدان

ت: به اطراف قشم می‌ریزد. رودشور

ث: آبراه‌ای بین دریای عمان و خلیج فارس. تنگه هرمز

ج: از منابع دریایی خلیج فارس. اسفنج

چ: از کشورهای همسایه دریایی ایران. امارات

ح: گودال‌های پر از آب. دریا

خ: از کشورهای همسایه‌ی ایران از طریق دریای خزر. روسیه

رمز جدول: همیشه فارس

رمز جدول

			۵	۶	الف	
	۱	س	۳	۱	ب	۱
	ن	۱	ج	۱	۶	ن
	۱	و	ش	د	۱	۱
۱	ن	۱	ه	ه	ک	ن
	ج	ن	ف	س	۱	ج
	۱	۱	۱	۱	۱	چ
	۱	۱	۱	۶	ح	۱
	۱	س	س	و	خ	۱

۶ دریای خزر دریاچه است، ولی چرا به آن دریا می‌گویند؟

دریای خزر دریاچه است ولی به علت وسعت زیادش دریا نامیده می‌شود.

۷ خورها برای چه امری مناسب هستند؟

در بنادرهای دریای خلیج فارس بریدگی‌های عمیق وجود دارد که ساکنان اطراف هم‌اکنون خوری‌ها را بسازند و از آنها استفاده می‌کنند. خورها اینجاد بندر و عبور کشتی‌ها را آسان می‌کند.

۸ در بندرها چه فعالیت‌هایی صورت می‌گیرد؟

در بندرهای ایران کشتی‌ها می‌آیند و می‌روند. کالاهای مختلف را با کشتی‌ها به کشورهای دیگر انتقال می‌دهند.

۹ جدول زیر را کامل کنید.

در رود و خروج کالاهای صادراتی و وارداتی.

نام دریا	عمق	دو رود	نام دو کشور همسایه	میزان شوری
خزر	بیش از ۱۰۰۰ متر	سفیدرود - خالوس	ترکمنستان - آذربایجان	کمتر از دریاها و اقیانوسها
خلیج فارس	به طور متوسط ۳۰ متر	کارون - جراحی	عربستان - عراق - قطر	بیشتر از دریای عمان
عمان	۴۰۰ متر	سرباز - رودشور	پاکستان - امارات	کمتر از خلیج فارس

خودارزیابی

خیلی خوب	خوب	قابل قبول	نیاز به تلاش
<input type="radio"/>	<input type="radio"/>	<input type="radio"/>	<input type="radio"/>
<input type="radio"/>	<input type="radio"/>	<input type="radio"/>	<input type="radio"/>
<input type="radio"/>	<input type="radio"/>	<input type="radio"/>	<input type="radio"/>
<input type="radio"/>	<input type="radio"/>	<input type="radio"/>	<input type="radio"/>
<input type="radio"/>	<input type="radio"/>	<input type="radio"/>	<input type="radio"/>
<input type="radio"/>	<input type="radio"/>	<input type="radio"/>	<input type="radio"/>

- ویژگی‌های دریای خزر را می‌شناسم.
- ویژگی‌های خلیج فارس و دریای عمان را می‌شناسم.
- با اصطلاحات خلیج، خور، تنگه، بندر آشنایی دارم.
- نام رودها و بنادر ایران را می‌دانم.
- با کشورهای همسایه‌ی جنوبی که از طریق خلیج فارس و دریای عمان با ایران همسایه هستند آشنایی دارم.
- با کشورهای همسایه‌ی شمالی که از طریق دریای خزر با ایران همسایه هستند آشنایی دارم.

بیشتر بدانیم

میگو یکی از آبزیان سخت پوست است که می تواند رو به عقب شنا کند و مقاومت بالایی در مقابل مواد سمی مناطق آلوده دارد. این خوراک دریایی سرشار از کلسیم، ید و پروتئین و کلسترول می باشد. با نزدیک شدن به مهر ماه، صید میگو آغاز می شود.

تمرین

۱ موارد مرتبط را به یکدیگر وصل کنید.



۲ درست و نادرستی هر عبارت را مشخص کنید.

الف: میگو از مهم ترین منبع غذایی دریای خزر می باشد.

ب: دریای خلیج فارس به انبار نفت جهان معروف است.

پ: نفت و گاز از خلیج فارس در نواحی عمیق نزدیک ساحل استخراج می شود.

ت: پستانداران مانند دلفین ها و نهنگ ها در خلیج فارس و دریای عمان زندگی می کنند.

۳ جاهای خالی را با کلمات مناسب کامل کنید.

الف: همه روزه نفت کش های عظیمی از خلیج فارس و ^{هند} ~~هند~~ عبور می کنند.

ب: ماهیگیری در آب های عمیق نیازمند کشتی های مجهز به ^{سونار} ~~سونار~~ و ^{بیچ} ~~بیچ~~ است.

پ: صید ماهی در دریای خزر در فصل های ^{بهار و تابستان} ~~بهار و تابستان~~ ممنوع است.

ت: بخش عمده ای از صادرات و واردات کشور ایران از طریق ^{بندر} ~~بندر~~ صورت می گیرد.

۴ با انتخاب گزینه ی مناسب به پرسش های داده شده پاسخ دهید.

الف: دلیل ممنوعیت صید ماهی در دوره ی زمانی مشخص در دریای خزر چیست؟

(۲) تخم ریزی ماهی ها

(۱) کنترل صید بیش از حد

(۴) جلوگیری از قاچاق ماهی

(۳) رفت و آمد کشتی های تجاری

ب: در کدام یک از شهرها، کارخانه های لنج سازی و کشتی سازی جنوب مستقر نیست؟

(۴) چابهار

(۳) بوشهر

(۲) نکا

(۱) بندرعباس

پ: سواحل شمالی کشور از مهم ترین مراکز است.

(۱) استخراج نفت

(۳) صید میگو

(۲) استخراج گاز

(۴) جاذبه‌ی گردشگری ✓

۵ جدول زیر را کامل کنید.

نام ماهی	کفال	زیبده	فیل ماهی	خلوای سفید	ماهی شیر
نام دریا	خرز	خلیج فارس	خرز	خلیج فارس	خلیج فارس

۶ دو سازمانی که به امور دریایی می‌پردازند را نام ببرید.

بنادر و دریانوردی - سازمان سبلاط جمهوری اسلامی ایران

۷ دو ویژگی فاسد نبودن کنسرو ماهی را بنویسید.

قوطلی کشید و سالم و بدون خرابی باقی ماند. - کنسرو ماهی با دانه‌ها و روغن

۸ دو شغلی که با دریا سروکار دارد را بنویسید.

صید ماهی یا صیادی - غواصی - کشتی رانی

۹ علت اهمیت دریای خزر چیست؟

دارای منابع سرشار از نفت و گاز - بزرگترین منبع ماهیان خاویاری و ماهی خاویاری

(هر وار بسیار) - زیر گناه صدها نوع ماهی خاویاری و زینتی و موجودات دریایی وجود دارند - کشتی رانی در فصل تابستان - ایجاد شغل گسترده‌ای و کمک به اقتصاد برای حفاظت از دریاها چه اقداماتی باید کرد؟

۱۰ از ریختن زباله در دریاها خودداری کنید - ۲ از نصب دولت توسط دولت‌های خاویاری کنید - ۳ جلوگیری از فعالیت‌های صنعتی در رودها

۱۱ دریاها چه نقشی در توسعه گردشگری در ایران دارند؟

همیشه به گردشگران زیادی از مردم کشورهای مختلف و نیز از کشورهای همسایه مانند عراق، سوریه، افغانستان، پاکستان، هند و چین، ایران سفر می‌کنند. - سواحل جنوبی و غربی ایران که به جزایر، قشم، بندرعباس، مازندران، برای گردشگران در فصل زمستان مناسب است.

۱۲ با توجه به تنوع فعالیت‌ها در دریا، در کارخانه‌های کشتی‌سازی چه کشتی‌هایی تولید می‌شود؟

انواع کشتی‌های صیادی - تفریحی - تجاری و نفتکش و کشتی‌های کشتی‌سازی تولید می‌شود.

جشن نوروز: کشورهای افغانستان، پاکستان و آذربایجان نوروز را مانند ایران جشن می گیرند. در پاکستان نوروز را «عالم افروز» می نامند. افغانستان سال رسمی را با نوروز آغاز می کند و در آن جا و برخی از شهرهای پاکستان سفره‌ی «هفت میوه» می چینند. در آذربایجان روی سفره‌های نوروزی آجیل می گذارند و در ترکمنستان اجرای مراسم ورزشی و بازی‌های مختلف و طبیعت گردی هنگام نوروز رایج است. برخی از مردم ترکیه نیز نوروز را جشن می گیرند.



تمرین

۱ موارد مرتبط را به یکدیگر وصل کنید. (یک مورد اضافی است).

ارمنستان	<input type="checkbox"/>	مرقد مطهر پیامبر «ص» در آن جاست.
ترکمنستان	<input type="checkbox"/>	به زبان فارسی علاقه‌مندند.
مدینه	<input type="checkbox"/>	از همسایگان شمال شرقی ایران است.
پاکستان	<input type="checkbox"/>	بیش‌ترین مرز را با ایران دارد.
عراق	<input type="checkbox"/>	

۲ درستی و نادرستی هر عبارت را مشخص کنید.

- الف: برای این که یک فرد از کشور خارج بشود، به ویزا نیاز است.
- ب: پاکستان و عراق از همسایگان شرقی ایران هستند.
- پ: گاهی یک رود می‌تواند مرز کشور باشد.
- ت: در ترکمنستان در نوروز اجرای مراسم ورزشی و بازی‌های مختلف رایج است.

۳ جاهای خالی را با کلمات مناسب کامل کنید.

- الف: در نوروز، در افغانستان سفره هفت میوه می‌چینند.
- ب: ایران با کشور ایران کوتاه‌ترین مرز را دارد.
- پ: رود ایران مرز بین ایران و ترکمنستان است.
- ت: عید فطر و عید عید در همه‌ی کشورهای مسلمان برگزار می‌شود.

۴ با انتخاب گزینه‌ی مناسب به پرسش‌های داده شده پاسخ دهید.

الف: کشورهایی که از طریق دریا با ایران همسایه هستند، در کدام گزینه آمده است؟

۱) عمان، عربستان، قطر، امارات

۲) ترکمنستان، آذربایجان، عربستان، قطر

۳) پاکستان، بحرین، کویت، عراق

۴) عراق، ترکمنستان، امارت، ارمنستان

ب: رودهای مرزی ایران با کشورهای همسایه کدامند؟

۱) ارس ۲) اترک ۳) اروندرود ۴) هر سه مورد

پ: وجود پاسگاه‌های مرزی برای چیست؟

۱) حفظ استقلال ۲) جلوگیری از عبور غیرقانونی

۳) مبارزه با بیگانگان ۴) حفظ قدرت سیاسی

۵) مردم پاکستان نوروز را چه می‌نامند؟

در پاکستان نوروز را عید عالم یا خروزی می‌نامند.

۶) مرز چیست؟

خط مشخصی است که کشوری را از کشوری دیگر جدا می‌کند.

۷) خط مرزی به چند صورت است؟ نام ببرید.

صورت زمینی - مرز هوایی - مرز آبی

۸) کوه آرارات مرز بین کدام کشورها است؟

بخش از مرز ایران و ترکیه می‌باشد.

۹) مراحل تعیین مرز کشورها را توضیح دهید.

توافق بین طرفین مرزی - ترسیم نقشه‌های مرزها توسط نقشه‌نگاران - کلاس‌بندی مرزها با مصالح مناسب و ساختن خارها.

۱۰) شباهت بین کشور ما و کشورهای همسایه در چه مواردی است؟

دین - زبان - مراسم و عبادت - جشن نوروز

۱۱) مردم کشورهای مختلف عموماً به چه منظورهایی به سفر می‌روند؟

برای تفریح و دیدن بناها و بناهای داخلی و خارجی و خرید و بار دات. کارهای خارجی برای روابط فرهنگی به صورت سفرهای زیارتی و تفریحی.

۱۲) علت ارتباط با همسایگان را نام ببرید و هر کدام را توضیح دهید.

برای برقراری روابط مختلف در ابعاد سیاسی، اجتماعی و فرهنگی دارد. بازرگانی - خرید و فروش - صادرات و واردات - روابط فرهنگی و سفرهای زیارتی و تفریحی.

خودارزیابی

نیاز به تلاش	قابل قبول	خوب	خیلی خوب
<input type="radio"/>	<input type="radio"/>	<input type="radio"/>	<input type="radio"/>
<input type="radio"/>	<input type="radio"/>	<input type="radio"/>	<input type="radio"/>
<input type="radio"/>	<input type="radio"/>	<input type="radio"/>	<input type="radio"/>
<input type="radio"/>	<input type="radio"/>	<input type="radio"/>	<input type="radio"/>
<input type="radio"/>	<input type="radio"/>	<input type="radio"/>	<input type="radio"/>
<input type="radio"/>	<input type="radio"/>	<input type="radio"/>	<input type="radio"/>

- تعریف مرز و چگونگی انتخاب مرزها را می‌شناسم.
- چگونگی روابط ایران با همسایگان را می‌شناسم.
- شباهت‌های ایران را با کشورهای همسایه می‌دانم.
- مفهوم روادید یا ویزا را می‌دانم.
- مفهوم گذرنامه یا پاسپورت را می‌دانم.
- انواع خط‌های مرزی را می‌شناسم.

فعالیت عملکردی

به نقشه‌ی مقابل دقت و حدود مکان‌های زیارتی زیر را با علامت (✓) مشخص کنید.



- ۱) حرم حضرت امام رضا (ع)
- ۲) حرم حضرت معصومه (س)
- ۳) حرم امام حسین (ع)
- ۴) حرم امام موسی کاظم (ع) - امام محمد تقی (ع)

درباره‌ی این که در چه کشورهایی برای ورود، به ویزا نیاز نیست و دلایل آن، اطلاعات جمع‌آوری کنید و در کادر زیر بنویسید.

نام کشورها:

اردستان - ترکمنستان - تاجیکستان - افغانستان - عراق - دوحه بیلینا

دلایل:

به دلیل اینکه به موافقت روسیه و هند که همسایران دو کشور ایران و نیز

رضت و آه و کنند.

«مطالعه‌ی موردی»

آموختنی‌ها

- ۱ آشنایی با کشور ترکیه
- ۲ آشنایی با کشور افغانستان



بخوان و پیاموز

در این درس با یک همسایه‌ی شرقی و یک همسایه‌ی غربی ایران آشنا می‌شویم.

تاریخ ترکیه

در دوره‌های مختلف، دولت‌هایی چون امپراطوری هخامنشی، امپراطوری روم شرقی و بعدها امپراطوری عثمانی بر این کشور حکومت کرده‌اند. این کشور در زمان هخامنشیان به تصرف ایران درآمده بود. ترکیه همه ساله به دلیل مناطق طبیعی زیبا و سواحل آفتابی و بناهای تاریخی، گردشگران زیادی را جذب می‌کند و بیش‌تر درآمد کشور ترکیه از این راه است. ترکیه به دریا‌های سیاه، مدیترانه، مرمره و اژه راه دارد. دریاچه‌ی وان در این کشور قرار دارد و بخشی از کوه‌های آرارات نیز در ترکیه قرار دارد.

مسجد ایاصوفیه در حال حاضر به موزه تبدیل شده و مسجد سلطان احمد در استانبول از آثار و بناهای تاریخی می‌باشد.


تاریخ افغانستان



این کشور به دلیل قرار گرفتن در جاده‌ی ابریشم، محل پیوند فرهنگ‌های مختلف بوده است؛ چرا که از زمان‌های قدیم این جاده شاه‌راه تجاری بوده و هم‌چنین این کشور، شاعران، دانشمندان و نویسندگان بزرگی دارد. مردم افغانستان جنگ‌های زیادی به خود دیده‌اند و مشکلات داخلی زیادی داشته‌اند. کشورهای شوروی سابق، آمریکا و حکومت طالبان، سال‌ها با این کشور جنگیده‌اند و این سرزمین را بارها اشغال کرده‌اند. این کشور محصور به خشکی است و به دریا راه ندارد و کوه‌های هندوکش در آن قرار دارد.

مقایسه‌ی ویژگی‌های ترکیه و افغانستان

افغانستان	ترکیه	موقعیت مکانی
آسیای میانه	جنوب غرب آسیا و جنوب قاره‌ی اروپا	ناهمواری
بیش تر نواحی کوهستانی	بیش تر نواحی کوهستانی	همسایگان
چین - پاکستان - ایران - ترکمنستان - ازبکستان - تاجیکستان	خشکی: گرجستان - ارمنستان - ایران - عراق - سوریه - بلغارستان دریایی: یونان	آب و هوا
زمستان‌های سرد، تابستان‌های گرم (قاره‌ای)	ملایم و مرطوب (معتدل)	پایتخت
کابل	آنکارا	زبان
فارسی دری و پشتو	ترکی استانبولی	دین
اسلام	اسلام	واحد پول
افغانی	لیر	بناهای تاریخی
مسجد آبی - مناره‌ی جم - دره‌ی بامیان	مسجد ایاصوفیه - مسجد سلطان احمد	شهرهای مهم
کابل - قندهار - جلال آباد - مزار شریف	آنکارا - استانبول - ازمیر - آدانا - بورسا	بندر مهم
ندارد (به دریا راه ندارد)	استانبول	رودهای مهم
هریرود - هیرمند	قزل ایرماق - دجله و فرات	



مسجد سلطان احمد - استانبول



کاخ توپکاپی - استانبول




مسجد ایاصوفیه - استانبول



تخت رستم - افغانستان



قصر دارالامان - افغانستان



باغ بابر - افغانستان