



نام و نام خانوادگی:

زکواره تاجور دانش بومی

پایه تحصیلی: هفتم متوسطه

نام درس: هندسه

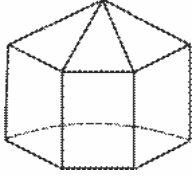
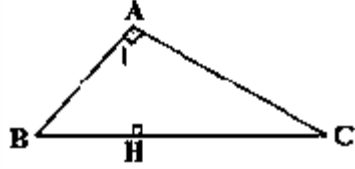
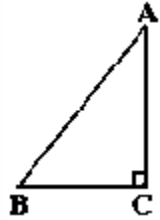
علوی

زمان پیشنهادی: ۴۵ دقیقه

مؤسسه علمی آموزشی علوی

تاریخ برگزاری آزمون: ۹۷/۱۱/۲۷

نام کلاس:

بارم	سؤالات هندسه هفتم متوسطه (صفحه دوم)	ردیف
۰/۵	دید از بالای حجم ترکیبی زیر را رسم کنید. 	۷
۰/۷۵	نشان دهید چرا $\hat{C} = \hat{A}_1$ می باشد؟ 	۸
۱/۲۵	شکل مقابل را ۹۰ درجه در جهت عقربه های ساعت حول نقطه C دوران دهید و اجزای متناظر این دو شکل را بنویسید. 	۹