

شماره‌ی

۲۲

# ارمغان هفته - دوم دبستان

نام و نام خانوادگی: ..... تاریخ: ..... نام آموزگار: .....

ریاضی < فصل ۶: جمع و تفریق اعداد سه رقمی مرور فصل

علوم < درس ۱۲: برای جشن آماده شویم (۱)

فارسی < درس ۱۴: پرچم (۲)

## ریاضی

$$\begin{array}{r} ۳۹۰ \\ +۱۵۶ \\ \hline \end{array}$$

۱ برای عبارت مقابل یک مسئله بنویسید.

.....  
.....  
.....

۲ حاصل تفریق‌های زیر را بنویسید. (به روش تکیکی)

$$\begin{array}{r} ۴۹۱ \\ -۲۲۷ \\ \hline \end{array}$$

$$\begin{array}{r} ۵۶۴ \\ -۱۷۸ \\ \hline \end{array}$$

$$\begin{array}{r} ۶۰۰ \\ -۳۱۹ \\ \hline \end{array}$$

$$\begin{array}{r} ۳۵۱ \\ -۱۰۶ \\ \hline \end{array}$$

۳ الگوها را ادامه دهید.

الف) ۷:۱۰ - ۷:۲۰ - ۷:۳۰ - - -

ب) ۹:۲۰ - ۹:۲۵ - ۹:۳۰ - - -

۴ حاصل هر عبارت را بنویسید.

الف)  $۴۰۰ + ۲۰۰ + ۲ = \dots\dots\dots$

ب)  $۱۰۰ + ۳۰۰ + ۷ + ۵۰ = \dots\dots\dots$

پ)  $۳۰۰ + ۲۰ + ۲ = \dots\dots\dots$

ت)  $۲۰۰ + ۱۰۰ + ۳۰ + ۲۰ = \dots\dots\dots$



الف) حسین ۴ سکه‌ی ۱۰۰ ریالی، ۶ سکه‌ی ۵۰ ریالی و ۸ سکه‌ی ۱ ریالی پول دارد. حسین چقدر پول دارد؟

ب) او می‌خواهد یک دفتر که قیمت آن ۹۸۵ ریال است بخرد. چند ریال دیگر باید از پدرش بگیرد؟

۶) حاصل تفریق و جمع‌های زیر را بنویسید. (به روش تکنیکی)

$$\begin{array}{r} 532 \\ +179 \\ \hline \end{array}$$

$$\begin{array}{r} 182 \\ -151 \\ \hline \end{array}$$

$$\begin{array}{r} 492 \\ +178 \\ \hline \end{array}$$

$$\begin{array}{r} 525 \\ +238 \\ \hline \end{array}$$

### علوم

۱) درستی  و نادرستی  هر عبارت را مشخص کنید.

الف) آب یک ماده‌ی جامد است.

ب) اگر یخ را گرم کنیم به حالت مایع درمی‌آید.


پ) مواد جامد از خود شکلی ندارند و همه‌جا پخش می‌شوند.

ت) یخ شکل ظرف را به خود می‌گیرد.

۲) مادربزرگ درنا برای تهیه‌ی کیک از مواد مختلفی استفاده کرد. برچسب مواد جامد و مایع را در جای مناسب بچسبانید.

جامد

مایع





جاهای خالی را با کلمات مناسب کامل کنید. 

الف) به همه‌ی چیزهایی که در اطراف خود می‌بینیم ..... می‌گوییم.

ب) به چیزهایی که شکل معینی دارند ..... می‌گوییم.

پ) موادّ ..... شکل ظرف را به خود می‌گیرند.


ت) موادّ جلمد مانند ..... و ..... هستند.

### فارسی


کلمات را به معنی درست آن وصل کنید. 

 کسی که اهل سیستان است.

 مسی

 کسی که اهل یزد است.

 یزدی

 چیزی که از مس درست شده است.

 سیستانی

مانند نمونه برای معانی مختلف کلمات داده شده جمله بسازید. 

در ..... پدرم امروز در خانه استراحت می‌کند.

در ..... برای سال جدید در مدرسه را رنگ کردند.

در
در
بیج
بیج
سبیر
سبیر

.....

.....

.....

.....



مدرم جوان داد: هر کدام از رنگ‌های پرچم ساسانه‌ی حمیری اسم؛ برجم ایران سه رنگ دارد. رنگ سر ساسانه‌ی سرسری،

رنگ سعید ساسانه‌ی صلح و دوستی و رنگ سرخ ساسانه‌ی دفاع از منهن و آزادی است

۱- ○○○○○○

۱- معنی کلمه‌ی صلح

۲- ○○○

۲- در پرچم رنگ نشانه‌ی آزادی و سربلندی یک کشور

۳- ○○○○○○○○

۳- شاعر شعر پرستوهای شاد

۴- ○○○○○○○○

۴- به کسی که اهل اهواز باشد

۵- ○○○

۵- مخالف کلمه‌ی اول

۶- ○○○○○

۶- نشانه‌ی وسط پرچم ایران

🍷	معنی کلمات
🍷	املا
🍷	کلمات هم آوا و هم نویسه
🍷	آشنایی با پرچم ایران

🍷	ساخت مسئله
🍷	حل مسئله
🍷	الگویابی
🍷	حالت‌های مختلف مواد
🍷	تشخیص مواد جامد و مایع

شاخص‌ها

- 🍷 خیلی خوب
- 🍷 خوب
- 🍷 قابل قبول
- 🍷 نیاز به تلاش بیشتر