



شماره‌ی

۲۴

# ارمغان هفته - دوم دبستان

نام و نام خانوادگی: ..... تاریخ: ..... نام آموزگار: .....


ریاضی < فصل ۷: کسر و احتمال

علوم < درس ۱۲: برای جشن آماده شویم (۲)

فارسی < درس ۱۵: نوروز (۱)


## ریاضی

به تعداد عدد نوشته شده کنار هر شکل از آن رنگ کنید، سپس کسر مقدار رنگ شده از هر شکل را بنویسید.



۷ تا

(الف) ..... قسمت از ۱۰ قسمت مساوی رنگ شده است.


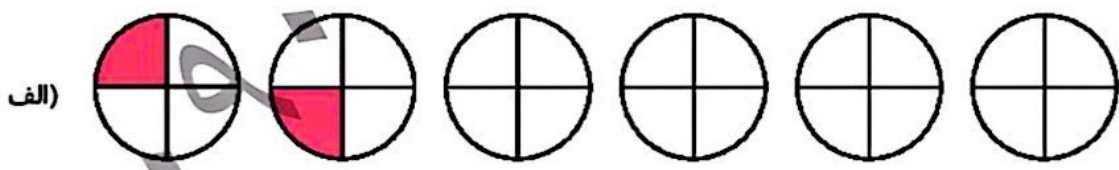


۳۴ تا

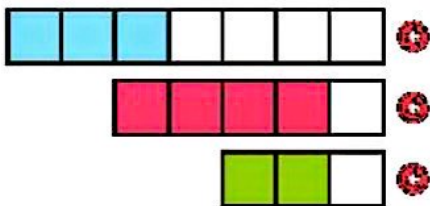
(ب) ده‌تایی و ..... قسمت از ..... قسمت مساوی رنگ شده است.

یا ..... قسمت از ۴۰ قسمت مساوی رنگ شده است.

الگوهای زیر را ادامه دهید.



کدام عبارت قسمت‌های رنگ شده‌ی شکل را بیان می‌کند؟ وصل کنید.



- ۴ قسمت از ۵ قسمت مساوی
- ۲ قسمت از ۲ قسمت مساوی
- ۲ قسمت از ۷ قسمت مساوی

با توجه به شکل جاهای خالی را کامل کنید.

اندازه خط ..... سانتی‌متر و ..... قسمت از ۱۰ قسمت مساوی است.



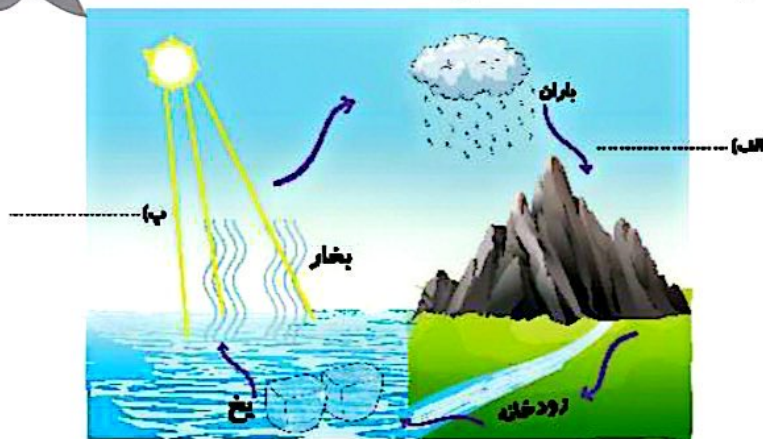
یک کیک به ۸ قسمت مساوی تقسیم و سه قسمت آن خورده شد. چه کسری از کیک خورده شده است؟ (با رسم شکل)

### علوم

درستی  و نادرستی  هر عبارت را مشخص کنید.

- الف) برای ذوب کردن کاکائو از سرما استفاده می‌کنیم.
- ب) شکر، قند و سیب جامد هستند.
- پ) مایع‌ها شکل ظرف را به خود می‌گیرند.
- ت) اگر سبزی را در یک ظرف بریزیم شکل آن ظرف را به خود می‌گیرد.

در کنار هر تصویر یکی از حالت‌های آب (جامد، مایع، گاز) را بنویسید.



۳ در کلاس شما کدام یک از اشیای زیر جای کمتری می‌گیرد؟



۴ جمله‌های مرتبط را به یکدیگر وصل کنید.

گرما و سرما

مهم‌ترین ماده‌ی مایع

آب

شکل معینی ندارد

دوغ

دلیل تغییر حالت مواد

۵ شباهت و تفاوت شکل‌های زیر را بنویسید.



شباهت:

تفاوت:

فارسی

۱ با حروف در هم ریخته کلمه بسازید.


ق - م - ا - س

ل - ح - و - ی - ت

د - ی - ع

و - ر - ن - و - ز

۳

دو نشانه از آمدن فصل بهار را علامت بزنید.



کلمات زیر را مرتب کرده و جمله را بازنویسی کنید.

ماه‌های بهار - بهار - فصل - و - خرداد - اردیبهشت - طبیعت - شدن - زنده - فصل - است - فروردین - ، - که - هستند،

به جای نقطه چین کلماتی بگذارید که با ترکیب، کار، کلمه‌ی جدید ساخته شود و معنی آن را بنویسید.

.....
.....
.....

یعنی:

.....
.....
.....

یعنی:

یعنی:



کار

.....
.....
.....

هنگام نوروز روی سفره‌ی هفت سین چه چیزهایی می‌چینیم؟

	مقایسه‌ی اجسام
	ساخت کلمه
	مرتب کردن کلمات و ساخت جمله
	ساخت کلمه با کاره
	آشنایی با نشانه‌های فصل بهار

	مفهوم کسر
	الگویابی
	ارتباط واحد اندازه‌گیری و کسر
	تغییر حالات آب در چرخه‌ی آب
	مشخصات مواد





# ارمغان هفته - دوم دبستان

شماره‌ی

۲۵

نام و نام خانوادگی: ..... تاریخ: ..... نام آموزگار: .....

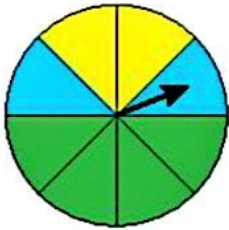
ریاضی <math>\leftarrow</math> فصل ۷: کسر و احتمال - حل مسئله - مفهوم احتمال

علوم <math>\leftarrow</math> درس ۱۳: بعد از جشن (۱)

فارسی <math>\leftarrow</math> درس ۱۵: نوروز (۲)

## ریاضی

۱ یک صفحه‌ی چرخنده به صورت زیر رنگ آمیزی شده است. احتمال ایستادن عقربه بر روی هر کدام از رنگ‌ها را مقایسه کرده و در جاهای خالی از کلمات (کم‌تر - بیش‌تر - مساوی) استفاده کنید.



الف) احتمال ایستادن عقربه بر روی رنگ سبز از رنگ زرد ..... است.

ب) احتمال ایستادن عقربه بر روی رنگ زرد با احتمال ایستادن عقربه بر روی رنگ آبی ..... است.

پ) احتمال ایستادن عقربه بر روی رنگ آبی از رنگ سبز ..... است.



۲ برنا ساعت ۷ از خانه بیرون آمد و ۱۵ دقیقه‌ی بعد به مدرسه رسید.

الف) او چند قسمت از یک ساعت را در راه بوده است؟

ب) مقدار چرخش را رنگ کنید.

پ) چند قسمت از یک ساعت مانده تا ساعت ۸ را شود؟

۳ پریسا ۱۲ سال و مادرش ۳۸ سال دارد. وقتی مادرش ۵۰ ساله شود، پریسا چند ساله می‌شود؟

۴ در یک کیسه ۲۰ مهره داریم. ۷ مهره‌ی سفید، ۵ مهره‌ی قرمز، ۴ مهره‌ی بنفش و ۴ مهره‌ی آبی.

الف) اگر یک مهره از کیسه بیرون بیاوریم، احتمال این‌که چه رنگی باشد بیش‌تر است؟

ب) مهره از مهره سفید است.

پ) مهره از مهره قرمز است.



ت) مهره از مهره بنفش است.

ث) مهره از مهره آبی است.





با توجه به شکل جمله‌ها را کامل کنید.



تایی می‌شود

دسته

(ب)

تایی می‌شود

دسته

(الف)

**علوم**

برچسب خوراکی‌هایی که در یخچال قرار می‌گیرند را داخل یخچال بچسبانید.



۲ درستی  و نادرستی  هر عبارت را مشخص کنید.

الف) از کاغذهای باطله نمی‌توان دوباره استفاده کرد.

ب) ظرفهای چرب را باید با آب سرد شست تا بهتر تمیز شوند.

پ) گوشت و مرغ را باید در جای سرد و خشک قرار داد.

۳ اگر بخواهید زباله‌ها را تفکیک کنید، برچسب هر زباله را در کدام قسمت می‌چسبانید؟

کاغذ	زباله‌های تر	زباله‌های خشک

۴ هر مورد را به مکان نگهداری مرتبط وصل کنید.

نخود و لوبیا

شیر

شکر

بستنی

آجیل

جای سرد و خشک

جای خشک

### فارسی

۱ با توجه به متن درس جمله‌ها را با کلمات مناسب کامل کنید.

الف) روز ..... فروردین را مردم ..... می‌گیرند و به این روز ..... می‌گویند.

ب) پیش از شروع سال جدید همه‌ی مردم ..... می‌کنند و در جشن ..... شرکت می‌کنند.

پ) اعضای خانواده در لحظه‌ی تحویل سال ..... می‌کنند و از خداوند می‌خواهند ..... آنها را خوب و ..... کند.

۲ معنی کلمات زیر را بنویسید.

الف) نخستین: .....  
پ) در این هنگام: .....

ب) کهن: .....  
ت) اعضا: .....

کلمات داده شده را با (ان) جمع کنید و آن‌ها را مانند نمونه بنویسید.

پرنده	+	ان	←	پرنده‌گان
دیده	+	ان	←	
بنده	+	ان	←	
ستاره	+	ان	←	
جوینده	+	ان	←	

واژه‌های مناسب را انتخاب کرده و در جاهای خالی بنویسید.

مددکار  
نیکوکار  
ستم‌کار

الف) کسی است که به دیگران کمک می‌کند.

ب) کسی که ظلم و ستم می‌کند نام دارد.

پ) به کسی که کار نیک انجام می‌دهد می‌گویند.

مخالف هر کلمه را در جدول پیدا و رنگ کنید.

پایان	پیر	خلموش	روز
خراب	خواب	آغاز	آباد
اولین	کهنه	بیدار	جوان
شب	آخرین	روشن	نو

جستجوی کلمات	🍷
معنی کلمات	🍷
متضاد	🍷
مفهوم کلمات ترکیبی با «کار»	🍷
ترکیب جمع با «دان»	🍷

مفهوم احتمال روی چرخنده	🍷
حل مسئله	🍷
دسته بندی (ضرب)	🍷
طبقه بندی مواد و نگهداری آن‌ها	🍷
بازریافت	🍷

شاخص‌ها

- غیاسی خوب
- خوب
- فشار قبول
- نیاز به تلاش بیش‌تر