



مرور فصل چهارم





۱. جاهای خالی را پر کنید.

الف) یک دسته ی ۱۰۰ تایی برابر است با یکی

ب) یک سکه ی ۱۰ ریالی برابر است با تا ۱ ریالی

پ) ۱۰۰ سکه ی ۱ ریالی برابر است با سکه ی ۱۰ ریالی

ت) ۷۰ سکه ی ۱ ریالی برابر است با سکه ی ۱۰ ریالی

ث) ۱۰۰ سکه ی ۱ ریالی برابر است با سکه ۱۰۰ ریالی

ج) ۱ سکه ی ۱۰۰ ریالی برابر با سکه ی ۵۰ ریالی

۱. جاهای خالی را پر کنید.

الف) یک دسته ی ۱۰۰ تایی برابر است با یکی

ب) یک سکه ی ۱۰ ریالی برابر است با تا ۱ ریالی

پ) ۱۰۰ سکه ی ۱ ریالی برابر است با سکه ی ۱۰ ریالی

ت) ۷۰ سکه ی ۱ ریالی برابر است با سکه ی ۱۰ ریالی

ث) ۱۰۰ سکه ی ۱ ریالی برابر است با سکه ۱۰۰ ریالی

ج) ۱ سکه ی ۱۰۰ ریالی برابر با سکه ی ۵۰ ریالی

یک سکه ی ۲۵۰ ریالی برابر با ۱۰۰ ریالی و ریالی

یک سکه ی ۳۵۰ ریالی برابر با ۱۰۰ ریالی و ریالی



یک سکه ی ۲۵۰ ریالی برابر با ۱۰۰ ریالی و ریالی

یک سکه ی ۳۵۰ ریالی برابر با ۱۰۰ ریالی و ریالی



۱۰۰	۵۰
۲	۱



۱۰۰	۵۰
۳	۱



۱. جاهای خالی را پر کنید.

الف) ۳ دسته ی صدتایی ، ۵ دسته ی ۱۰ تایی و ۴ یکی می شود

الف) ۶ سکه ی صد ریالی ، ۰ سکه ی ۱۰ ریالی و ۸ سکه ی ۱ ریالی می شود

پ) اگر ۳ سکه ی ۱۰ ریالی و ۲ سکه ی ۱۰۰ ریالی به ۲۱۴ اضافه کنیم می شود

۲. گسترده اعداد را بنویسید.

$$۵۴۸ =$$

$$۶۱۰ =$$

$$۷۰۶ =$$

$$۳۹۲ =$$

۱. جاهای خالی را پر کنید.

الف) ۳ دسته ی صدتایی ، ۵ دسته ی ۱۰ تایی و ۴ یکی می شود $\underline{354}$

الف) ۶ سکه ی صد ریالی ، ۰ سکه ی ۱۰ ریالی و ۸ سکه ی ۱ ریالی می شود $\underline{608}$

پ) اگر ۳ سکه ی ۱۰ ریالی و ۲ سکه ی ۱۰۰ ریالی به ۲۱۴ اضافه کنیم می شود $\underline{444}$

۲. گسترده اعداد را بنویسید.

$$548 = 500 + 40 + 8$$

$$610 = 600 + 10$$

$$706 = 700 + 6$$

$$392 = 300 + 90 + 2$$

۴. با کارت های ۹ ، ۳ ، ۴ عددی رو بنویسید که رقم صدگان آن از رقم یکان بیشتر باشد

۴. با کارت های ۵ ، ۰ ، ۱ عددی رو بنویسید که رقم دهگان آن از رقم یکان کم تر باشد.

۴. با کارت های ۴ ، ۲ ، ۶ عددی رو بنویسید که جمع رقم یکان و صدگان برابر با رقم دهگان باشد.

۴. با کارت های ۳، ۴، ۹ عددی رو بنویسید که رقم صدگان آن از رقم یکان بیشتر باشد

$$\boxed{943} - \boxed{934} - \boxed{493} - 439 - 394 - 349$$

۴. با کارت های ۱، ۰، ۵ عددی رو بنویسید که رقم دهگان آن از رقم یکان کم تر باشد.

$$510 - \boxed{501} - 150 - \boxed{105}$$

۴. با کارت های ۲، ۴، ۶ عددی رو بنویسید که جمع رقم یکان و صدگان برابر با رقم دهگان باشد.

$$642 - 624 - \boxed{462} - 426 - \boxed{264} - 246$$

۳. جمع و تفریق زیر را با حذف رقم یکان و دهگان تقریب بنویسید.

$$\begin{array}{r} ۳۵۸ \rightarrow \text{---} \\ + ۴۱۵ \rightarrow \text{---} \\ \hline \end{array}$$

$$\begin{array}{r} ۴۶۷ \rightarrow \text{---} \\ + ۱۰۵ \rightarrow \text{---} \\ \hline \end{array}$$

$$\begin{array}{r} ۵۳۴ \rightarrow \text{---} \\ - ۳۷۰ \rightarrow \text{---} \\ \hline \end{array}$$

۳. جمع و تفریق زیر را با حذف رقم یکان تقریب بنویسید.

$$\begin{array}{r} ۴۲۸ \rightarrow \text{---} \\ + ۲۶۰ \rightarrow \text{---} \\ \hline \end{array}$$

$$\begin{array}{r} ۳۲۵ \rightarrow \text{---} \\ - ۱۰۸ \rightarrow \text{---} \\ \hline \end{array}$$

$$\begin{array}{r} ۸۰۴ \rightarrow \text{---} \\ - ۵۰۱ \rightarrow \text{---} \\ \hline \end{array}$$

۳. جمع و تفریق زیر را با حذف رقم یکان و دهگان تقریب بنویسید.

$$\begin{array}{r} ۳۵۸ \longrightarrow \underline{۳۰۰} \\ + ۴۱۵ \longrightarrow \underline{۴۰۰} \\ \hline ۷۰۰ \end{array}$$

$$\begin{array}{r} ۴۶۷ \longrightarrow \underline{۴۰۰} \\ + ۱۰۵ \longrightarrow \underline{۱۰۰} \\ \hline ۵۰۰ \end{array}$$

$$\begin{array}{r} ۵۳۴ \longrightarrow \underline{۵۰۰} \\ - ۳۷۰ \longrightarrow \underline{۳۰۰} \\ \hline ۲۰۰ \end{array}$$


۳. جمع و تفریق زیر را با حذف رقم یکان تقریب بنویسید.

$$\begin{array}{r} ۴۲۸ \longrightarrow \underline{۴۲۰} \\ + ۲۶۰ \longrightarrow \underline{۲۶۰} \\ \hline ۶۸۰ \end{array}$$


$$\begin{array}{r} ۳۲۵ \longrightarrow \underline{۳۲۰} \\ - ۱۰۸ \longrightarrow \underline{۱۰۰} \\ \hline ۲۲۰ \end{array}$$

$$\begin{array}{r} ۸۰۴ \longrightarrow \underline{۸۰۰} \\ - ۵۰۱ \longrightarrow \underline{۵۰۰} \\ \hline ۳۰۰ \end{array}$$

۲. سوال های زیر با روش جمع و تفریق فرآیندی حل کنید.




نیم ساعت بعد




..... :

..... :




یک ربع بعد



..... :


..... :

۲. سوال های زیر با روش جمع و تفریق فرآیندی حل کنید.




۰۲:۲۰

نیم ساعت بعد




۰۲:۵۰




۰۸:۵۵

یک ربع بعد

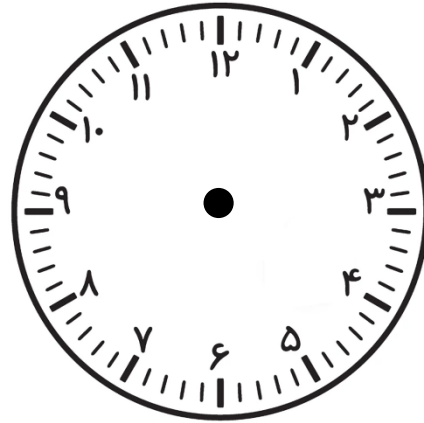


۰۹:۱۰

۲. سوال های زیر با روش جمع و تفریق فرآیندی حل کنید.




۱۰ دقیقه قبل

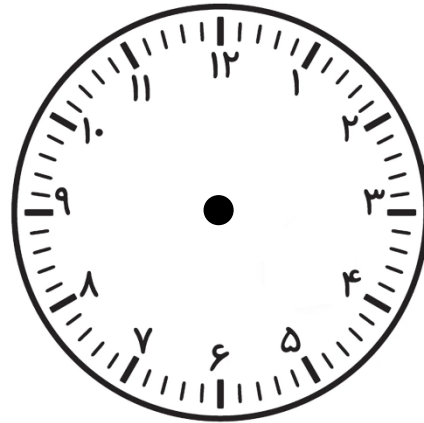


..... :

..... :




۲۰ دقیقه قبل



..... :

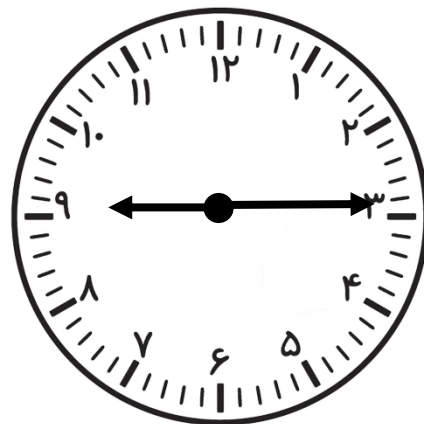
..... :

۲. سوال های زیر با روش جمع و تفریق فرآیندی حل کنید.



• ۹ : ۲۵

۱۰ دقیقه قبل




• ۹ : ۱۵



• ۷ : ۲۰

۲۰ دقیقه قبل



• ۷ : • •