

به نام خدا


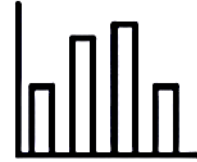
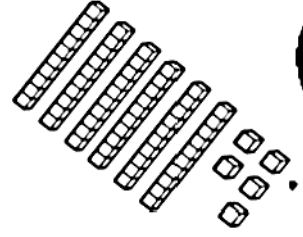
علوی



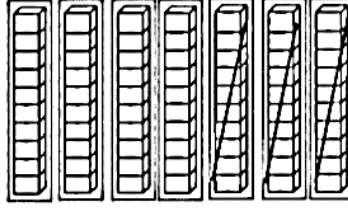
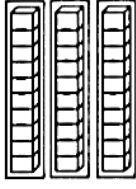
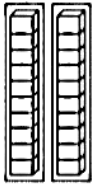
پایه دوم دبستان

نام و نام خانوادگی

ریاضی دوره ای فصل دوم



به نام خدا
نمونه سوالات فصل دوم ریاضی پایه دوم




۱- حاصل را به دست آور.

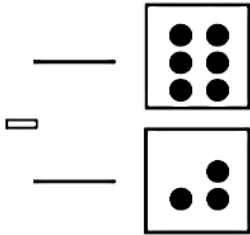
$$\dots + \dots = \dots$$

$$\dots - \dots = \dots$$


۲- به صورت ذهنی جواب را بدست آور و به گزینه درست وصل کن.



۳- کامل کن.

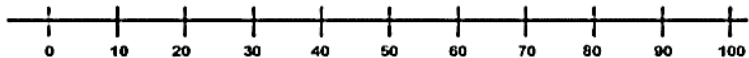


+

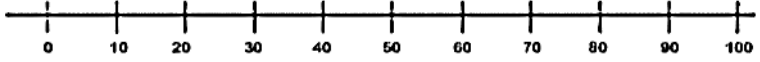


۴- روی محور جواب را به دست آور.

$$\begin{array}{r} 30 \\ + 40 \\ \hline \end{array}$$



$$\begin{array}{r} 90 \\ - 60 \\ \hline \end{array}$$



۵- ۶ دسته ی ده تایی به اضافه ی ۳ دسته ی ده تایی می شود..... دسته ی ده تایی.

$$\dots + \dots = \dots$$

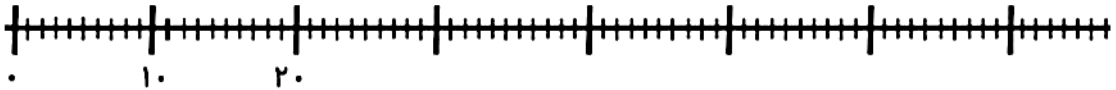
..... دسته ی ده تایی منهای ۲ دسته ی ده تایی می شود دسته ی ده تایی.

$$70 - \dots = \dots$$

..... دسته ی ده تایی به اضافه ی دسته ی ده تایی می شود دسته ی ده تایی.

$$50 + 40 = \dots$$

۶- اعداد زیر را روی محور نشان بده. (۱۹-۲۴-۴۷-۵۸-۷۳)



۷- سه تایی اول را با استفاده از چوب خط و سه تایی دوم را با استفاده از رسم شکل و دو تایی سوم را

$$9 + 9 = \dots$$

$$7 + 6 = \dots$$

$$14 - 5 = \dots$$



با استفاده محور حل کن.



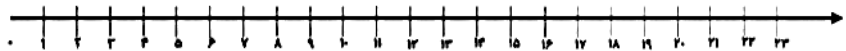
$$3 + 8 = \dots$$

$$2 + 11 = \dots$$

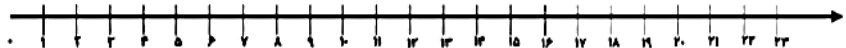
$$18 + 7 = \dots$$




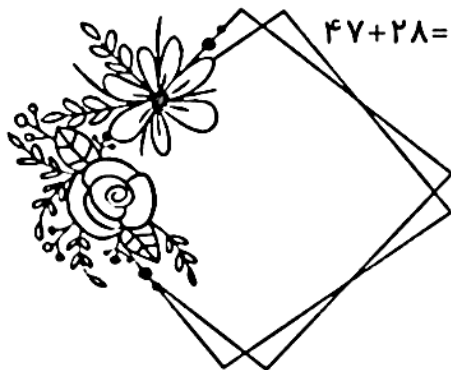
$$17 - 13 + 8 = \dots$$



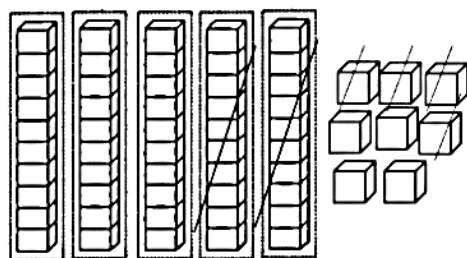
$$6 + 10 - 5 = \dots$$



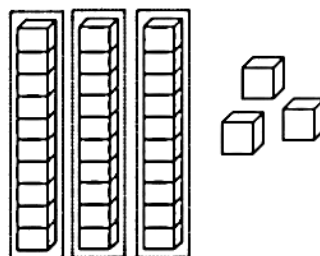
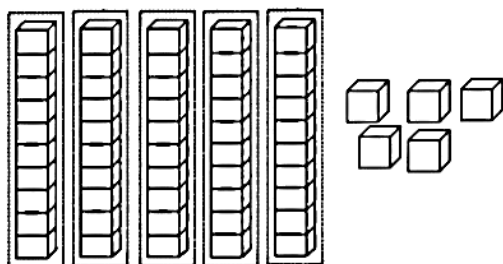
۸- با کشیدن شکل حل کن.



۹- با توجه به شکل ها ، جاهای خالی را کامل کن.



$$\dots\dots - \dots\dots = \dots\dots$$



$$\dots\dots + \dots\dots = \dots\dots$$

۱۰- جمع و تفریق کن (ابتدا ده تایی ها و سپس یکی ها را اضافه کن).

$$\begin{array}{r} 44 \\ + 24 \\ \hline \end{array}$$

$$\begin{array}{r} 37 \\ + 32 \\ \hline \end{array}$$

$$\begin{array}{r} 87 \\ - 45 \\ \hline \end{array}$$


$$\begin{array}{r} 98 \\ - 54 \\ \hline \end{array}$$

حالا دور بزرگترین جواب به دست آمده خط بکش.

جوابی که یکان آن ۲ است عدد است.

۱۱- با رسم شکل حل کن.

$$\begin{array}{r} 37 \\ + 16 \\ \hline \end{array}$$



$$\begin{array}{r} 19 \\ + 22 \\ \hline \end{array}$$



$$\begin{array}{r} 26 \\ - 12 \\ \hline \end{array}$$



۱۲- به کمک جدول اعداد ۱ تا ۱۰۰ حاصل را پیدا کن. مثلا اول ۳۴ را پیدا کن و ۲ خانه پایین برو و

از آنجا ۷ خانه به جلو حرکت کن.

۱	۲	۳	۴	۵	۶	۷	۸	۹	۱۰
۱۱	۱۲	۱۳	۱۴	۱۵	۱۶	۱۷	۱۸	۱۹	۲۰
۲۱	۲۲	۲۳	۲۴	۲۵	۲۶	۲۷	۲۸	۲۹	۳۰
۳۱	۳۲	۳۳	۳۴	۳۵	۳۶	۳۷	۳۸	۳۹	۴۰
۴۱	۴۲	۴۳	۴۴	۴۵	۴۶	۴۷	۴۸	۴۹	۵۰
۵۱	۵۲	۵۳	۵۴	۵۵	۵۶	۵۷	۵۸	۵۹	۶۰
۶۱	۶۲	۶۳	۶۴	۶۵	۶۶	۶۷	۶۸	۶۹	۷۰
۷۱	۷۲	۷۳	۷۴	۷۵	۷۶	۷۷	۷۸	۷۹	۸۰
۸۱	۸۲	۸۳	۸۴	۸۵	۸۶	۸۷	۸۸	۸۹	۹۰
۹۱	۹۲	۹۳	۹۴	۹۵	۹۶	۹۷	۹۸	۹۹	۱۰۰

$$\begin{array}{r} 34 \\ + 27 \\ \hline \end{array}$$

$$\begin{array}{r} 72 \\ - 18 \\ \hline \end{array}$$

$$\begin{array}{r} 97 \\ - 39 \\ \hline \end{array}$$

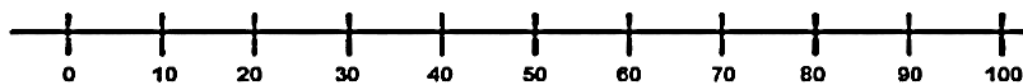
$$\begin{array}{r} 69 \\ + 24 \\ \hline \end{array}$$

۱۳- ساعت چند است؟



ساعت و دقیقه است. ساعت و دقیقه است. ساعت و دقیقه است. ساعت و دقیقه است.

۱۴- این اعداد را روی محور به صورت تقریبی نشان بده. (۲۷ و ۳۹، ۴۲، ۵۴)



عدد ۲۷ به نزدیکتر است یا؟

عدد ۵۴ به نزدیکتر است یا؟


عدد ۴۲ به نزدیکتر است یا؟

عدد ۳۹ به نزدیکتر است یا؟

۱۵- جواب جمع و تفریق های زیر را به صورت تقریبی به دست آور.

$\begin{array}{r} 37 \rightarrow \text{---} \\ + 26 \rightarrow \text{---} \\ \hline \end{array}$	$\begin{array}{r} 84 \rightarrow \text{---} \\ - 36 \rightarrow \text{---} \\ \hline \end{array}$	$\begin{array}{r} 71 \rightarrow \text{---} \\ + 28 \rightarrow \text{---} \\ \hline \end{array}$	$\begin{array}{r} 50 \rightarrow \text{---} \\ - 15 \rightarrow \text{---} \\ \hline \end{array}$
---	---	---	---

۱۶- ساعت پخش ۴ برنامه شبکه ی پویا را نشان بده.



۱۷- سهیل و دوستش برای درست کردن کاردستی، سنگ های ریز جمع می کردند. سهیل ۳۷ سنگ

و دوستش ۴۹ سنگ جمع کردند.



الف) آن ها با هم چند سنگ جمع کرده اند؟

ب) اگر برای کاردستی ۵۸ سنگ بردارند چند سنگ باقی می ماند؟

۱۸- پایان فصل پنجم کتاب درسی ریاضی ات چه صفحه ای است؟.....

پایان فصل دوم همین کتابت چه صفحه ای است؟.....

بین این دو فصل چند صفحه است؟

