



ارمغان هفته - سوم دبستان

شماره ی
۲۲

نام و نام خانوادگی: تاریخ: نام آموزگار:

ریاضی < فصل ۷: حدس و آزمایش، استوانه و مخروط
مطالعات اجتماعی < درس ۱۹: مکان‌های مدرسه را بشناسیم.
علوم < درس ۱۱ و ۱۲: بکاربرد و ببینید، هر کدام جای خود (۱) هدیه‌های آسمان < درس ۱۶: داناترین مردم
فارسی < درس ۱۵: دریا
قرآن < انس با قرآن کریم ۱۲

ریاضی

۱) ۵ برابر عددی به علاوه ۳ می‌شود ۴۸، آن عدد چیست؟

.....
.....

۲) ۴ برابر شعاع دایره‌ای ۱۶ سانتی‌متر است. قطر دایره چند سانتی‌متر است؟

.....
.....

۳) نام سه وسیله‌ی استوانه‌ای شکل را بنویسید.

.....
.....

۴) مسئله‌های زیر را با استفاده از راهبرد حدس و آزمایش حل کنید.

الف) عددی را نصف کردیم سپس حاصل را با ۴ جمع کردیم و جواب ۱۲ شد. آن عدد کدام است؟

.....
.....

ب) اندازه‌ی محیط یک مستطیل ۱۲ سانتی‌متر است. اگر عرض مستطیل نصف طول آن باشد، اندازه‌ی عرض آن چقدر است؟

.....
.....

پ) عددی را بر ۸ تقسیم کردیم و حاصل را در خودش ضرب کردیم پاسخ ۹ شد. عدد مورد نظر چند است؟

.....
.....



بهباد می‌خواهد برای تولد برادرش یک کلاه رنگارنگ درست کند. او با برش زدن کدام یک از اشکال زیر می‌تواند کلاه را بسازد؟



علوم

تصویر یک ماهی را بکشید و پولک، دم و باله‌های آن را مشخص کنید.

جاهای خالی را با کلمات مناسب کامل کنید.

الف) ماهی‌ها دانه‌ها را از هوای درون آب تنفس می‌کنند.

ب) بودن روی بدن ماهی به حرکت آن کمک می‌کند.

من چیستم؟

الف) خیلی کوچکم، اما اگر در خاک بیفتم و آب کافی به من برسد می‌توانم گیاه جدیدی بسازم.

ب) بخشی از گل زعفران هستم که مرا از گل جدا می‌کنند و بسیار قیمتی هستم.

پ) قسمتی از گیاه هستم که به کارخانه‌ی غذاسازی معروفم.

ت) گیاهی با برگ‌های سوزنی هستم که مخروط دارم و همیشه سبزم.

با توجه به تعداد گلبرگ‌ها، برگ و ریشه‌ی هر گل را بکشید.



فارسی

ماهی را به تنگ برسایید. حرف‌هایی را رنگ بزنید که با استفاده از آن جمله‌ی «دریای آبی زیباست»، ساخته شود.



م	ج	ه	ی	گ	ل	م	ن	و	ه	ی
د	ر	ی	ا	ی	ی	ش	ی	ب	ل	س
ژ	ه	ا	ی	آ	ب	ی	ز	ی	س	ت
د	ل	ه	ا	م	ا	ی	ی	ب	ا	ت

با استفاده از کلمه‌های «پایه، زبانه، گوشه و دسته»، متن زیر را کامل کنید. (یک کلمه اضافه است.)

اتاق تاریک بود. دستم به صندلی خورد و روی زمین افتاد و یک ی آن شکست. ناگهان کسی وارد اتاق شد. مادرم ی میز گیر کرد و به زمین افتاد. مرا که در ی اتاق نشسته بودم و از ترس می‌لرزیدم، با خود برد..

مانند نمونه شباهت‌ها را پیدا کنید و بنویسید.

چشمش خورشیدی درخشان است، **یعنی** چشم او مثل خورشید می‌درخشد.

صورت مادرم گلی سرخ و زیباست، **یعنی**

دندان‌های مریم مرواریدهایی سفید است، **یعنی**

مطالعات اجتماعی

برای هر مکان نماد مرتبگی به دلخواه خود بکشید.



نقشه‌ی ساده‌ای از یکی از طبقات مدرسه خود رسم کنید. (سعی کنید اصلی‌ترین طبقه را در نظر بگیرید.)

۲

۳ با توجه به کلمات زیر جاهای خالی را کامل کنید.

فروشگاه - علامت‌هایی - احترام به دیگران - مفید - سلامتی - مقرراتی،

الف) برای استفاده از نقشه در کنار آن برای راهنمایی باید وجود داشته باشد.

ب) معمولاً هر مدرسه در کنار حیاط یک کوچک دارد.

پ) مدرسه هم مانند خانه دارد.






ت) رعایت بعضی از مقررات در مدرسه موجب حفظ ما می‌شود و بعضی مقررات را برای رعایت می‌کنیم.

هدیه‌های آسمان - قرآن

۱ محل دفن امام محمد باقر (ع) در کنار امام (ع) در قبرستان می‌باشد.

۲ لقب امام پنجم چیست؟ و تحقیق کنید که چرا به ایشان این لقب را داده‌اند؟

	واژه‌شناسی
	آشنایی با نقشه و نقشه‌خوانی
	مقررات مدرسه
	آشنایی با امام پنجم

	راهبرد حدس و آزمایش
	شناخت استوانه و مخروط و گسترده‌ی آنها
	دسته‌بندی گیاهان
	جانوران مهردار (ماهی‌ها)
	تشبیه

	شاخص‌ها
	غلبه غروب
	غروب
	فشار قبول
	نیاز به تلاش بیشتر

۴