

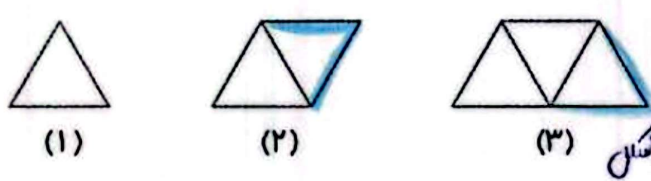
ریاضی

۱ درنا یک کتاب به قیمت ۳۹۴۵ تومان و یک خطکش به قیمت ۱۲۹۱ و یک دفتر به قیمت ۳۸۲۵ تومان خرید. درنا به طور تقریبی

چند ریال خرید کرده است؟

تومان ۳۹۴۵ $\xrightarrow{\text{به طور تقریبی}}$ ۴۰۰۰ تومان
 تومان ۱۲۹۱ $\xrightarrow{\text{تقریباً}}$ ۱۰۰۰ تومان
 تومان ۳۸۲۵ $\xrightarrow{\text{تقریباً}}$ ۴۰۰۰ تومان
 $۴۰۰۰ + ۱۰۰۰ + ۴۰۰۰ = ۹۰۰۰$ تومان = ۷۵۰۰۰ ریال
 ۷۵۰۰۰ ریال خرید کرده است.

۲ با چوب کبریت الگویی مانند شکل زیر ایجاد کرده ایم. برای هر ضلع مثلث یک چوب کبریت لازم است. اگر در مرحله هفتم ۱۷ چوب کبریت استفاده شده باشد، در مرحله نهم چند چوب کبریت استفاده شده بود؟



هر مرحله که به جلو می رویم ۲ چوب کبریت به شکل قبل اضافه می شود.
 تعداد چوب کبریت های شکل نهم = $۱۷ + ۲ = ۱۹$

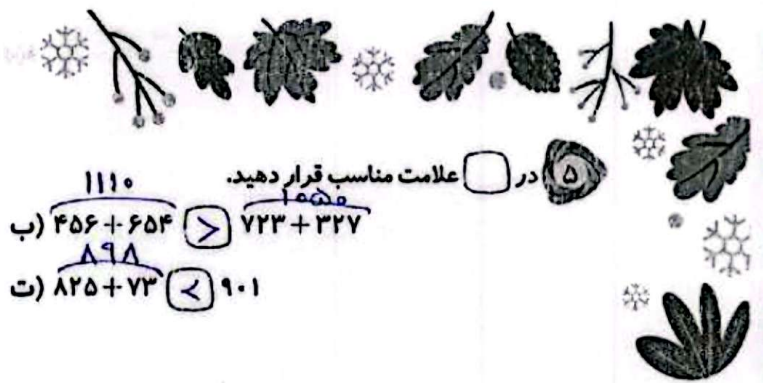
۳ مادر درنا در حال آویزان کردن رختها می باشد. او برای آویزان کردن رختها می خواهد از کمترین گیره استفاده کند. او برای آویزان کردن سه رخت به چهار گیره نیاز دارد. برای آویزان کردن ۱۲ رخت به چند گیره نیاز دارد؟



گیره ۴ \rightarrow ۳ رخت
 گیره ۵ \rightarrow ۴ رخت
 گیره ۱۳ \rightarrow ۱۲ رخت
 برای آویزان کردن لباسها یک گیره بیشتر از مقدار رخت هایباز داریم.

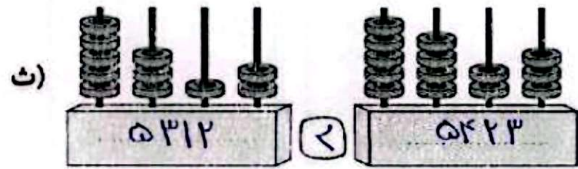
- ۴ مقدار بیش تر را رنگ کنید.
- الف) ۳۴۵۰ ریال ، ۳۲۶۰ تومان (الف)
 - ب) ۶۱۲۰ ریال ، ۶۱۰۰ تومان (ب)
 - پ) ۴۳۲۰ ریال ، ۴۳۲۰ تومان (پ)
- ۳۴۵ تومان ۹۱۲ تومان ۴۳۲ تومان





الف) $490 - 240 < 480 + 119$
 ب) $4013 < 4031$

در علامت مناسب قرار دهید.
 ب) $456 + 654 > 723 + 327$
 ت) $825 + 73 < 901$



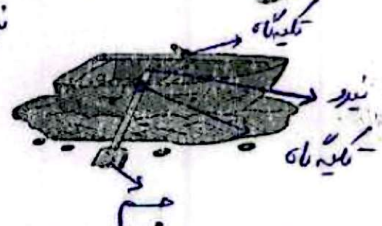
علوم



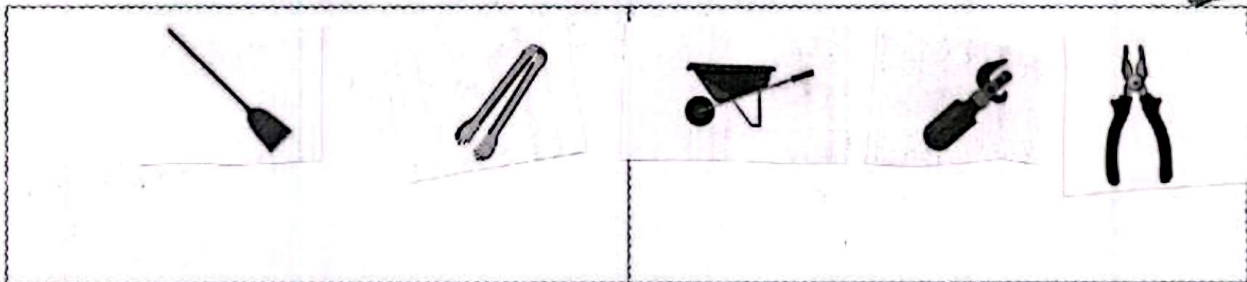
۱ قیچی مقابل برای جسم محکم و سخت مناسب‌تر است یا جسم نرم؟ چرا؟
 جسم نرم ... با توجه به اینکه محل وارود نیرو، نیرو از تکیه‌گاه فاصله دارد. در این نوع اهرم‌ها سرعت لغزشش می‌باشد و نیروی کمتری نسبت به قیچی‌های دیگر (غلزبری) می‌توان وارد کرد.



۲ در هر تصویر محل نیرو، جسم و تکیه‌گاه را مشخص کنید.



۳ برچسب اهرم‌ها را با توجه به این که نیرو را بیش‌تر می‌کند یا سرعت جابه‌جایی را دسته‌بندی کنید.



فارسی

۱ جدول زیر را با توجه به ارتباط کلمات کامل کنید.

نانوایی	نانوا.....
.....صنایع	قصاب

کفاش	کفایتی.....
.....خیاطی	صَاط

۲



۲ با توجه به درس «ایران آباد، نام چند شهید را نوشته و در مورد یکی از شهدا که می‌شناسید چند سطر بنویسید.

شهر عباس بابایی... مصطفی اردستانی... عباس دوران...
 شهید عباس بابایی... خلیجان نیروی هوایی... بود که در سال ۱۳۹۶... بر اثر... یواغند... سیاه... با... کشته شد.

۳ جاهای خالی را با کلمه‌های داخل کمانک کامل کنید.


- (الف) بچه‌ها..... به کودکان رفتند. (بچه‌ها) او، دانش آموزان
 (ب) آن‌ها..... در سیرک، به نمایش دلقک‌ها خندیدند. (آن‌ها، ترگس، پدرش)
 (پ) آکای اجروی... کسی است که در کتابخانه کار می‌کند. (آقای احمدی، من، علی و برادرش)

۴ برای هر کلمه یک هم‌خانواده بنویسید.

منطقه	منطق	حفظ	حافظ	شجاعت	شجاع
خطر	خطرناک	حرمین	حرمین	درس	مدرسه

مطالعات اجتماعی

۱ شماره تلفن‌های مربوط به تصاویر زیر را در جای خالی بنویسید.



۱۱۰ ۱۲۵ ۱۱۵

۲ (الف) رنگ زرد شعله بخاری به چه معناست؟ ... گاز بی‌خطر...
 (ب) چرا سیگار کشیدن در محدوده‌ی پمپ‌های بنزین اکیداً ممنوع می‌باشد؟ ... چون باعث آتش‌سوزی می‌شود...

۳ اگر در خانه بوی گاز احساس کردید به ترتیب چه کارهایی انجام می‌دهید؟ (شماره‌گذاری کنید).

- ۲ بستن شیر گاز
- ۳ باز کردن پنجره
- ۱ نزدن کلید برق و یا روشن نکردن کبریت
- ۵ هدایت هوا به بیرون با حوله
- ۴ خیس کردن حوله

۳





ارمغان هفته - سوم دبستان

نام و نام خانوادگی: تاریخ: نام آموزگار:

ریاضی < فصل ۶: جمع و تفریق فرآیندی
علوم < درس ۱۱: بکاربرد و ببینید
فارسی < درس ۱۴: ایران آباد

مطالعات اجتماعی < درس ۱۸: مدرسه‌ی دوست داشتنی ما
هدیه‌های آسمان < درس ۱۴: خانه‌ام را دوست دارم.
قرآن < فصل ۳: انس با قرآن کریم (۱۰)

ریاضی

جمع و تفریق زیر را با روش فرآیندی محاسبه کنید.

$$\begin{array}{r} 7199 \\ - 3284 \\ \hline 3915 \end{array}$$

$$\begin{array}{r} 4452 \\ + 2784 \\ \hline 7236 \end{array}$$

$$\begin{array}{r} 8732 \\ - 2925 \\ \hline 5807 \end{array}$$

$$\begin{array}{r} 6171 \\ + 1825 \\ \hline 7996 \end{array}$$

$$\begin{array}{r} 8452 \\ + 789 \\ \hline 9241 \end{array}$$

$$\begin{array}{r} 9734 \\ - 925 \\ \hline 8809 \end{array}$$

$$\begin{array}{r} 7496 \\ - 3286 \\ \hline 4210 \end{array}$$

برنا ۷۴۰ تومان پول دارد. پول برادرش ۲۳۱ تومان از او بیش‌تر است. آن‌ها روی هم چند تومان پول دارند؟

$$\begin{array}{r} 740 \\ + 231 \\ \hline 971 \end{array}$$

آن‌ها روی هم ۹۷۱ تومان پول دارند.

حاصل جمع و تفریق‌های زیر را به صورت ذهنی به دست آورید.

$$6000 - 4000 = 2000$$

$$4100 + 900 = 5000$$

$$1700 + 300 = 2000$$

$$9000 - 700 = 8300$$

$$5000 + 2000 = 7000$$

$$4000 - 500 = 3500$$

با حذف رقم یکان و دهگان و صدگان حاصل جمع و تفریق‌های زیر را از بین پاسخ‌ها پیدا کنید.

$$\begin{array}{r} 2562 \\ - 2487 \\ \hline \end{array}$$

$$\begin{array}{r} 1768 \\ + 4359 \\ \hline \end{array}$$

- ۱۱۰۰
- ۶۰۰۰
- ۵۰۰۰
- ۶۸۰۰
- ۱۰۰۰

حاصل تقریبی هر عبارت بین کدام دو عدد هزارتایی قرار می‌گیرد؟ (با حذف رقم یکان و دهگان)

$$6351 + 1482 \approx 7800$$

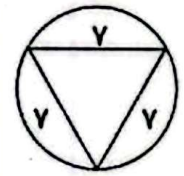
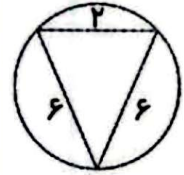
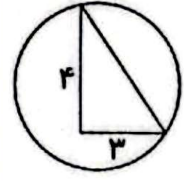
$$4458 - 2267 \approx 2200$$





با توجه به شکل‌های زیر گزینه‌ی مناسب را رنگ کنید.

مثلث متساوی‌الساقین	مثلث قائم‌الزاویه	مثلث متساوی‌الاضلاع
مثلث متساوی‌الساقین	مثلث قائم‌الزاویه	مثلث متساوی‌الاضلاع
مثلث متساوی‌الساقین	مثلث قائم‌الزاویه	مثلث متساوی‌الاضلاع



علوم

نوع ریشه‌ی هر کدام از تصاویر را بنویسید. (راست - افشان)



..... راست راست راست افشان افشان
------------------	------------------	------------------	-------------------	-------------------

گیاهانی را که ریشه‌ی آن‌ها خوراکی است با علامت ضربدر مشخص کنید.



سه گیاه نام ببرید که مواد غذایی را در ریشه‌ی خود ذخیره می‌کنند.

ترب - هویج - سلنجم - لپو



۴ از برگ چه گیاهی به عنوان خوراکی و غذا استفاده می‌شود؟ (سه مورد نام ببرید).

کاهو - اسفناج - هفت‌نذر - نعناع

فارسی

۱ زیر کلمات نادرست خط بکشید و درست آن‌ها را بنویسید.

سنعت، بحس، محلّی، وضیفه، باعث، حفظ، برخواست

صنعت - بحث - وظیفه - برخاست

۲ بیت زیر را کامل کنید.

مخمس خوش رنگم آنگار

دست در دست هم دهیم به مهر

۳ در متن درس چهاردهم، واژه‌هایی که بی‌نقطه هستند پیدا کنید و بنویسید.

رسم - درس - اصل - گروه - ولی - طول - سال - احمد - جلوی کلاس - هم -

عمل - دست - چشم - جدول - همکار - می‌دارد

۴ برای این جدول پرش‌های مناسب بنویسید.

			ب	آ	۱
		ر	ز	خ	۲
	ن	ه	ی	م	۳
	ن	ا	ر	ی	۴
ه	ا	ی	د	ا	۵

۱- جای بی‌حیات

۲- نام دریای شمال ایران

۳- نام دیگر وطن

۴- کسوری که از دو سو (شمال و جنوب) به دریای خلیج می‌رسد

۵- محل تولد

مطالعات اجتماعی

۱ کدام کارها در مدرسه انجام نمی‌شود؟ مشخص کنید.

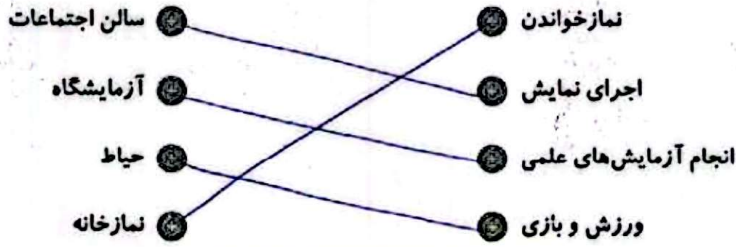




۲ پنج مورد از کارهای مورد علاقه‌ی خود در مدرسه را بنویسید.

هنرمند - ورزش - موسیقی - بازی با همکلاس - یاد گرفتن - تفریح - صرف بخار در بخار دوستان

۳ هر یک از کارهای سمت راست در کدام مکان از مدرسه انجام می‌گیرد؟ (وصل کنید).



هدیه‌های آسمان - قرآن

۱ نام‌های حضرت زهرا (س) را از جدول زیر پیدا کنید. علاوه بر رنگ کردن آن‌ها در جدول، نام‌ها را بنویسید.

م	ب	ا	ر	ک	ه
ف	ا	ط	م	ه	م
ص	د	ی	ق	ه	ر
ط	ا	ه	ر	ه	ض
م	ح	د	ث	ه	ی
ر	ی	ح	ا	ن	ه

مبارک
فاطمه
صدیقه
طاهره
عده
رحمانه
صحنه

۲ تسمیحات حضرت زهرا (س) را به ترتیب نام ببرید و تعداد آن‌ها را بنویسید.

۳۳ بار سبحان الله ۳۳ بار الحمد لله ۳۴ بار الله اکبر

- ◀ جدول کلمات
- ◀ واژه‌شناسی
- ◀ کارها و مکان‌های مختلف مدرسه
- ◀ آشنایی با حضرت زهرا (س)

- ◀ جمع و تفریق لראیندی
- ◀ جمع و تفریق ذهنی
- ◀ جمع و تفریق تقریبی
- ◀ اجزای گیاهان
- ◀ انواع ریشه

شناختن شاخص‌ها

- ◀ خیار خوب
- ◀ خوب
- ◀ نان فکون
- ◀ بار به پیش پیش

